



الجمهورية الجزائرية الديمقراطية الشعبية

الديوان الوطني للامتحانات والمسابقات
الدورة الاستثنائية: 2017



وزارة التربية الوطنية
امتحان بكالوريا التعليم الثانوي
الشعبة: تسيير واقتصاد

المدة: 03 سا و 30 د

اختبار في مادة: التاريخ والجغرافيا

على المترشح أن يختار أحد الموضوعين الآتيين:

الموضوع الأول

يحتوي الموضوع الأول على 03 صفحات (من الصفحة 1 من 6 إلى الصفحة 3 من 6)

التاريخ:

الجزء الأول: (06 نقاط)

(1) "...بعد ذلك جرت محاولة لوضع بعض القواعد العامة لهاتين الهيئتين، حيث اعتبر المجلس الوطني للثورة بمثابة برلمان لجبهة التحرير الوطني يخول له الأمر بوقف إطلاق النار أو الدخول في المفاوضات ... يجتمع مرة كل سنة بدعوة من لجنة التنسيق والتنفيذ".

المرجع: محمد حربي - الأسطورة والواقع ص 166

المطلوب: اشرح ما تحته خط في النص.

(2) عرّف بالشخصيات التالية:

- أحمد بن بلة - شي غيفارا.

(3) على خريطة العالم المرفقة وقّع بؤرتي التوتر التالية:

- أزمة كوريا - أزمة كوبا.

الجزء الثاني: (04 نقاط)

حسب تصريحات زعماء حركة عدم الانحياز فإن سياسة عدم الانحياز ليست موجهة ضد أي من القطبين الدوليين أو أية دولة أو نظام اجتماعي وأنّ اللانحيازية في التطبيق ستسهم في التخفيف من حدة الصراع الدولي ومن شأنها الحفاظ على السلام العالمي.

المطلوب: انطلاقا من الفقرة واعتمادا على ما درست، اكتب مقالا تاريخيا تبين فيه:

(1) الظروف المحيطة بتأسيس حركة عدم الانحياز.

(2) دور الحركة في ظل النظام الدولي الجديد.



الجغرافيا:

الجزء الأول: (06 نقاط)

(1) "... فإنّ المساعدات المقدمة من طرف الدول المتقدمة، تشهد في الوقت الحاضر تراجعاً وإعادة النظر في العملية التي تناقصت مواردها من 01 % إلى 0.7 % وقد تمّ حسابها على أساس الدخل القومي الخام بالنسبة للدول الغنية، غير أنها لم يتم تحقيقها عملياً. وتتمثل المبادرة الجديدة لمجموعة (الـ 8) الثمانية في كندا، جويلية 2002 في إعادة النظر في الإجراءات العملية لتلك المساعدات بهدف تجنب سوء تسييرها ميدانياً "

المصدر: الكتاب المدرسي السنة الثالثة ثانوي جغرافيا ص 154.

المطلوب: اشرح ما تحته خطّ في النصّ.

(2) إليك جدولاً يمثل إنتاج القمح لبعض الدول سنة 2014.

الوحدة / مليون طن.

الدول	الصين	الو م أ	كندا	أوكرانيا	روسيا	أستراليا
كمية الإنتاج	122	55	29	20	51	25.5

المصدر: المجلس العالمي للحبوب: إحصائيات 2014/06/26.

المطلوب:

(أ) مثّل معطيات الجدول بأعمدة بيانية بمقياس: 1 سم لكل 20 مليون طن.

1 سم لكل عمود.

(ب) علّق على الرسم.

الجزء الثاني: (04 نقاط)

لقد شهدت حركة رؤوس الأموال تطورا كبيرا من خلال تعدد مصادرها ومجالات استثمارها وقد ساهم في ذلك التطور الاقتصادي والتكنولوجي وكذا حركة الأفراد ونشاط المؤسسات.

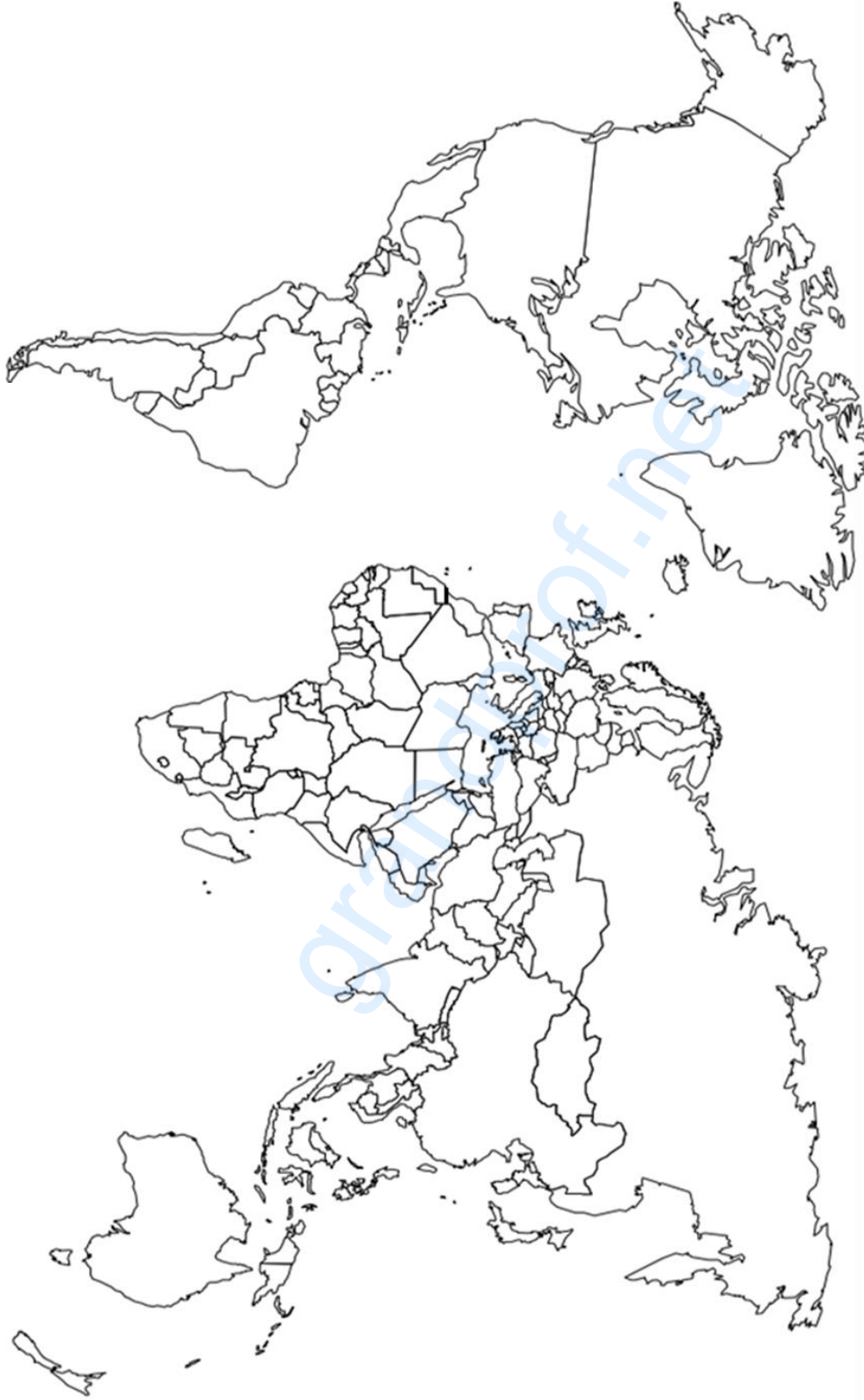
المطلوب: انطلاقاً من العبارة واعتماداً على ما درست، اكتب مقالا جغرافيا تبين فيه:

(1) العوامل التي ساعدت العالم المتقدم على استقطاب أهم التدفقات المالية.

(2) أثر هذا الاستقطاب على اقتصاديات العالم المتقدم.



خريطة العالم



انتهى الموضوع الأول

ينجز العمل المطلوب على الخريطة وتعاد مع أوراق الإجابة



الموضوع الثاني

يحتوي الموضوع الثاني على 03 صفحات (من الصفحة 4 من 6 إلى الصفحة 6 من 6)

التاريخ:

الجزء الأول: (06 نقاط)

1 " ... ولم تكتف الولايات المتحدة بإعلان مبدأ ترومان وتطبيق مشروع مارشال، بل أعلنت في سنة 1947 عن استراتيجية جديدة لمواجهة الاتحاد السوفياتي مباشرة عرفت فيما بعد بـ سياسة الاحتواء التي قدّمها ونظّر لها الدبلوماسي الأمريكي المعروف جورج كينان ... "

المرجع: د عبد الخالق عبد الله، العالم المعاصر والصراعات الدولية، ص 63.

المطلوب: اشرح ما تحته خطّ في النصّ.

2) عرّف بالشخصيات التالية:

- جوزيف بروز تيتو - المهاتما غاندي .

3) أكمل الجدول التالي:

الحدث	تاريخه	انعكاساته
تأميم قناة السويس
.....	16 مارس 1946

الجزء الثاني: (04 نقاط)

" ... يرى معظم المؤرخين وجميع الذين كتبوا في تاريخ الجزائر المعاصر حتى اليوم، أن أحداث ماي 1945 هي التي أنضجت فكرة الكفاح المسلح في الاتجاه الاستقلالي وشكّلت القاعدة الأساس لانطلاق ثورة نوفمبر 1954... " .
المرجع: محمد العربي الزييري، تاريخ الجزائر المعاصر، ج1، ص 100.

المطلوب: انطلاقا من الفقرة واعتمادا على ما درست، اكتب مقالا تاريخيا تبين فيه:

1) ظروف أحداث 08 ماي 1945 في الجزائر .

2) أثرها في اندلاع الثورة التحريرية في الجزائر .



الجغرافيا:

الجزء الأول: (06 نقاط)

(1) "...إنّ النمو المتزايد لمنطقة شرق وجنوب شرق آسيا قد يشكل خطر التسارع حتى ولو كان التضخم الحالي عاديا (3.9% في الصين سنة 2004)...، وقد تخلصت آسيا تدريجيا من التبعية لصادراتها التي بلغت أوجها وأصبح بإمكانها الاعتماد على السوق الداخلية التي شهدت اندماجا تجاريا إقليميا، وأصبحت المنطقة مركز جلب التدفقات المالية بشكل كبير."

المرجع: الكتاب المدرسي السنة الثالثة ثانوي جغرافيا ص 103.

المطلوب: اشرح ما تحته خط في النص.

(2) إليك جدولا يمثل نسب حصة الاتحاد الأوروبي من الصادرات العالمية لمنتجات التكنولوجيا العالية.

المنتج	صناعة جيوفضائية	عتاد عسكري	منتجات كيميائية	أدوية	معدات وتجهيزات علمية
الحصة %	33	21	22	44	20

المرجع: المفوضية الأوروبية 2010.

المطلوب: علق على معطيات الجدول.

(3) وقّع على خريطة أوروبا المرفقة ثلاث دول الأكثر مساهمة في الصناعة ذات التكنولوجيا العالية.

الجزء الثاني: (04 نقاط)

"...وبالنظر إلى أهمية قطاع النفط في الاقتصاد العربي عموما والجزائري خصوصا فإن العائدات النفطية تشكل العمود الفقري في أغلب اقتصاديات الدول العربية والمحرك الأساسي لعملية التنمية فيها وتشكل الجزائر مثلا حيا على ذلك، وفي ضوء التطورات التي شهدتها أسعار النفط خلال الفترة (2000 - 2009) فقد انعكس ذلك على الموازنة العامة للدول العربية كالجزائر من خلال تأثيرها على الإيرادات والنفقات العامة"

المرجع: إبراهيم بلقطة، مجلة الباحث، كلية العلوم الاقتصادية، جامعة الشلف (بتصرف).

المطلوب: انطلاقا من الفقرة واعتمادا على ما درست، اكتب مقالا جغرافيا تبين فيه:

(1) دور النفط بالنسبة للاقتصاد الجزائري.

(2) تداعيات انهيار أسعاره على التنمية في الجزائر.



اختبار في مادة: التاريخ والجغرافيا / الشعبة: تسيير واقتصاد / بكالوريا استثنائية 2017

خريطة أوروبا



ينجز العمل على الخريطة وتعاد مع أوراق الإجابة

انتهى الموضوع الثاني

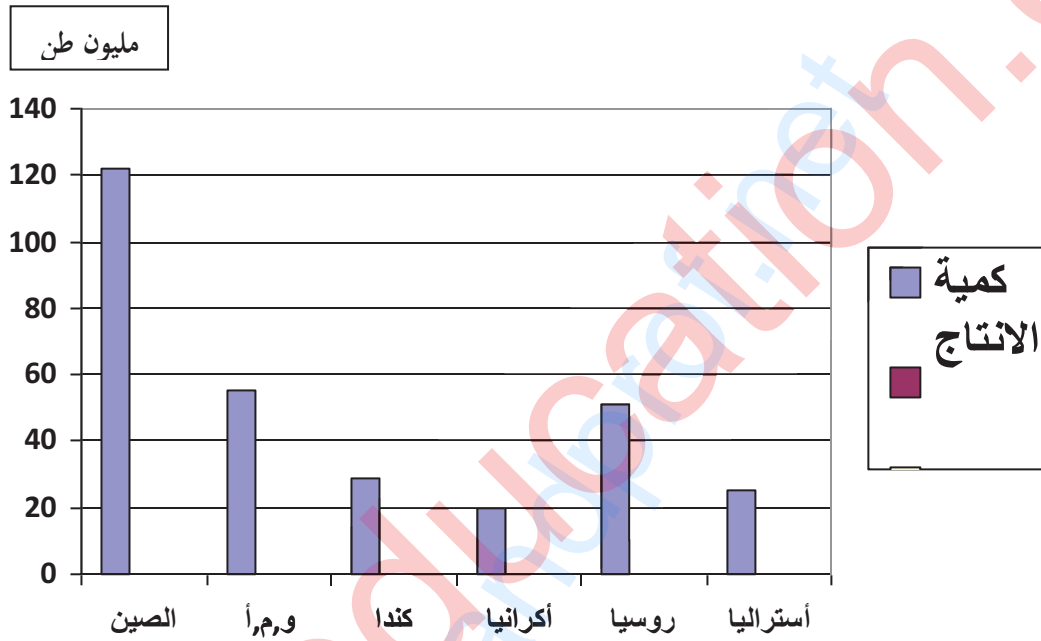
العلامة		عناصر الإجابة
مجموع	مجزأة	
		<u>الموضوع الأول</u>
		<u>التاريخ</u> <u>الجزء الأول :</u>
		(1) <u>شرح ما تحته خط في النص:</u> - <u>المجلس الوطني للثورة</u> : جهاز و طني تنظيمي انبثق عن مؤتمر الصومام يعد بمثابة برلمان الثورة يتكون من 34عضو من صلاحياته التفاوض و اتخاذ القرار الحاسمة .
01		- <u>لجنة التنسيق والتنفيذ</u> : جهاز تنظيمي انبثق عن مؤتمر الصومام 1956يعد بمثابة الهيئة التنفيذية للثورة يتكون من 5 أعضاء مهمته التنسيق بين الولايات وتنفيذ قرارات المجلس الوطني .
01		(2) <u>التعريف بالشخصيات :</u> - <u>أحمد بن بله</u> : (1918- 2012) عضو حركة الانتصار للحريات الديمقراطية والمنظمة الخاصة، من ضمن الخمسة الذين اختطفوا في حادثة الطائرة في 22/10/1956، أول رئيس للدولة الجزائرية المستقلة من 1962/1965.
01		- <u>أرنستو تشي غيفارا</u> : (1928- 1967) ثائر شيوعي مناهض للسياسة الامبريالية من أصل أرجنتيني حارب إلى جانب كاسترو أثناء الثورة الكوبية في نهاية الخمسينات من القرن الماضي اغتيل ببوليفيا في 1967.
06		(3) <u>التوقيع على خريطة العالم:</u> - الإنجاز: - العنوان: - المفتاح:
	01	
	0.50	
	0.50	
		<u>الجزء الثاني :</u>
	0.50	- <u>مقدمة</u> : حركة عدم الانحياز بين الضرورة و الاختيار. (1) <u>الظروف المحيطة بتأسيس حركة عدم الانحياز :</u> - انقسام العالم ايدولوجيا إلى معسكرين. - اشتداد الحرب الباردة وتدهور العلاقات الدولية. - سياسة الأحلاف العسكرية والسباق نحو التسليح النووي.... - استقلال العديد من دول العالم الثالث (الأوضاع الاقتصادية والاجتماعية المتدهورة). - تزايد محاولات الهيمنة والاحتواء لدول العالم الثالث تحت شعارات متعددة. - التقارب الأفرو آسيوي (مؤتمر باندونغ 1955) .
	×0.25	
	6	
		(2) <u>دور الحركة في ظل النظام الدولي الجديد :</u> - *محاولة التكيف مع الوضع الجديد لمواصلة جهودها للتصدي للمشاكل التي تواجه بلدان العالم الثالث: - حماية استقلال أعضائها في ظل تحول طبيعة الصراع. - مواجهة تداعيات النظام الدولي الجديد (القطبية الأحادية). - التصدي للاحتكارات الكبرى في الميدان الاقتصادي . - دعم عمل المنظمات الدولية و الحلولة دون تميعها. - العمل على حل المشاكل الإقليمية بالطرق السلمية. - <u>خاتمة</u> : حركة عدم الانحياز مطالبة بالتكيف مع مستجدات الأوضاع الدولية .
04		
	×0.25	
	6	
	0.50	
		<u>الجغرافيا</u> <u>الجزء الأول :</u>
		(1) <u>شرح ماتحته خط في النص :</u> - <u>الدول المتقدمة</u> : الدول التي يقع معظمها شمال دائرة العرض 40 شمالا تتميز بالنفوق الاقتصادي والرفاهية الاجتماعية و التطور التكنولوجي .
	0.50	
	0.50	- <u>الدخل القومي الخام</u> : هو مجمل قيمة السلع والخدمات التي تنتج داخل وخارج بلد ما خلال سنة معينة .
	0.75	- <u>مجموعة (الـ 8) الثمانية</u> : وهي الدول الصناعية الكبرى، ذات المستوى العالي من الرفاهية (الـوم.أ ، فرنسا ، بريطانيا ، ألمانيا ، إيطاليا، كندا، اليابان) مضاف إليهم روسيا .

		<p>(2) التمثيل البياني والتعليق :</p> <p>(أ) التمثيل البياني : (أعمدة بيانية).</p> <p>- الإنجاز : - العنوان : - المفتاح : - المقياس:</p> <p>(ب) التعليق على الرسم :</p> <p>- يمثل الجدول أرقام إحصائية لكمية إنتاج القمح لبعض بلدان العالم سنة 2014. - تفاوتت كمية الإنتاج من دولة إلى أخرى . - معظم الإنتاج يتركز في الدول المتقدمة لوفرة الإمكانيات المادية والبشرية وبغية التصدير. - ضخامة الإنتاج في الصين لشساعة المساحة الصالحة للزراعة والعمل على تحقيق الاكتفاء .</p> <p>الجزء الثاني :</p> <p>- مقدمة : بفضل منظومته الاقتصادية المتطورة شكل العالم المتقدم بيئة جاذبة لرؤوس الأموال .</p> <p>(1) العوامل التي ساعدت العالم المتقدم على استقطاب أهم التدفقات المالية :</p> <p>- الاستقرار السياسي. - وجود شبكة بنوك كثيفة ومتطورة وارتفاع قيمة العملات.. - الشفافية الاقتصادية ، مرونة القوانين و الإجراءات الإدارية . - وفرة الإمكانيات (يد عاملة مؤهلة ، بنيات تحتية متطورة ...) . - اتساع السوق الاستهلاكية - إمكانية تحقيق أرباح من خلال نشاطات الاستثمار.</p> <p>(2) أثر هذا الاستقطاب على اقتصاديات العالم المتقدم :</p> <p>- تراكم رؤوس الأموال . - تطوير أداة إنتاج و مضاعفة المردود الذي انعكس على تطور حجم الصادرات. - توسيع قاعدة الشغل وخفض مستويات البطالة . - تنشيط الحركة الاستثمارية في جميع القطاعات الاقتصادية و الخدمية . - زيادة النفوذ الاقتصادي. - التحكم في الاقتصاد العالمي.</p> <p>- خاتمة : الضخ العكسي للثروة من العالم الثالث نحو العالم المتقدم ضاعف الهيمنة على دوليب الاقتصاد العالمي . ملاحظة: (تقبل الاجابات الصحيحة الأخرى)</p>
06	01.50 0.25 0.25 0.25	
	4×050	
04	0.50 ×0.25 6 ×0.25 6 0.50	

أعمدة بيانية تمثل إنتاج القمح لبعض الدول في العالم سنة 2014

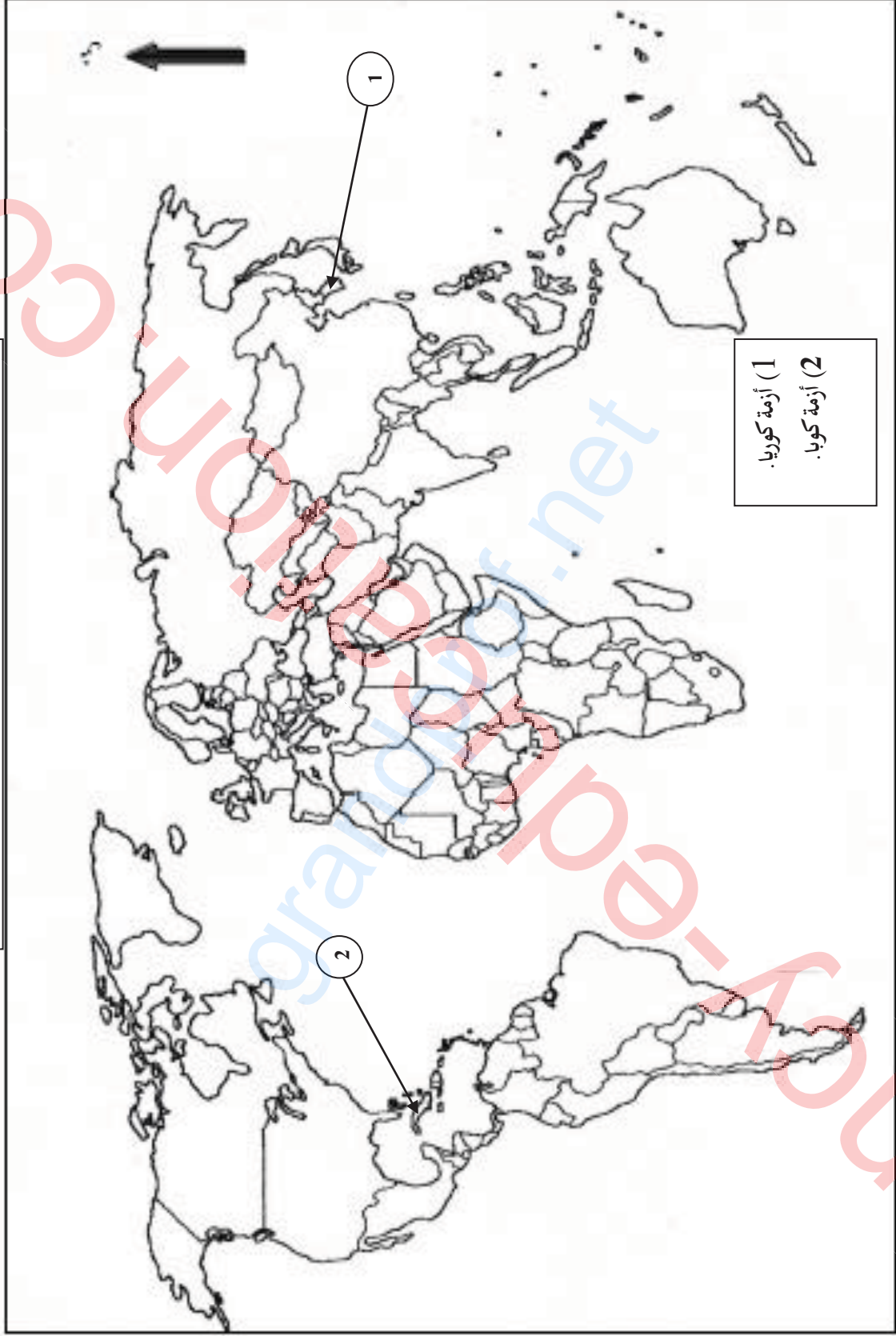
1 سم = 20 م/ط

1 سم = عمود



الإجابة النموذجية وسلم التقيط لموضوع امتحان البكالوريا دورة استثنائية 2017
اختبار مادة: التاريخ و الجغرافيا / الشعبة : تسيير واقتصاد.

خريطة العالم: توقيع بؤرتي التوتر (بين المعسكرين) أزمة كوريا، أزمة كوبا.



العلامة		عناصر الإجابة									
مجموع	مجزأة										
		الموضوع الثاني									
		التاريخ									
		الجزء الأول									
		(1) شرح ما تحته خط في النص:									
	01	- مبدأ ترومان: مبدأ أعلن عنه الرئيس الأمريكي هاري ترومان يوم 12 مارس 1947 ويعتبر تجسيدا واقعيا لسياسة الاحتواء، يتضمن مساعدات عسكرية ومالية قدرت بـ 400 مليون دولار استفادت منها تركيا واليونان.									
	01	- سياسة الاحتواء: سياسة أمريكية تقوم على فكرة إنشاء سلسلة من الأحلاف والقواعد العسكرية والمساعدات الاقتصادية... تهدف إلى كسب حلفاء وتطوير الاتحاد السوفيتي ومنع انتشار إيديولوجيته إلى الدول المجاورة وغيرها... (2) التعريف بالشخصيات:									
06	01	- جوزيف بروز تيتو (1892-1980) سياسي يوغسلافي، انخرط في الجذب الشيوعي اليوغوسلافي، قادة المقاومة ضد الاحتلال الألماني أثناء الحرب العالمية الثانية، رئيس يوغسلافيا (1945-1980)، من أبرز مؤسسي حركة عدم الانحياز.									
	01	- المهاتما غاندي: (1869-1948) زعيم سياسي هندي، دعا إلى الاعتماد على الأساليب السلمية في مقاومة الاحتلال البريطاني (المقاطعة الاقتصادية، الاضرابات...) قتل من طرف متطرف هندوسي سنة 1948.									
		(3) إكمال الجدول:									
		<table border="1"> <thead> <tr> <th>الحدث</th> <th>تاريخه</th> <th>انعكاساته</th> </tr> </thead> <tbody> <tr> <td>تأميم قنات السويس</td> <td>26 جويلية 1956</td> <td>سيادة مصر على القناة العدوا الثلاثي على مصر أزمة السويس بين الاتحاد السوفياتي والغرب.</td> </tr> <tr> <td>قانون العفو العام في الجزائر</td> <td>16 مارس 1946</td> <td>إطلاق سراح المعتقلين السياسيين الجزائريين، عودة النشاط السياسي في الجزائر وإعادة بناء الحركة الوطنية</td> </tr> </tbody> </table>	الحدث	تاريخه	انعكاساته	تأميم قنات السويس	26 جويلية 1956	سيادة مصر على القناة العدوا الثلاثي على مصر أزمة السويس بين الاتحاد السوفياتي والغرب.	قانون العفو العام في الجزائر	16 مارس 1946	إطلاق سراح المعتقلين السياسيين الجزائريين، عودة النشاط السياسي في الجزائر وإعادة بناء الحركة الوطنية
الحدث	تاريخه	انعكاساته									
تأميم قنات السويس	26 جويلية 1956	سيادة مصر على القناة العدوا الثلاثي على مصر أزمة السويس بين الاتحاد السوفياتي والغرب.									
قانون العفو العام في الجزائر	16 مارس 1946	إطلاق سراح المعتقلين السياسيين الجزائريين، عودة النشاط السياسي في الجزائر وإعادة بناء الحركة الوطنية									
		الجزء الثاني:									
	0.50	مقدمة: عاش الشعب الجزائري مأس عديدة وشديدة الوطأة في ظل السيطرة الاستعمارية منها مجازر ماي 1945.									
		(1) ظروف أحداث 8 ماي 1945 في الجزائر:									
		- احتفالات الأوربيين بانهزام دول المحور وانتصار دول الحلفاء.									
		- مشاركة الشباب الجزائري في الحرب ع 2 إلى جانب الحلفاء.									
		- الوعود الفرنسية بتحسين الأوضاع في الجزائر.									
		- رغبة الشعب الجزائري في الحرية والاستقلال.									
		- انتهاج الاستعمار سياسة قمع الحريات (الاعتقالات، حل الأحزاب، مجازر ضد المتظاهرين العزل...).									
		- خروج الشعب الجزائري في مظاهرات مطالبة بالحرية حق تقرير المصير وتنفيذ الوعود.									
		(2) أثرها في اندلاع الثورة التحريرية في الجزائر:									
		- أظهرت النوايا الحقيقية للاستعمار رغم التصريحات الإغرائية للسلطات الفرنسية.									
		- ترسيخ فكرة استرجاع الحرية بالقوة بعد استنفاد كل الوسائل السلمية.									
		- ظهور المنظمة الخاصة (15 فيفري 1947) أجل التحضير للثورة.									
		- تصاعد شعبية التيار الاستقلالي (حركة الانتصار للحريات الديمقراطية، أنصار الاتجاه الثوري).									
		- تأسيس جبهة الدفاع عن الحرية في 05/08/1951 وضمت عدة تيارات لمواجهة السياسة القمعية الفرنسية.									
		- ظهور اللجنة الثورية للوحدة والعمل 23 مارس 1954، تخلي بعض المناضلين عن التردد في تفجير الثورة المسلحة وكان اجتماع مجموعة 22 ثم اجتماع لجنة الستة و الاعلان عن الكفاح المسلح.									
		خاتمة: يقدر ما تحمله هذه الأحداث من آلام للشعب الجزائري فإنها دفعته إلى البحث عن وسيلة للتخلص من ظلم									
	0.50										
04	6×0.25										
	6×0.25										
	0.50										

		<p>الاستعمار الفرنسي.</p> <p>الجغرافيا - الجزء الأول</p> <p>(1) شرح ما تحته خط في النص:</p> <p>- الاتحاد الأوروبي: تكتل اقتصادي وسياسي ظهر بمقتضى معاهدة ماستريخت 1992/02/07 يضم حاليا 27 دولة.</p> <p>- المبادلات التجارية: تتمثل في حركة البيع والشراء لمختلف السلع والبضائع، ترصد عموما في نشاطين أساسيين هما: التصدير والاستيراد.</p> <p>- تكتل: هو توحيد لكل الإمكانيات المتوفرة في دولتين أو أكثر واستغلالها باستراتيجية مشتركة لرفع القدرة الإنتاجية، وقد يكون التكتل سياسيا واقتصاديا وعسكريا.</p>
06	0.75 0.50 0.75	<p>(2) التعليق على معطيات الجدول:</p> <p>- معطيات إحصائية لنسب مساهمة دول الاتحاد الأوروبي في الصادرات العالمية من المنتجات المصنعة ذات التكنولوجيا المتطورة (العالية الجودة) :</p> <p>- تباين نسبة المساهمة في الصادرات الصناعية لدول الاتحاد الأوروبي.</p> <p>- رغم تباين النسبة من منتج لآخر فإن نسبة مساهمته في تصدير هذه المنتجات معتبرة لا تقل عن خمس الصادرات العالمية خاصة في مجال الأدوية (44%) والصناعة الفضائية (33%).</p> <p>ويرجع ذلك إلى أهمية الصناعة اقتصاديا لبلدان الاتحاد الأوروبي والتطور التكنولوجي الذي تعرفه.</p> <p>(3) التوقع على الخريطة: (خريطة أوروبا)</p>
	02 01.50 0.25 0.25	<p>- الإنجاز :</p> <p>- العنوان :</p> <p>- المفتاح :</p> <p>الجزء الثاني مقدمة: يعتمد الاقتصاد الجزائري بشكل أساسي على المحروقات ، فما دور النفط في الاقتصاد الجزائري، وما تداعيات انهيار الأسعار على التنمية في الجزائر؟</p> <p>(1) دور النفط بالنسبة للاقتصاد الجزائري:</p> <p>- المصدر الأساسي للدخل الوطني الخام.</p> <p>- المساهمة في تطوير الصناعة (الصناعة النفطية: تكرير البترول، تمييع الغاز، صناعة بيتروكيماوية)</p> <p>- المحرك الأساسي لعملية التنمية (توسيع المشاريع الاقتصادية، توفير مناصب شغل...).</p> <p>- تنشيط حركة المبادلات التجارية.</p> <p>- التخلص أو التخفيف من عجز الموازين (التجاري، المدفوعات)</p> <p>- تطوير الهياكل القاعدية (المواصلات، الخدمات، المصانع...).</p>
04	6 x 0.25 6 x 0.25 0.50	<p>(2) تداعيات انهيار أسعار النفط على التنمية الجزائرية:</p> <p>- تراجع عائدات النفط المالية ومنه إيرادات الخزينة العمومية.</p> <p>- تقلص حجم الواردات والعجز عن توفير الاحتياجات الضرورية (مواد غذائية مواد مصنعة..).</p> <p>- تعديل الميزانية وسياسة الإنفاق (زيادة حجم الضرائب، رفع الدعم...).</p> <p>- تراجع في وتيرة التنمية في الجزائر (تعديل البرامج التنموية: إلغاء بعض المشاريع ، وتوقف مشاريع أخرى).</p> <p>- تراجع مستوى المعيشة نتيجة تدهور القدرة الشرائية (البطالة وانخفاض الأجور).</p> <p>- بروز مشكلة المديونية من جديد.</p> <p>خاتمة : النفط هو المحرك الأساسي لعملية التنمية وأساس النمو والتطور، وانهيار أسعاره يهدد الجزائر بالشلل الاقتصادي.</p> <p>ملاحظة: (تقبل الإجابات الصحيحة الأخرى)</p>

خريطة أوروبا: توقيع الدول الأوروبية الأكثر مساهمة في الصناعة ذات التكنولوجيا العالية

