



الجمهورية الجزائرية الديمقراطية الشعبية
وزارة التربية الوطنية



دورة: 2020

الديوان الوطني للامتحانات والمسابقات
امتحان بكالوريا التعليم الثانوي
الشعبة: تسيير واقتصاد

المدة: 03 سا و 30 د

اختبار في مادة: التاريخ والجغرافيا

على المترشح أن يختار أحد الموضوعين الآتيين:

يحتوي الموضوع الأول على (03) صفحات (من الصفحة 1 من 6 إلى الصفحة 3 من 6)

الموضوع الأول

التاريخ

الجزء الأول: (06 نقاط)

(1) " ... إنَّ الموقف الذي اتخذته حركة انتصار الحريات الديمقراطية من المنظمة الخاصة على إثر اكتشافها اتسم بالتخلي والتنكر والتحلل منها، ومن المعروف أنَّ هاته المنظمة أنشئت بقرار من المؤتمر، وتعتبر جزءاً لا يتجزأ من الحركة، فهي تمثل تنظيمها العسكري الذي يتهياً ويعدّ للبدء في الكفاح المسلح."

المرجع: قضايا ودراسات في تاريخ الجزائر د/ جمال قنّان، المتحف الوطني للمجاهد (الجزائر) 1994، ص 228.

المطلوب: اشرح ما تحته خط في النص.

(2) عزّف بالشخصيات التالية:

- حسين آيت أحمد. - هاري ترومان.

(3) على خريطة العالم المرفقة وقّع الأزمات الدولية التالية:

- أزمة برلين - أزمة كوريا. - أزمة السويس.

الجزء الثاني: (04 نقاط)

إنَّ الصّراع على مناطق النفوذ بين الكتلتين الشرّقية بزعامة الاتّحاد السّوفياتي والغربية بزعامة الولايات المتّحدة الأمريكية جعل من العالم الثالث مسرحاً لبؤر التوتّر هدّدت أمن شعوبه.

المطلوب: انطلاقاً من العبارة واعتماداً على ما درست، اكتب مقالا تاريخيا تبين فيه:

(1) طبيعة الصّراع بين الكتلتين.

(2) انعكاسات الصّراع على العالم الثالث.



الجغرافيا

الجزء الأول: (06 نقاط)

(1) "... إنَّ أهم نتيجة لإزالة الحواجز الجمركية تتمثل في غزو منتجات البلدان الثرية لأسواق بلدان الجنوب التي تفتقد منتجاتها لإمكانات المنافسة في السوق العالمية، وحتى عندما تتوفر لها تلك الإمكانيات مثلما هو عليه الحال بالنسبة للمنتجات النسيجية والفلاحية، فإنها تتعرض لنظام المحاصصة، أو هي تجبر على منافسة منتجات بلدان الشمال المدعومة من طرف حكوماتها، وحتى عندما توجد خلافات تجارية تعرض على منظمة التجارة العالمية..."

المرجع: جون زيغلر، مقابلة صحفية. مجلة *courrier international*، عدد 02 ديسمبر 2002.

المطلوب: اشرح ما تحته خط في النص.

(2) إليك جدولاً يمثل نسب أكبر مصدري الغاز الطبيعي للاتحاد الأوروبي لسنة 2018:

الدول	روسيا	النرويج	الجزائر	قطر	بلدان أخرى
النسب (%)	40.6	38.8	10.7	4.9	05

المصدر: Eurostat أول ثلاث أشهر من عام 2018.

المطلوب: مثل المعطيات الإحصائية الواردة في الجدول بدائرة نسبية بمقياس رسم: نصف القطر 04 سم.

(3) علّق على الرسم (الدائرة النسبية).

الجزء الثاني: (04 نقاط)

رغم التقدّم الاقتصادي والرقي الاجتماعي اللذان يميزان عالم الشمال اليوم، إلاّ أنّه مازال يواجه العديد من المشاكل.

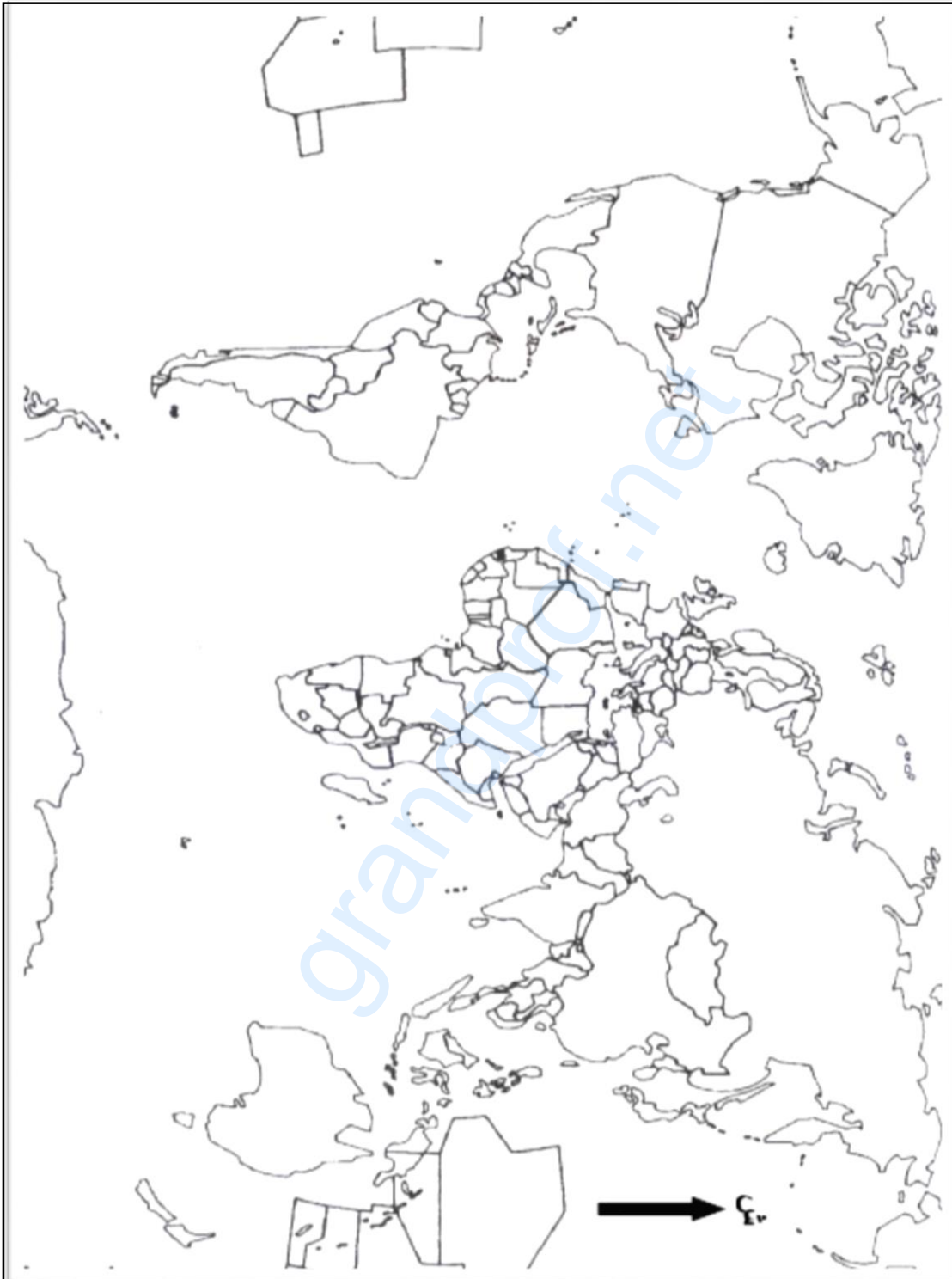
المطلوب: انطلاقاً من العبارة واعتماداً على ما درست، اكتب مقالا جغرافيا تبين فيه:

(1) مظاهر التقدّم الاقتصادي والاجتماعي لعالم الشمال.

(2) المشاكل التي تواجهه.



خريطة العالم



ينجز العمل المطلوب على الخريطة وتعاد مع أوراق الإجابة

انتهى الموضوع الأول



الموضوع الثاني

يحتوي الموضوع الثاني على (03) صفحات (من الصفحة 4 من 6 إلى الصفحة 6 من 6)

التاريخ

الجزء الأول: (06 نقاط)

(1) "...هذا وقد انعكس الانفراج الذي شهدته علاقات القطبين خلال مرحلة التعايش السلمي على أداء منظمة الأمم المتحدة ... كما أظهر القطبان قدرا من التفاهم والتعاون بهدف احتواء الأزمات الدولية...".
المرجع: ممدوح منصور وأحمد وهبان، التاريخ الدبلوماسي للعلاقات السياسية بين القوى الكبرى 1915/1991، ص 281.

المطلوب: اشرح ما تحته خط في النص.

(2) عرّف بالشخصيات التالية:

- جوزيف بروز تيتو - رونالد ريغن

(3) أكمل الجدول التالي:

التاريخ	الحدث
	مشروع ايزنهاور
19 ماي 1956	

الجزء الثاني: (04 نقاط)

الثورة الجزائرية كحركة تحررية لم تغفل البعد الدولي، لذلك ارتأت أن تدعم الجهود السياسي والعسكري بجهاز دبلوماسي يقبها كل أشكال التعظيم والتشويه.

المطلوب: انطلاقا من العبارة واعتمادا على ما درست، اكتب مقالا تاريخيا تبين فيه:

(1) الجهود السياسي للثورة التحريرية على المستوى الخارجي.

(2) أهداف دبلوماسية الثورة.



الجغرافيا

الجزء الأول: (06 نقاط)

(1) "... يشير المفهوم الاقتصادي للعولمة إلى منظومة من العلاقات الاقتصادية المتشابكة التي تزداد تعقيدا لتحقيق سيادة نظام اقتصادي واحد ... حيث لا قيمة لرؤوس الأموال دون الاستثمارات، ولا قيمة للسلع دون أسواق تستهلكها، فمنذ بدء تطور الشركات متعددة الجنسيات شهدت العولمة تطورا اقتصاديا ومعلوماتيا وأدى هذا التطور إلى الإسراع بتضخم هذه الشركات...".

المرجع: د. نعيمة غالية، إعلام العولمة ومجتمع المعلومات نحو تحديد آليات الهيمنة. العدد 16/2006، ص 43.

المطلوب: اشرح ما تحته خط في النص.

(2) إليك جدولا يمثل الإنتاج اليومي للبترول في بعض دول العالم عام 2017. الوحدة: مليون برميل يوميا.

الدول	الو.م الأمريكية	م.ع.السعودية	روسيا	الصين	العراق	إيران	الإمارات
الإنتاج اليومي	14.86	12.39	11.24	4.87	4.48	4.0	3.75

المرجع: مدخل نظري لأسواق النفط العالمية ص 21 عام 2018.

المطلوب: علق على المعطيات الإحصائية الواردة في الجدول.

(3) على خريطة العالم المرفقة وقع ثلاث دول عضوة في منظمة الأوبك واردة في الجدول.

الجزء الثاني: (04 نقاط)

يشكل الإقليم الشمالي الشرقي القلب النابض لاقتصاد الولايات المتحدة الأمريكية لما يتوفر عليه من إمكانيات ضخمة ومتنوعة.

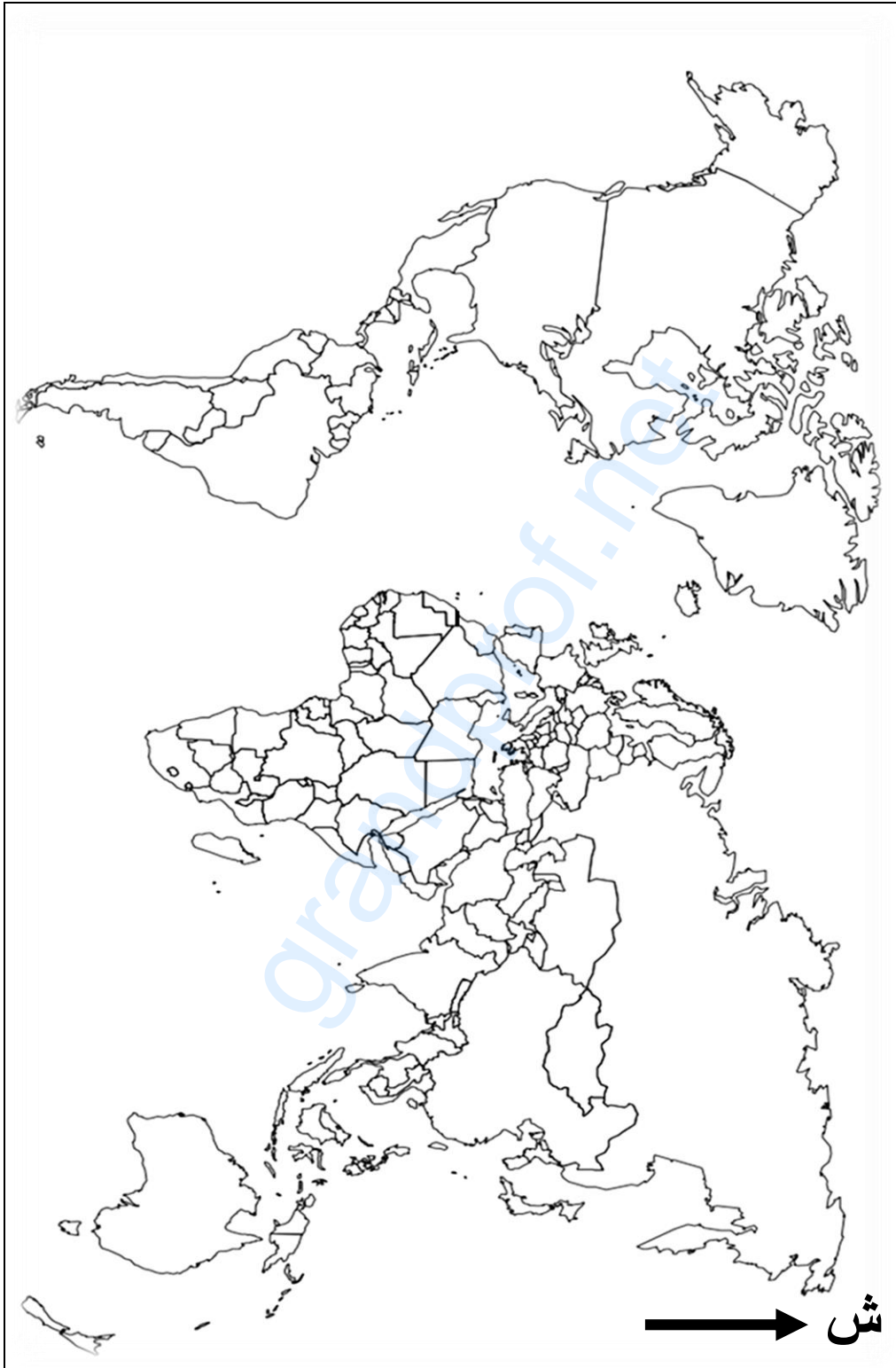
المطلوب: انطلاقا من العبارة واعتمادا على ما درست، اكتب مقالا جغرافيا تبين فيه:

(1) إمكانيات الإقليم الشمالي الشرقي للولايات المتحدة الأمريكية.

(2) دور الإقليم الشمالي الشرقي في اقتصاد الولايات المتحدة الأمريكية.



خريطة العالم



ينجز العمل المطلوب على الخريطة وتعاد مع أوراق الإجابة

انتهى الموضوع الثاني

الإجابة النموذجية لموضوع اختبار مادة: التاريخ والجغرافيا/ الشعب(ة): تسيير واقتصاد/ بكالوريا 2020

العلامة		عناصر الإجابة (الموضوع الأول)
مجموعة	مجزأة	
06		<p>التاريخ الجزء الأول:</p> <p>(1) شرح ما تحته خط في النص:</p> <p>❖ المنظمة الخاصة: الجناح العسكري لحركة انتصار الحريات الديمقراطية، تأسست بتاريخ 1947/02/15 مهمتها الأساسية التحضير للثورة المسلحة من خلال التوعية، الانتقاء، التدريبات، جمع التبرعات والأسلحة، تولى رئاستها محمد بلوزداد واكتشفت عام 1950...</p> <p>❖ الكفاح المسلح: شكل من أشكال المقاومة اعتمدته الثورة الجزائرية ضد الاستعمار الفرنسي بهدف استرجاع السيادة الوطنية، يقوم على استخدام القوة العسكرية، تكفل بتنفيذه جيش التحرير الوطني من 1954 إلى غاية 1962 كّل بوقف إطلاق النار والاستقلال التام...</p> <p>(2) التعريف بالشخصيات التالية:</p> <p>❖ حسين آيت أحمد: (1926 - 2015) مناضل في حزب الشعب، حركة انتصار الحريات الديمقراطية، ثاني رئيس للمنظمة الخاصة بعد محمد بلوزداد، عضو مجموعة التسعة، أحد أعضاء الوفد الخارجي للثورة في القاهرة، اعتقل في حادثة اختطاف الاستعمار الفرنسي لطائرة الزعماء الخمسة عام 1956...</p> <p>❖ هاري ترومان: رئيس الولايات المتحدة الأمريكية (1945 - 1953) له مبدأ باسمه، أحد رموز الحرب الباردة، كان طرفا في عدة أزمات دولية (أزمة برلين الأولى، أزمة كوريا) أمر بإلقاء القنبلتين الذريتين في نهاية الحرب العالمية 2 على اليابان، ساند الهجرة اليهودية إلى فلسطين....</p> <p>(3) الخريطة: التوقيع على خريطة العالم التي تمثل الأزمات الدولية التالية: (أزمة برلين، أزمة كوريا، أزمة السويس)</p> <p>- العنوان: 0.25 ن - المفتاح: 0.25 ن - الانجاز: 1.50 ن</p> <p>الجزء الثاني:</p> <p>مقدمة: صراع الحرب الباردة بين الكتلتين وانعكاساته على العالم الثالث.</p> <p>(1) طبيعة الصراع بين الكتلتين: (تقبل كل مقدمة وظيفية تخدم الموضوع)</p> <p>❖ صراع إيديولوجي عقائدي بين الشيوعية والليبرالية.</p> <p>❖ بروز سياسة الاستقطاب استعمال عدة وسائل وأدوات لتحقيق ذلك.</p> <p>❖ انشاء الأحلاف والقواعد العسكرية.</p> <p>❖ صراع على مناطق النفوذ خاصة في دول الجنوب وتوسع الشيوعية في إفريقيا، آسيا وأمريكا اللاتينية.</p> <p>❖ انتهاج الولايات المتحدة الأمريكية لسياسة ملء الفراغ من جهة ودعم الاتحاد السوفياتي للحركات التحررية والأنظمة الثورية من جهة أخرى.</p> <p>❖ السباق نحو التسلح النووي وغزو الفضاء.</p> <p>(تقبل كل الاجابات الصحيحة الأخرى)</p>
	01	
	01	
	01	
	01	
	02	
	0.5	
	0.25	
	6x	

تابع للإجابة التّمودجية لموضوع اختبار مادة: التّاريخ والجغرافيا/ الشّعب(ة): تسيير واقتصاد/ بكالوريا 2020

العلامة		عناصر الإجابة (الموضوع الأول)
مجموعة	مجزأة	
04	0.25 6×	<p>(2) <u>انعكاسات الصّراع على العالم الثّالث:</u></p> <ul style="list-style-type: none"> ❖ إقحام بلدان العالم الثّالث في هذا الصّراع إذ أصبحت أراضيها مسرحا له (أزمة الفيتنام 1954، السّويس 1956، كوبا 1962). ❖ انتشار الأحلاف والقواعد العسكريّة (حلف جنوب شرق آسيا وحلف بغداد). ❖ تعرّض دوله إلى سياسة الاحتواء من خلال مشاريع اقتصادية (مشروع إيزنهاور 1957) وتكريس الاستعمار الجديد فيها كمناطق نفوذ. ❖ الخسائر الماديّة والبشرية لبلدان العالم الثّالث نتيجة التّدخلات العسكريّة (الحرب الكوريّة...). ❖ ظهور روح التّضامن بين شعوب إفريقيا وآسيا والذي تجسّد في مؤتمر باندونغ ما بين 18 و24 أبريل 1955 وظهور حركة عدم الانحياز 1961. ❖ دعم بلدان العالم الثّالث لسياسة التّعيش السّلمي والانفراج الدّولي.
	0.5	<p><u>خاتمة:</u> تكثّل العالم الثّالث وتبنيّه سياسة التّعايش والحياد الإيجابي لمواجهة صراع الكتلتين. (تقبل كلّ خاتمة وظيفية تخدم الموضوع)</p> <p><u>الجغرافيا</u> <u>الجزء الأول:</u></p> <p>(1) <u>شرح ما تحته خط في النّص:</u></p> <ul style="list-style-type: none"> ❖ <u>الحواجز الجمركية:</u> رسوم ضريبية تفرضها الدّول على البضائع والسّلع الخارجيّة(الأجنبيّة) الواردة إليها لحماية منتجاتها الداخليّة (الوطنية) من المنافسة وتكون منخفضة أو مرتفعة. ❖ <u>منظمة التّجارة العالميّة:</u> منظمة اقتصادية (تجارية) دولية تأسست عام 1995 خلفا للاتفاقيّة العامّة للتعريف الجمركية(الغات) وتعمل على وضع القواعد والقوانين التي تنظم التّجارة الدّولية كما تتولى حلّ النزاعات التّجارية بين الدّول الأعضاء، مقرها جنيف (سويسرا) <p>(2) <u>التمثيل البياني:</u> دائرة نسبية تمثّل نسب أكبر مصدري الغاز الطّبيعي للاتحاد الأوربي - - الانجاز: 1.25 ن - المفتاح: 0.25 ن - المقياس: 0.25 - العنوان: 0.25 ن - <u>حساب الزّوايا:</u></p> <ul style="list-style-type: none"> ✓ روسيا: $40.6\% \times 3.6 = 146.16^\circ$ ✓ النّرويج: $38.8\% \times 3.6 = 139.68^\circ$ ✓ الجزائر: $10.7\% \times 3.6 = 38.52^\circ$ ✓ قطر: $4.9\% \times 3.6 = 17.64^\circ$ ✓ بلدان أخرى: $5\% \times 3.6 = 18^\circ$ <p>(تقبل كلّ الاجابات الصّحيحة الأخرى)</p>
06	02	

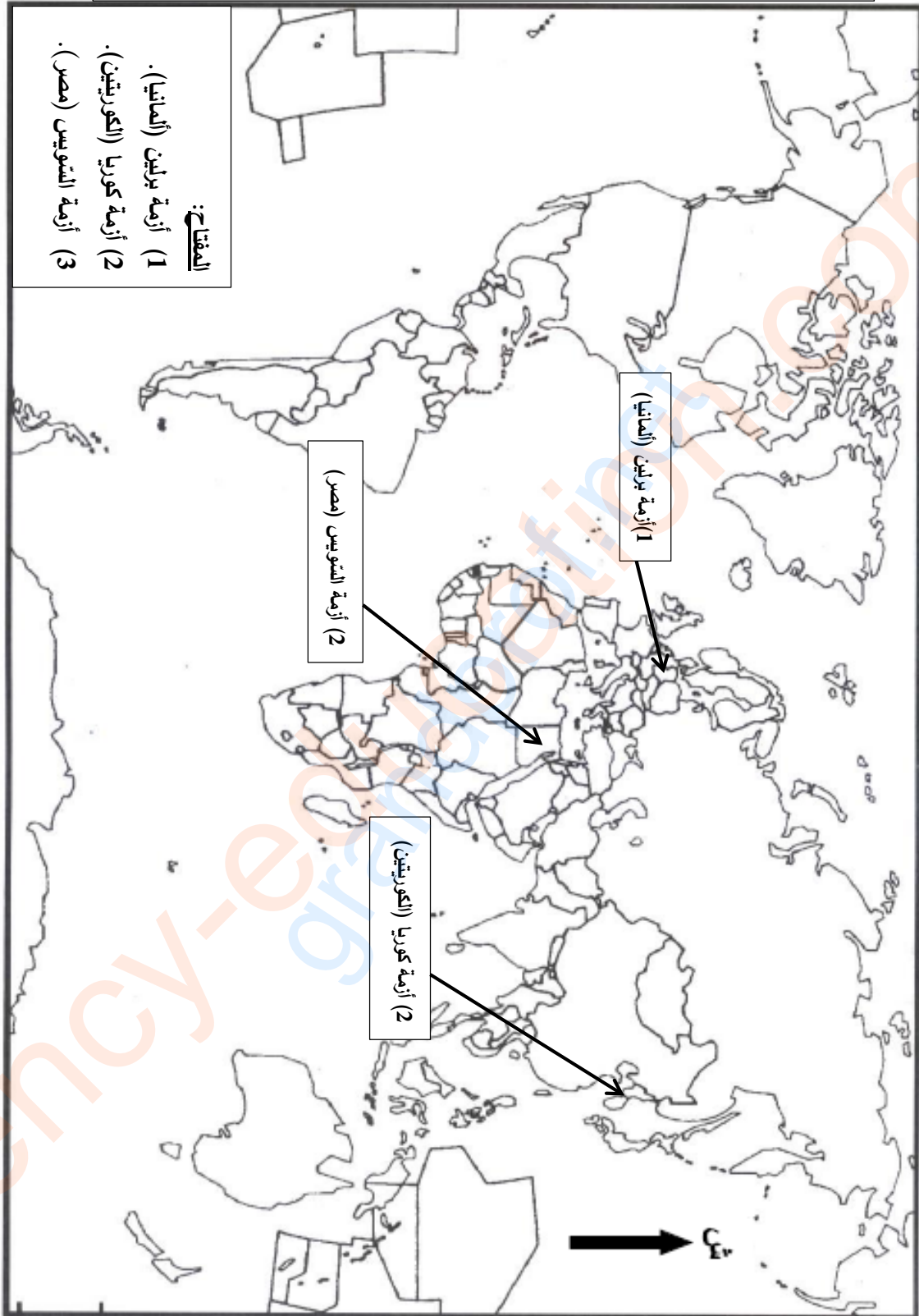
العلامة		عناصر الإجابة (الموضوع الأوّل)																		
مجموعة	مجزأة																			
		<p>العنوان: دائرة نسبية تمثّل أكبر مصدري الغاز الطّبيعي للاتحاد الأوربي عام 2018</p> <div style="display: flex; justify-content: space-between;"> <div style="text-align: center;"> <table border="1"> <caption>بيانات الدائرة النسبية</caption> <thead> <tr> <th>المرتبة</th> <th>الدولة</th> <th>النسبة (%)</th> </tr> </thead> <tbody> <tr> <td>1</td> <td>روسيا</td> <td>40,6%</td> </tr> <tr> <td>2</td> <td>النرويج</td> <td>38,8%</td> </tr> <tr> <td>3</td> <td>الجزائر</td> <td>10,7%</td> </tr> <tr> <td>4</td> <td>قطر</td> <td>4,9%</td> </tr> <tr> <td>5</td> <td>بلدان أخرى</td> <td>5%</td> </tr> </tbody> </table> </div> <div style="border: 1px solid black; padding: 5px;"> <p>المقياس: نصف القطر = 04 سم.</p> <p>المفتاح:</p> <p>(1) روسيا = 40.6%</p> <p>(2) النرويج = 38.8%</p> <p>(3) الجزائر = 10.7%</p> <p>(4) قطر = 4.9%</p> <p>(5) بلدان أخرى = 5%</p> </div> </div> <p>(3) التّعليق على الرّسم البياني (دائرة نسبية) الذي يمثّل نسب أكبر مصدري الغاز الطّبيعي للاتحاد الأوربي عام 2018..</p> <ul style="list-style-type: none"> ❖ تباين في نسب الغاز المصدر إلى الاتحاد الأوربي. ❖ ارتفاع نسب استيراد الاتحاد الأوربي للغاز الطّبيعي بسبب افتقاره لهذه المادّة. ❖ 79.4% من واردات الاتحاد الأوربي تأتي من روسيا والنرويج بسبب القرب الجغرافي ❖ 10.7% من الغاز الطّبيعي الذي تستورده دول الاتحاد الأوربي مصدره الجزائر بسبب العامل الجغرافي والتّاريخي. (تقبل كلّ الاجابات الصّحيحة الأخرى) 	المرتبة	الدولة	النسبة (%)	1	روسيا	40,6%	2	النرويج	38,8%	3	الجزائر	10,7%	4	قطر	4,9%	5	بلدان أخرى	5%
المرتبة	الدولة	النسبة (%)																		
1	روسيا	40,6%																		
2	النرويج	38,8%																		
3	الجزائر	10,7%																		
4	قطر	4,9%																		
5	بلدان أخرى	5%																		
×0.50	4																			

تابع للإجابة النموذجية لموضوع اختبار مادة: التاريخ والجغرافيا/ الشعب(ة): تسيير واقتصاد/ بكالوريا 2020

العلامة		عناصر الإجابة (الموضوع الأول)
مجموعة	مجزأة	
04	0.50	<p><u>الجزء الثاني:</u></p> <p><u>مقدمة:</u> عالم الشمال بين الاستغلال الأمثل للإمكانيات المتوفرة ومواجهة المشاكل المطروحة. (تقبل كل مقدمة وظيفية تخدم الموضوع)</p> <p><u>(1) مظاهر التقدم الاقتصادية والاجتماعية لعالم الشمال:</u></p> <p><u>ب) الاقتصادية:</u></p> <ul style="list-style-type: none"> ❖ ارتفاع الناتج القومي. ❖ ضخامة الإنتاج الصناعي والزراعي. ❖ التحكم في التجارة والأسواق العالمية.
	0.25 6×	<p><u>ج) الاجتماعية:</u></p> <ul style="list-style-type: none"> ❖ ارتفاع الدخل الفردي وتحسن مستوى المعيشة. ❖ تطور الخدمات الصحية والتعليمية. ❖ ارتفاع متوسط العمر وانخفاض نسبة الوفيات.
	0.25 6×	<p><u>(2) المشاكل التي تواجهه:</u></p> <ul style="list-style-type: none"> ❖ التبعية في مجال الطاقة والمواد الأولية. ❖ المنافسة الخارجية (بين دول الشمال، أو من القوى الصاعدة). ❖ الأزمات الاقتصادية والمالية الدورية. ❖ ارتفاع نسبة الشيخوخة. ❖ ارتفاع نسبة البطالة. ❖ الآفات الاجتماعية (الاجرام، المخدرات...).
	0.50	<p><u>خاتمة:</u> رغم تقدم عالم الشمال إلا أنه لا يستطيع تجنب المشاكل التي تواجهه. (تقبل كل خاتمة وظيفية تخدم الموضوع) (تقبل كل الاجابات الصحيحة الأخرى)</p>

تابع للإجابة النموذجية لموضوع اختبار مادة: التاريخ والجغرافيا/ الشعب (ة): تسيير واقتصاد/ بكالوريا 2020

العنوان: خريطة العالم تمثل 03 أزمات دولية في اطار الحرب الباردة



ينجز العمل المطلوب على الخريطة وتعاد مع أوراق الإجابة

تابع للإجابة التّمودجية لموضوع اختبار مادة: التاريخ والجغرافيا/ الشعب(ة): تسيير واقتصاد/ بكالوريا 2020

العلامة		عناصر الإجابة (الموضوع الثاني)						
مجموعة	مجزأة							
06		<p>التاريخ: الجزء الأول:</p> <p>(1) شرح ما تحته خط في النص:</p> <p>❖ منظمة الأمم المتحدة: تنظيم دولي ظهر بعد الحرب العالمية الثانية (24 أكتوبر 1945) مقره نيويورك، يتكون من عدة أجهزة أهمها مجلس الأمن الدولي والجمعية العامة يهدف إلى حفظ الأمن والسلم العالميين.</p> <p>❖ الأزمات الدولية: هي بؤر التوتر التي ميزت العلاقات الدولية خلال الصراع بين المعسكرين (الحرب الباردة) منها: أزمة برلين، أزمة كوريا، أزمة السويس، أزمة كوبا....</p> <p>(2) التعريف بالشخصيات:</p> <p>❖ جوزيف بروز تيتو: رئيس يوغسلافيا، قاول الغزو الألماني خلال الحرب العالمية 2، طبق النظام الشيوعي، من زعماء العالم الثالث، أحد مؤسسي حركة عدم الانحياز في مؤتمر بلغراد يوغسلافيا 1961.</p> <p>❖ رونالد ريغن: رئيس الولايات المتحدة الأمريكية (1981-1988)، أطلق مبادرة الدفاع الاستراتيجي ضد الاتحاد السوفياتي (حرب النجوم) في مشروع يحمل اسمه، انتهج سياسة خارجية متشددة في عام 1983</p> <p>(3) اكمل الجدول التالي:</p> <table border="1" style="margin-left: auto; margin-right: auto;"> <thead> <tr> <th>التاريخ</th> <th>الحدث</th> </tr> </thead> <tbody> <tr> <td>1957/01/05</td> <td>مشروع ايزنهاور</td> </tr> <tr> <td>19 ماي 1956</td> <td>اضراب الطلبة الجزائريين والتحاقهم بالثورة</td> </tr> </tbody> </table>	التاريخ	الحدث	1957/01/05	مشروع ايزنهاور	19 ماي 1956	اضراب الطلبة الجزائريين والتحاقهم بالثورة
	التاريخ	الحدث						
	1957/01/05	مشروع ايزنهاور						
	19 ماي 1956	اضراب الطلبة الجزائريين والتحاقهم بالثورة						
			<p>الجزء الثاني:</p> <p>مقدمة: الثورة التحريرية بين الاستراتيجية السياسية وأهمية العمل الدبلوماسي. (تقبل كل مقدمة وظيفية تخدم الموضوع).</p> <p>(1) المجهود السياسي للثورة التحريرية على المستوى الخارجي:</p> <p>❖ تشكيل الوفد الخارجي للثورة الجزائرية ونشاطاته الدبلوماسية.</p> <p>❖ تأسيس فيدرالية جبهة التحرير الوطني في الخارج.</p> <p>❖ المشاركة بوفد جزائري يمثل الثورة في مؤتمر باندونغ 1955.</p> <p>❖ ادراج القضية الجزائرية في الدورة العاشرة للجمعية العامة للأمم المتحدة 1955.</p> <p>❖ انشاء الحكومة المؤقتة للجمهورية الجزائرية 1958 (واحداد وزارة الخارجية).</p> <p>❖ المشاركة في المهرجانات الثقافية والمنافسات الرياضية (فريق جبهة التحرير الوطني) ودور اذاعة صوت العرب الجزائر الحرة ودور الطلبة.</p> <p>(تقبل كل الإجابات الصحيحة الأخرى)</p>					
		01						
		01						
		01						
		01						
		01						
	01							
	0.50							
	0.25							
	6×							

تابع للإجابة التّمودجية لموضوع اختبار مادة: التاريخ والجغرافيا/ الشعب(ة): تسيير واقتصاد/ بكالوريا 2020

العلامة		عناصر الإجابة (الموضوع الثاني)
مجموعة	مجزأة	
04	0.25 6x	<p>(2) أهداف دبلوماسية الثورة:</p> <ul style="list-style-type: none"> ❖ التعريف بالقضية الجزائرية في المحافل الدولية. (باندونغ، الامم المتحدة، الجامعة العربية، معظم دول العالم...) ❖ فضح السياسة الاستعمارية وكسر التعتيم الإعلامي. ❖ كسب تعاطف الرأي العام العالمي. ❖ عزل فرنسا دبلوماسيا. ❖ إثارة الرأي العام الفرنسي. ❖ الحصول على دعم الدول ماديا ومعنويا.
		<p>خاتمة: التكامل بين البعدين السياسي والدبلوماسي ضرورة لنجاح الثورة. (تقبل كل خاتمة وظيفية تخدم الموضوع).</p> <p>الجغرافيا: الجزء الأول:</p> <p>(1) شرح ما تحته خط في النص:</p> <ul style="list-style-type: none"> ❖ الاستثمارات: توظيف رؤوس الأموال في مشاريع مختلفة (تجارية، زراعية، صناعية...) من أجل تحقيق الربح والفائدة... ❖ الشركات متعددة الجنسيات: شركات عملاقة عابرة للقارات تقع مقراتها بالدول المتقدمة، لها فروع في مختلف مناطق العالم، تهيمن على مختلف الأنشطة الاقتصادية مثل: الشفقيات السبع....
06	0.75 0.50 0.75	<p>(2) التعليق على المعطيات الإحصائية الواردة في الجدول التي تمثل بعض الدول المنتجة للبتترول في العالم عام 2017:</p> <ul style="list-style-type: none"> ❖ الثباين البترول من دولة إلى أخرى في الجدول.... ❖ هيمنة ثلاث دول (الولايات المتحدة الأمريكية، المملكة العربية السعودية، روسيا) على معظم النتاج العالمي نظرا للاحتياطات الضخمة وامكانيات الانتاج الضخمة.... ❖ وجود أربع دول تنتمي لمنظمة الأوبك (المملكة العربية السعودية، العراق، ايران، الامارات)
		<p>(3) الخريطة: التوقع على خريطة العالم 03 دول عضوة في منظمة الأوبك الواردة في الجدول: (المملكة العربية السعودية، العراق، ايران، الامارات العربية المتحدة)</p> <p>- العنوان: 0.25 - المفتاح: 0.25 - الانجاز: 01.50</p> <p>(تقبل كل الإجابات الصحيحة الأخرى)</p>
	02	

تابع للإجابة التّمودجية لموضوع اختبار مادة: التّاريخ والجغرافيا/ الشّعب(ة): تسيير واقتصاد/ بكالوريا 2020

العلامة		عناصر الإجابة (الموضوع الثاني)
مجموعة	مجزأة	
04	0.50	<p>الجزء الثّاني:</p> <p>مقدمة: امكانيات الاقليم الشّمالي الشّرقى ودوره فى الاقتصاد الأمريكى .</p> <p>(تقبل كلّ مقدمة وظيفية تخدم الموضوع).</p> <p>1) امكانيات الاقليم الشّمالي الشّرقى للولايات المتحدّة الأمريكية:</p> <ul style="list-style-type: none"> ❖ يشغل 12% من المساحة الكلية و 42% من السّكان (اليد العاملة وسوق استهلاكية) ❖ المناخ المعتدل الملائم للنشاط البشرى (فى الزّراعة، الصّناعة، التّجارة، الخدمات...) والتّربة الخصبة(السّهول السّاحلية). ❖ يتوفّر على ثروات طبيعىة ضخمة (بتروى، حديد، فحم...) ❖ يتوفّر على مجارى مائية(البحيرات العظمى) السّواحل(الموانئ) توفر البنىات التّحتية المتطورة (الطّرق، الموانئ، الممرات المائية...). ❖ وجود المؤسّسات الماليّة، البورصات، الجامعات، مؤسّسات البحث العلمى والتّكنولوجيا، مقرّات المنظّمات الدّولية (الأمم المتحدّة، صندوق النّقد الدّولى، البنك العالمى.... ❖ الانفتاح على العالم الخارجى خاصّة أوربا وافريقيا....
	0.25	<p>2) دور الاقليم الشّمالي الشّرقى فى اقتصاد الولايات المتحدّة الأمريكية:</p> <ul style="list-style-type: none"> ❖ يساهم بنسبة مرتفعة فى الاقتصاد الأمريكى (زراعة، صناعة، تجارة، خدمات سياحة، مواصلات...) وهو اقليم متكامل. ❖ أكبر اقليم صناعى فى العالم 50% من الانتاج الصناعى الأمريكى. ❖ يساهم فى استقطاب لرؤوس الأموال وقطب مالى عالمى (أكبر تجمع للبنوك والبورصات...). ❖ تتواجد به مقرّات أكبر الشّركات الأمريكية وصاحب القرار السّياسى والاقتصادى. ❖ استفاد من الهجرة الخارجية وتتمركز فيه جلّ الأنشطة الاقتصادية الأمريكية ويوفّر فرص العمل ❖ اقليم زراعى (تربية المواشى، الألبان، الزّراعة الغذائىة...)
	0.25	<p>خاتمة: كان للإقليم الشّمالي الشّرقى الدّور الكبير فى قوة الاقتصاد الأمريكى .</p> <p>(تقبل كلّ خاتمة وظيفية تخدم الموضوع).</p> <p>(تقبل كلّ الإجابات الصّحيحة الأخرى)</p>
	0.50	<p>(تقبل كلّ الإجابات الصّحيحة الأخرى)</p>

العنوان: خريطة العالم تمثل ثلاث دول عضوة في منظمة الأوبك واردة في الجدول

