

الجمهورية الجزائرية الديمقراطية الشعبية

الديوان الوطني للامتحانات والمسابقات

وزارة التربية الوطنية

دورة: جوان 2012

امتحان بكالوريا التعليم الثانوي

الشعبة: لغات أجنبية

المدة: 03 ساعات ونصف

اختبار في مادة: التاريخ والجغرافيا

على المترشح أن يختار أحد الموضوعين التاليين:

الموضوع الأول

أولا: التاريخ

الجزء الأول: (06 نقاط)

جاء في ميثاق الجزائر 1976:

«... فالجزائر تسعى لدعم التضامن في الكفاح ضد الامبريالية والاستعمار، قديمه وجديده. ولهذا فإن جهودها تندرج في إطار الدعم غير المشروط للشعوب المكافحة في سبيل تحريرها الوطني، واحترام حقها في تقرير مصيرها واستقلالها. وتواصل الجزائر كفاحها المستميت لإقامة نظام اقتصادي عالمي جديد، وعلاقات دولية تضمن لكل الدول حق المساهمة في تسوية المشاكل الكبرى المطروحة في هذا العصر.»

الكتاب المدرسي/السنة الثالثة ثانوي/تاريخ/ص235.

المطلوب:

- 1- اشرح ما تحته خط في النص.
- 2- عرّف بالشخصيات التالية: فيدال كاسترو - هوشي مينه - هواري بومدين.
- 3- أكمل جدول الأحداث التالي:

التاريخ	الحدث
1947/06/05
.....	إنشاء اللجنة الثورية للوحدة والعمل.
1956/07/26

الجزء الثاني: (04 نقاط)

حققت الثورة الجزائرية منذ اندلاعها في 01 نوفمبر 1954 إلى 20 أوت 1956 انتصارات عسكرية داخلية ودبلوماسية خارجية معتبرة، مما دفع السلطات الاستعمارية إلى استعمال مختلف الأساليب لإجهاضها.

المطلوب: انطلاقا من الفقرة واعتمادا على ما درست، اكتب مقالا تاريخيا تبرز فيه:

- 1- مظاهر الانتصارات العسكرية والدبلوماسية للثورة الجزائرية للفترة المذكورة في الفقرة.
- 2- ردود فعل الاستعمار الفرنسي للقضاء على الثورة الجزائرية في الفترة 1954/1956.

ثانيا: الجغرافيا

الجزء الأول: (06 نقاط)

«... ومع مرور الوقت بدأ المزيد من الاندماج في الشركات والأسواق والتحرير لكثير من الاقتصاديات، والتدفقات المتنامية للتكنولوجيا، ورؤوس الأموال، والمعلومات والسلع والخدمات، وتراجع السياسات الحمائية ورفع القيود والحواجز الجمركية أمام هذه التدفقات. وقد دعم هذا التوجه وجود آليات تقوي هذه النزعة نحو العولمة، ولعل من أهمها على الإطلاق ... المنظمة العالمية للتجارة...»

الكتاب المدرسي/السنة الثانية ثانوي/جغرافيا/ص122.

المطلوب:

1- اشرح ما تحته خط في النص.

2- الجدول التالي يمثل بعض الدول المصدرة والدول المستهلكة للنفط:

الدول المصدرة	الكمية بمليون طن	الدول المستهلكة	الكمية بمليون طن
المملكة العربية السعودية	302	الصين	245
روسيا	188	اليابان	242
النرويج	141	الهند	97

المصدر: الصور الاقتصادية للعالم 2005

المطلوب:

أ- مثل معطيات الجدول بأعمدة بيانية بمقياس رسم: اسم ← 50 مليون طن.

اسم ← عمود.

ب- على خريطة العالم المرفقة وقّع الدول الواردة في الجدول.

الجزء الثاني: (04 نقاط)

يعتبر الإتحاد الأوروبي من بين أهم القوى الاقتصادية في العالم، ونموذجا للتكتلات الاقتصادية

الكبرى.

المطلوب: انطلاقا من الفقرة واعتمادا على ما درست، اكتب مقالا جغرافيا تبين فيه:

1- عوامل القوة الاقتصادية للإتحاد الأوروبي.

2- المعوقات التي يواجهها الإتحاد الأوروبي.

الموضوع الثاني

أولاً: التاريخ

الجزء الأول: (06 نقاط)

«... فقد أدى مبدأ ترومان إلى توضيح سياسة الاحتواء وإلى الاعتراف بالحرب الباردة كوضع من أوضاع العلاقات، وقام إيزنهاور بتمديد تلك السياسة مع تأكيد على الرد الشامل، واعترفت الاستراتيجية الاندفاعية لدى كنيدي-جونسون بالتوازن النووي بين الولايات المتحدة والإتحاد السوفيتي وأكدت على الوسائل غير النووية لتنشيط نهج الاحتواء، وأخيراً دعا مبدأ نيكسون، الذي تابع الرئيس فورد الالتزام به، إلى الشراكة مع الأصدقاء والحلفاء وإلى التفاوض مع الخصوم المحتملين.»

الكتاب المدرسي/السنة الثالثة ثانوي/تاريخ/ص21.

المطلوب:

- 1- اشرح ما تحته خط في النص.
- 2- عرّف بالشخصيات التالية:
- جون كنيدي - فرحات عباس - جوزيف بروز تيتو.
- 3- أكمل جدول الأحداث التالي :

التاريخ	الحدث
.....	سلم الشجعان
.....	حلف وارسو
1962/03/19

الجزء الثاني: (04 نقاط)

شكل تطور ثورات التحرير الوطني في بلدان آسيا وإفريقيا وأمريكا اللاتينية تطورا عاصفا إنهار تحت ضغطها العالم الاستعماري، وقامت على أنقاضه العشرات من الدول الوطنية الفتية.

المطلوب: انطلاقا من الفقرة واعتمادا على ما درست، اكتب مقالا تاريخيا تبرز فيه:

- 1- ظروف ظهور الحركات التحررية.
- 2- خصائص الحركة التحررية في الهند والفيتنام.

ثانيا: الجغرافيا

الجزء الأول: (06 نقاط)

الزراعة في الولايات المتحدة الأمريكية عصرية حديثة فهي الأكثر مكنة وتنظيما في العالم، ومن ذلك النطاقات الزراعية، وتقيدا بنتائج الأبحاث العلمية، تستخدم تقنيات فعالة وتعتمد على يد عاملة ذات كفاءة عالية، ذات مردود وافر وترتبط بالبنوك و**البورصات**، وتستخدم **كسلاح أخضر**.

المطلوب:

- 1- إشرح ما تحته خط في الفقرة.
- 2- الجدول التالي يمثل نسب مساهمة الولايات المتحدة الأمريكية في الإنتاج الزراعي العالمي. (إحصائيات 2007)

المحصول	نسبة المساهمة في الإنتاج العالمي
الذرة	50%
القمح	13%
الصوجا	55%

<http://www.lethist.lautre.net/usa-agriculture.htm>

المطلوب:

- أ- مثل النسب الواردة في الجدول بأعمدة بيانية.
- بمقياس رسم: 1 سم ← 5%.
- 1 سم ← عمود.
- ب- على خريطة الولايات المتحدة الأمريكية المرفقة، عين مناطق زراعة المحاصيل الواردة في الجدول.

الجزء الثاني: (04 نقاط)

يرى خبراء الطاقة في العالم أن قرار منظمة الأوبك في الأسواق العالمية لم يبق له أي أثر، مما أدى إلى اضطراب أسعار البترول باستمرار، الأمر الذي يؤدي إلى عدم استقرار الأوضاع الاقتصادية والسياسية والاجتماعية للدول المصدرة والمستوردة.

المطلوب: انطلاقا من الفقرة واعتمادا على ما درست، اكتب مقالا جغرافيا تبين فيه:

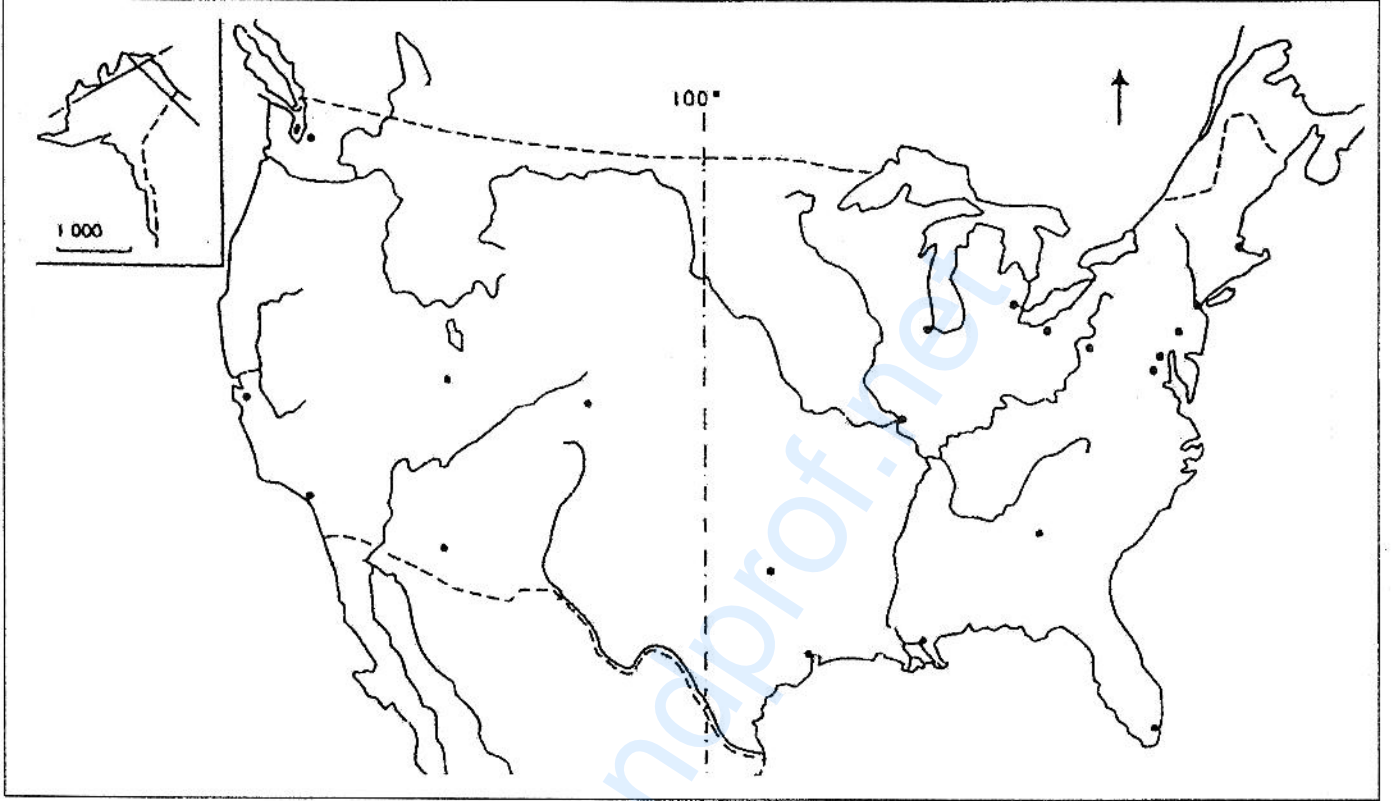
- 1- العوامل المتحكمة في أسعار البترول.
- 2- أثر انخفاض أسعار البترول على الدول المصدرة.

خريطة العالم

ينجز العمل المطلوب على الخريطة وتعاد مع أوراق الإجابة

3 000 km

خريطة الولايات المتحدة الأمريكية



ينجز العمل المطلوب على الخريطة وتعاد مع أوراق الإجابة

الإجابة النموذجية و سلم التنقيط

امتحان شهادة البكالوريا دورة: 2012

الشعبة: لغات أجنبية

المادة: تاريخ وجغرافيا

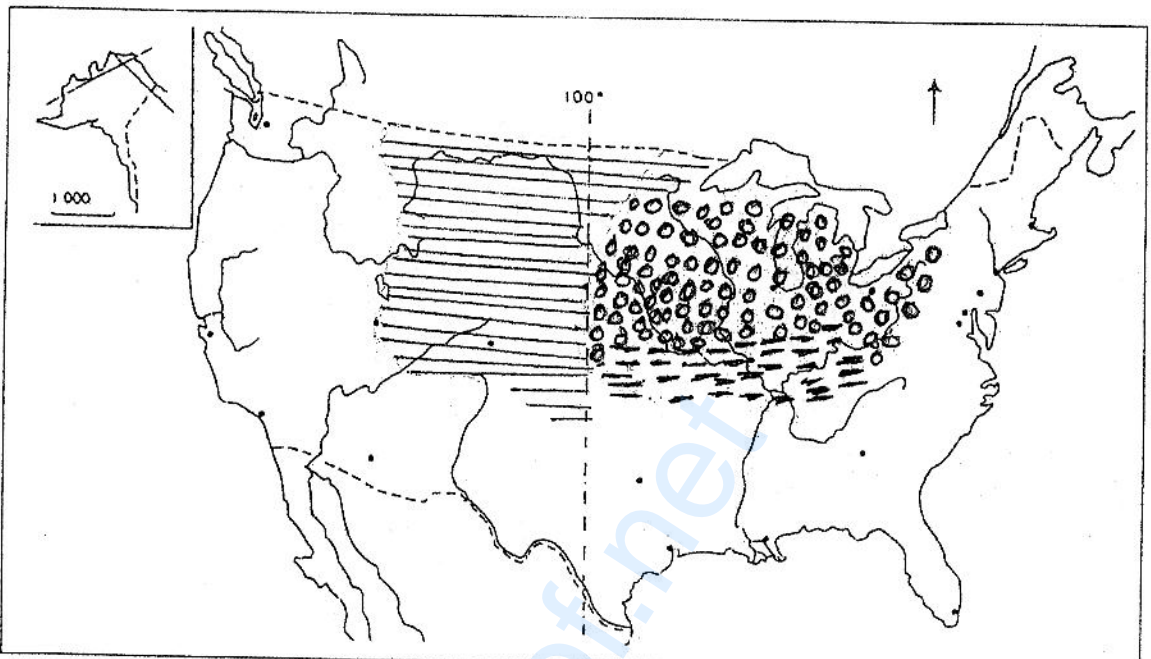
العلامة		عناصر الإجابة
المجموع	مجزأة	
06	3×0.75	<p>التاريخ: الجزء الأول: (06 نقاط) 1/ شرح المصطلحات:</p> <p>- الإمبريالية: هي سيطرة العالم المتقدم وفي مقدمته الولايات المتحدة الأمريكية على الاقتصاد العالمي باستخدام أدوات مختلفة، منها الأنظمة العميلة، الشركات الاحتكارية، المديونية، الضغوط السياسية. علما بأن الجزائر كانت من أكثر الدول نضالا ضد الإمبريالية.</p> <p>- التحرير الوطني: تمكن المستعمرات من طرد الاستعمار وتحقيق الحرية السياسية، وقيام الحكومات الوطنية المستقلة.</p> <p>- تقرير المصير: مبدأ في العلاقات الدولية يقوم على حق اختيار نظام الحكم وممارسة السيادة على المجال الجغرافي المحدد قانونا، يرادف الاستقلال.</p>
		<p>2/ التعريف بالشخصيات:</p> <p>- فيدال كاسترو: زعيم وقائد الثورة في كوبا ضد النظام الديكتاتوري بقيادة جون باتيستا، وأصبح رئيسا لكوبا منذ 1959 بعد نجاح الثورة.</p> <p>- هوشي مينه: زعيم حركة الفيت-منه في الفيتنام منذ تأسيسها سنة 1931 وقائدا للكفاح المسلح ضد الاستعمار الفرنسي بين 1946-1954، و ضد التدخل الأمريكي والعملاء في الجنوب.</p> <p>- هوارى بومدين: 1932-1978 قائد أركان جيش التحرير الوطني، وزير الدفاع الوطني 1962، رئيس مجلس الثورة 1965 ورئيس الجمهورية الجزائرية 1976-1978، ترأس مؤتمر حركة عدم الانحياز في الجزائر سنة 1973.</p>
		<p>3/ جدول الأحداث:</p> <p>1947/06/05: مشروع مارشال.</p> <p>1954/03/23: إنشاء اللجنة الثورية للوحدة والعمل.</p> <p>1956/07/26: تأميم قناة السويس.</p>
04	0.50	<p>الجزء الثاني: (04 نقاط) المقدمة: الثورة الجزائرية بين تحقيق الانتصارات ورد فعل الاستعمار الفرنسي العنيف.</p> <p>1/ مظاهر الانتصارات العسكرية والدبلوماسية للثورة الجزائرية:</p> <p>أ- المظاهر العسكرية:</p> <p>- نجاح هجومات 1954/11/01.</p> <p>- صمود المنطقة الأولى رغم الحصار الفرنسي المضروب عليها.</p> <p>- نجاح هجومات الشمال القسنطيني وتوسيع دائرة الثورة.</p>
		<p>ب- المظاهر الدبلوماسية:</p> <p>- طرح القضية الجزائرية في مؤتمر باندونج أفريل 1955.</p> <p>- المطالبة بإدراج القضية الجزائرية في جدول أعمال الجمعية العامة للأمم المتحدة في الدورة العاشرة لعام 1955.</p> <p>- تدويل القضية الجزائرية 1956.</p>

العلامة		عناصر الإجابة
المجموع	مجزأة	
		<p>2/ ردود فعل الاستعمار الفرنسي للقضاء على الثورة في الفترة 56/54:</p> <ul style="list-style-type: none"> - فرض حالة الحصار على الجزائر عامة والأوراس خاصة. - رفع تعداد الجيش الفرنسي إلى 80.000 جندي سنة 1955. - اعتبار ما يحدث في الجزائر قضية داخلية تخص فرنسا وحدها. - بداية تتابع سقوط الحكومات الفرنسية (مانديس فرانس - إيدغار فور). - تعيين وال جديد على الجزائر. (الجنرال سوستيل). - تنفيذ عمليات وحشية ضد الشعب الجزائري. <p>الخاتمة: رغم شراسة الوسائل والأساليب التي استعملتها فرنسا لإجهاض الثورة، إلا أنها حققت انتصارات على المستويين الداخلي والدولي.</p>
		<p>الجغرافيا: الجزء الأول: (06 نقاط) 1/ شرح المصطلحات:</p> <ul style="list-style-type: none"> - التكنولوجيا: هي قدرة الإنسان على التحكم في القوانين الطبيعية واستغلالها لتحقيق الأغراض المختلفة في المجالات: الزراعية والصناعية والخدماتية. - رؤوس الأموال: الموارد المختلفة التي يمكن استخدامها في رفع الإنتاج وتحسين الإنتاجية. - العولمة: مصطلح يعني شمولية الأسواق والحرية الكاملة للمبادلات المتنوعة دون قيود وقد تطور ليظال الأشخاص والهويات والقيم والسياسات والإيديولوجيات. - المنظمة العالمية للتجارة: منظمة دولية مقرها "جنيف" تأسست سنة 1995 خلفا لمنظمة "الغات" تهدف لتنظيم التجارة العالمية وتنمية العلاقات التجارية بين الدول وإلغاء الحواجز الجمركية. <p>2/ أ- الرسم البياني: - الإنجاز. - المفتاح. - العنوان. ب- التوقيع على الخريطة المرفقة.</p>
06	0.75 0.75 0.75 0.75 0.75 0.75 0.50 0.25 3×0.50	
		<p>الجزء الثاني: (04 نقاط) المقدمة: الإتحاد الأوروبي بين عوامل القوة والمعوقات. 1/ عوامل القوة الاقتصادية للإتحاد الأوروبي: أ- التاريخية: - يعتبر الإتحاد الأوروبي مهدا للثورة الصناعية. - استفادة الاستعمار من ثروات الشعوب المستعمرة، والاستفادة من أموال مشروع مارشال. ب- الطبيعية: - الطابع السهلي واتساع المساحة الصالحة للزراعة. - تنوع المناخ وملائمته (المحيطي - المتوسطي)، وكثرة البحار المحيطة بدول الإتحاد، واتساع الشبكة النهرية الدائمة الجريان. ج- البشرية والتقنية: - توفر قوة بشرية هائلة "يد عاملة مؤهلة". - وفرة رؤوس الأموال والميكنة. 2/ المعوقات: - افتقاره للمواد الأولية المعدنية والطاقوية خاصة البترول والغاز. - التفاوت في درجة التطور الاقتصادي بين دوله. - المنافسة الخارجية "الولايات المتحدة الأمريكية، الصين، اليابان". - التلوث ومشاكل البيئة. - الهجرة. - عدم استقرار العملة. الخاتمة: رغم المعوقات التي تعترض الإتحاد الأوروبي، يبقى قوة اقتصادية عالمية.</p>
04	0.50 2×0.25 2×0.25 2×0.25 6×0.25 0.50	

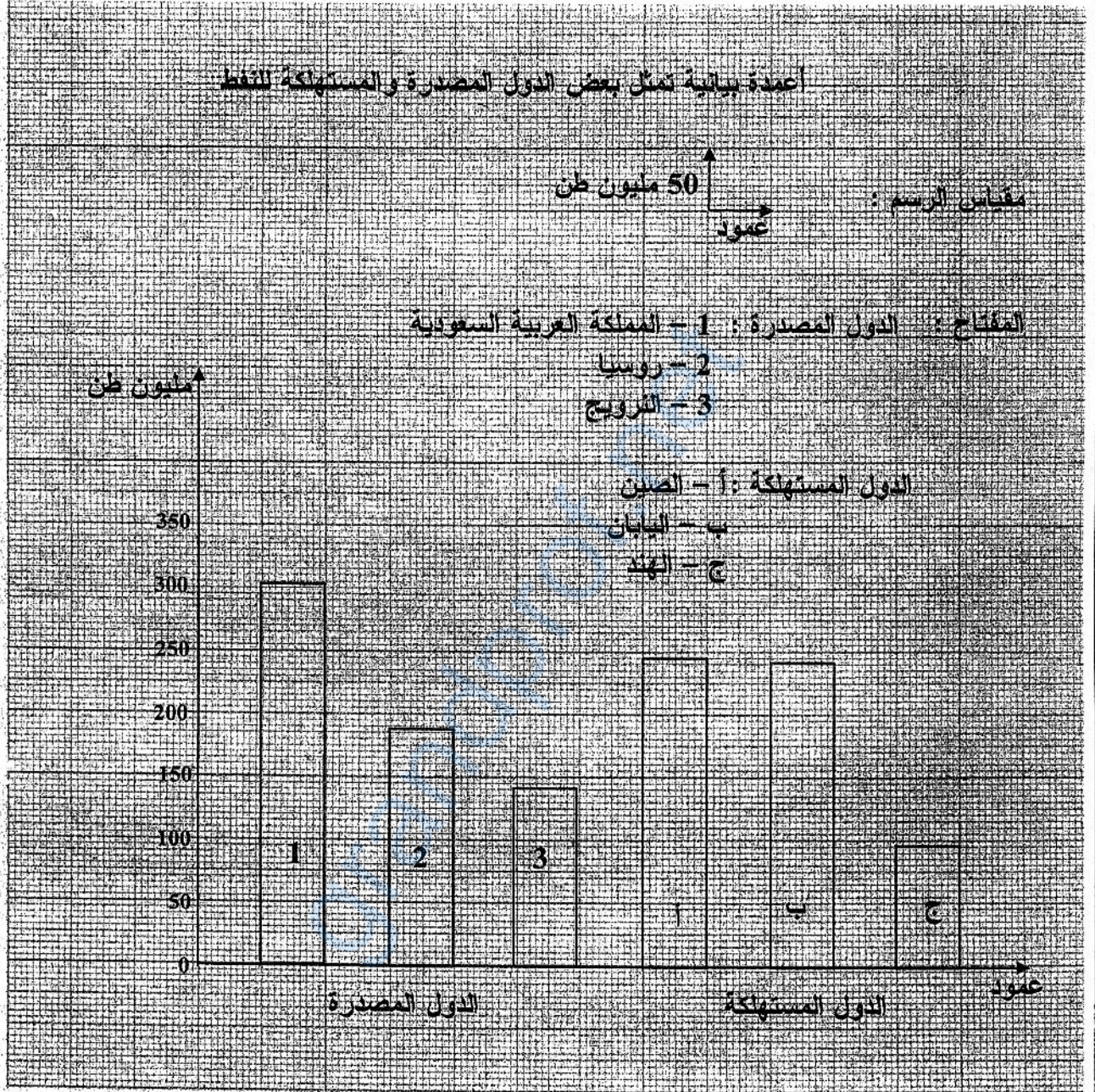
العلامة		عناصر الإجابة
المجموع	مجزأة	
06		الموضوع الثاني
	3×0.75	التاريخ: الجزء الأول: (06 نقاط) 1/ شرح المصطلحات: - سياسة الاحتواء: سياسة أمريكية تقوم على فكرة تطويق وعزل الإتحاد السوفيتي ومنع إنتشار نفوذه وإيديولوجيته. - الحرب الباردة: صراع إيديولوجي واقتصادي وسياسي بين المعسكرين الشيوعي والرأسمالي في ظل الثنائية القطبية، استعملت فيها كل الوسائل باستثناء الأسلحة. - التوازن النووي: هو امتلاك القوتين الأمريكية والسوفيتية للأسلحة النووية، بحيث لا يمكن لأي منهما التفوق على الآخر. (التوازن في ميزان الرعب النووي). - التعريف بالشخصيات: - جون كينيدي: رئيس الولايات المتحدة الأمريكية 1961-1963. عرف عهده الأزمة الكوبية والتصعيد الاستعماري في الهند الصينية، اغتيل سنة 1963. - فرحات عباس: سياسي جزائري، زعيم التيار الإدماجي، مؤسس الإتحاد الديمقراطي للبيان الجزائري، أول رئيس للحكومة الجزائرية المؤقتة سنة 1958. - جوزيف بروز تيتو: زعيم سياسي يوغسلافي، قاد مقاومة بلاده ضد قوات المحور إبان الحرب العالمية الثانية. مؤسس دولة يوغسلافيا وعضو مؤسس لحركة عدم الانحياز.
	3×0.75	3/ جدول الأحداث: - 1958/10/23: سلم الشجعان. - 1955/05/14: حلف وارسو. - 1962/03/19: وقف إطلاق النار.
3×0.50		
04	0.50	الجزء الثاني: (04 نقاط). المقدمة: لقد توفرت مجموعة من العوامل التي ساعدت على انتشار الفكر التحرري في بلدان العالم الثالث، توج بالقضاء على الاستعمار وانتزاع الاستقلال.
	0.25	1/ظروف ظهور الحركات التحررية: - السياسية الاستعمارية تجاه الشعوب المستعمرة. - ظهور نخبة وطنية متقفة وواعية وثورية. - انتشار الأفكار التحررية والإصلاحية، ومبادئ ولسن. - تأثير الحرب العالمية الثانية.
	0.50	- حق تقرير المصير الذي أقرته هيئة الأمم المتحدة.
	0.25	2/خصائص الحركة التحررية في الهند والفييتنام: أ- الحركة التحررية في الهند: - اتخذت أسلوب الكفاح السياسي (لا خوف ولا عنف) من خلال: حزبين هما: + حزب المؤتمر: بقيادة المهاتما غاندي. + حزب الرابطة الإسلامية: بقيادة محمد علي جناح.
	0.25	ب- الحركة التحررية في الفييتنام: اتخذت أسلوب الكفاح المسلح بقيادة هوشي مينه ضد الوجود الفرنسي ثم الأمريكي.
	0.25	الخاتمة: قوة الحركات التحررية أجبرت الاستعمار على الاعتراف بحق الشعوب في الحرية والاستقلال.

العلامة		عناصر الإجابة
المجموع	مجزأة	
06		ثانيا: الجغرافيا:
		الجزء الأول: (06 نقاط)
		1/ شرح المصطلحات:
	0.75	- <u>النطاقات الزراعية</u> : مساحات شاسعة من الأراضي الزراعية تخصص لإنتاج محصول معين على ضوء الظروف والخصائص الطبيعية الملائمة. مثل نطاقات القمح، الذرة...
	0.75	- <u>البورصات</u> : مكان لعرض وبيع وشراء الأسهم والسندات وتحديد الأسعار.
	0.75	- <u>السلح الأخصر</u> : يقصد به توظيف الغذاء خاصة القمح كوسيلة للضغط على الدول لتحقيق مصالحها، وظفته الولايات المتحدة الأمريكية إبان الحرب الباردة.
		2/ أ- الرسم البياني:
	01	- الإنجاز.
	0.75	- المفتاح.
	0.50	- العنوان.
3×0.50	ب- التوقيع على الخريطة للمحاصيل الواردة في الجدول.	
04		الجزء الثاني: (04 نقاط)
	0.50	<u>المقدمة</u> : منظمة الأوبك بين اتخاذ القرارات والتأثير في الواقع الاقتصادي العالمي.
		1/ <u>العوامل المتحركة في أسعار البترول</u> :
	0.50	- النوعية والجودة.
	0.50	- العرض والطلب.
	0.50	- فصلي الصيف والشتاء.
	0.25	- الأوضاع السياسية والاقتصادية العالمية.
		2/ <u>أثر تدهور أسعار البترول على الدول المصدرة للبترول</u> :
	5×0.25	- تراجع وانخفاض إيراداتها المالية.
		- الوقوع في أزمات اقتصادية.
	- عدم استقرار الأوضاع الاجتماعية والسياسية.	
	- اللجوء إلى المديونية.	
	- التبعية للخارج.	
0.50	<u>الخاتمة</u> : عدم تحكم دول الأوبك في السوق البترولية، يجرها إلى أزمات اقتصادية واجتماعية وسياسية.	

العلامة		عناصر الإجابة
المجموع	مجزأة	
		<p>الدول المصدرة: 1- المملكة العربية السعودية 2- روسيا 3- التروييح</p> <p>الدول المستهلكة: أ- الصين ب- اليابان ج- الهند</p> <p>توزيع بعض الدول المصدرة والمستهلكة للنفط</p> <p>3 000 km</p>

العلامة		عناصر الإجابة
المجموع	مجزأة	
		<p>توقيع المحاصيل الواردة في الجدول على خريطة الولايات المتحدة الأمريكية</p>  <p>المفتاح</p> <p>الذرة</p> <p>القمح</p> <p>الصوجا</p>

العلامة	عناصر الإجابة
المجموع	



ملاحظة: يمكن إنجاز الأعمدة في مجالين

