

الجمهورية الجزائرية الديمقراطية الشعبية

الديوان الوطني للامتحانات والمسابقات

دورة: جوان 2013

وزارة التربية الوطنية

امتحان بكالوريا التعليم الثانوي

الشعبة: لغات أجنبية

المدة: 03 سا و 30 د

اختبار في مادة: التاريخ والجغرافيا

على المترشح أن يختار أحد الموضوعين التاليين:

الموضوع الأول

أولاً: مادة التاريخ:

الجزء الأول: (06 نقاط)

«... إنَّ العظمة التاريخية وعبقورية المصمِّمين والمنفَّذين في جبهة التحرير الوطني وجيش التحرير الوطني، تمثلت في إنهاء الطرق والوسائل للخروج من الطريق المسدود الذي وجدت تنظيمات حركتنا الوطنية نفسها فيه، وقبلت ما تم التقاطه من فئات الحداثة من النظام الاستعماري في مدرسته ودولته وجيشه، ضد هذا النظام نفسه وجعلت منها الدافع لتعبئة شعبية واسعة اتخذت شكل حرب تحرير وطنية طويلة الأمد ...».

النصوص الأساسية لثورة نوفمبر 1954 - منشورات Anep - ص4-

1- اشرح المصطلحات التي تحتها خط في الوثيقة.

2- عرّف بالشخصيات التالية: - جورج بوش الأب - بن يوسف بن خدة - فيدال كاسترو.

3- في إطار إطار الاستراتيجيات العسكرية للمعسكرين أثناء الحرب الباردة، تمّ إنشاء سلسلة من الأحلاف

العسكرية منها: حلف شمال الأطلسي، حلف جنوب شرق آسيا وحلف وارسو.

المطلوب: على خريطة العالم المرفقة، وقّع مقرات الأحلاف العسكرية المذكورة.

الجزء الثاني: (04 نقاط)

انتهت معركة التحرير في الجزائر بتوقيع اتفاقيات إيفيان 1962، لتبدأ معركة جديدة لبناء الدولة الجزائرية الحديثة.

المطلوب: انطلاقاً من الفكرة، واعتماداً على ما درست. اكتب مقالا تاريخيا تبرز فيه:

أ- ظروف قيام الدولة الجزائرية.

ب- الاختيارات السياسية والاقتصادية الكبرى لإعادة بناء الدولة الجزائرية.

ثانيا: مادة الجغرافيا:

الجزء الأول: (06 نقاط)

« يعتبر الإتحاد الأوربي قطبا من أقطاب الثالوث الاقتصادي العالمي... وعنصرا فاعلا في العولمة، وقد ينسج علاقات وطيدة مع دول الجنوب وهو من أول المساعدين على التنمية بتلك الدول ... ».

الكتاب المدرسي - ص 106 - بتصريف -

1- اشرح المصطلحات التي تحتها خط في الوثيقة.

2- الجدول التالي يمثل قيمة صادرات و واردات بعض دول شرق وجنوب شرق آسيا لسنة 2006.

البلد	اليابان	الصين	ماليزيا	كوريا الجنوبية	اندونيسيا
قيمة الصادرات (بالمليار دولار)	284.5	762	141	257	38
قيمة الواردات (بالمليار دولار)	261.3	660	114.5	219	38.9

حالة العالم 2007

المطلوب:

أ- علق على معطيات الجدول.

ب- على خريطة شرق وجنوب شرق آسيا المرفقة، وقع الدول الواردة في الجدول السابق.

الجزء الثاني: (04 نقاط)

تعدُّ منطقة الراين ميغالوبوليس أوربا، والقلب النابض لاقتصاديات دول الإتحاد الأوربي، لما تساهم به في صادراته.

المطلوب:

انطلاقا من الفقرة، واعتمادا على ما درست. اكتب مقالا جغرافيا تبرز فيه:

أ- عوامل القوة الاقتصادية لمنطقة الراين.

ب- مظاهر القوة الاقتصادية للمنطقة.

الموضوع الثاني

أولاً: مادة التاريخ:

الجزء الأول: (06 نقاط)

«... اجتمعت الدول الآفروآسيوية حول سياسة الحياد فانبنقت عنه الدعوة إلى تعايش سلمي دعا إليه رئيس وزراء الهند جواهر لال نهرو ... وكان لهذا المسعى ارتياح كبير، وكان نموذجاً لدعوة جميع الدول الآفروآسيوية للالتزام بسياسة عدم الانحياز للمعسكرين كخطوة سياسية نحو التعايش السلمي والتكريس لمبدأ السلم العالمي وتفادي استمرار الحرب الباردة ...».

الكتاب المدرسي للسنة الثالثة ثانوي - ص 82-

1- اشرح المصطلحات التي تحتها خط في الوثيقة.

2- عرّف بالشخصيات التالية: - أحمد سوكارنو - هواري بومدين - ديدوش مراد.

3- أكمل جدول الأحداث التالي:

التاريخ	الحدث
.....	اتفاقية الحد من الأسلحة الإستراتيجية (سالت 1)
19 سبتمبر 1958
.....	تأسيس حلف جنوب شرق آسيا

الجزء الثاني: (04 نقاط)

كانت مقررات مؤتمر الصومام 20 أوت 1956 ميثاقاً وطنياً، أعطى لأول مرة محتوى للثورة الجزائرية، ووضعها في مسارها الحقيقي، وقادها نحو النصر.

المطلوب:

انطلاقاً من الفكرة، واعتماداً على ما درست. اكتب مقالا تاريخياً تبرز فيه:

أ- أهم القرارات المنبثقة عن مؤتمر الصومام.

ب- انعكاساتها على تنظيم الثورة.

ثانيا: مادة الجغرافيا:

الجزء الأول: (06 نقاط)

« ... النقود هي أهم الأدوات المالية لكنها لا تكفي لتطوير المبادلات وتحقيق النمو الاقتصادي ولذلك يجب أن يصاحبها عدد من الأدوات المالية الأخرى من أسهم وسندات وأذونات وأوراق تجارية ... ساعد ظهور الأسهم على تكوين الشركات الكبرى وتجميع رؤوس الأموال الكافية لها ولذلك فإن ظهور مثل هذه الأدوات المالية كان حاسما في تطور المجتمعات الحديثة ... ».

النظام الاقتصادي الدولي المعاصر - حازم البيلوي -

1- اشرح المصطلحات التي تحتها خط في الوثيقة.

2- إليك جدولا يمثل البورصات الكبرى في العالم وأرصدها المالية لسنة 2004:

البورصة	نيويورك	طوكيو	لندن	باريس	فرانكفورت
رصيدها المالي (بالمليار دولار)	11534	3154	2671	1447	1322

أطلس العولمة 2004

المطلوب: مثل أرقام الجدول بأعمدة بيانية بمقياس رسم:

1 سم ← 1000 مليار دولار

1 سم ← عمود (بورصة)

3- على خريطة العالم المرفقة، وقّع خمس دول من مجموعة الدول الثمانية الأكثر تصنيعا في العالم.

الجزء الثاني: (04 نقاط)

يعتبر القمح الغذاء الأساسي للكثير من شعوب العالم، مما جعل توفيره ضرورة ملحة لتحقيق الأمن الغذائي والاستقرار السياسي.

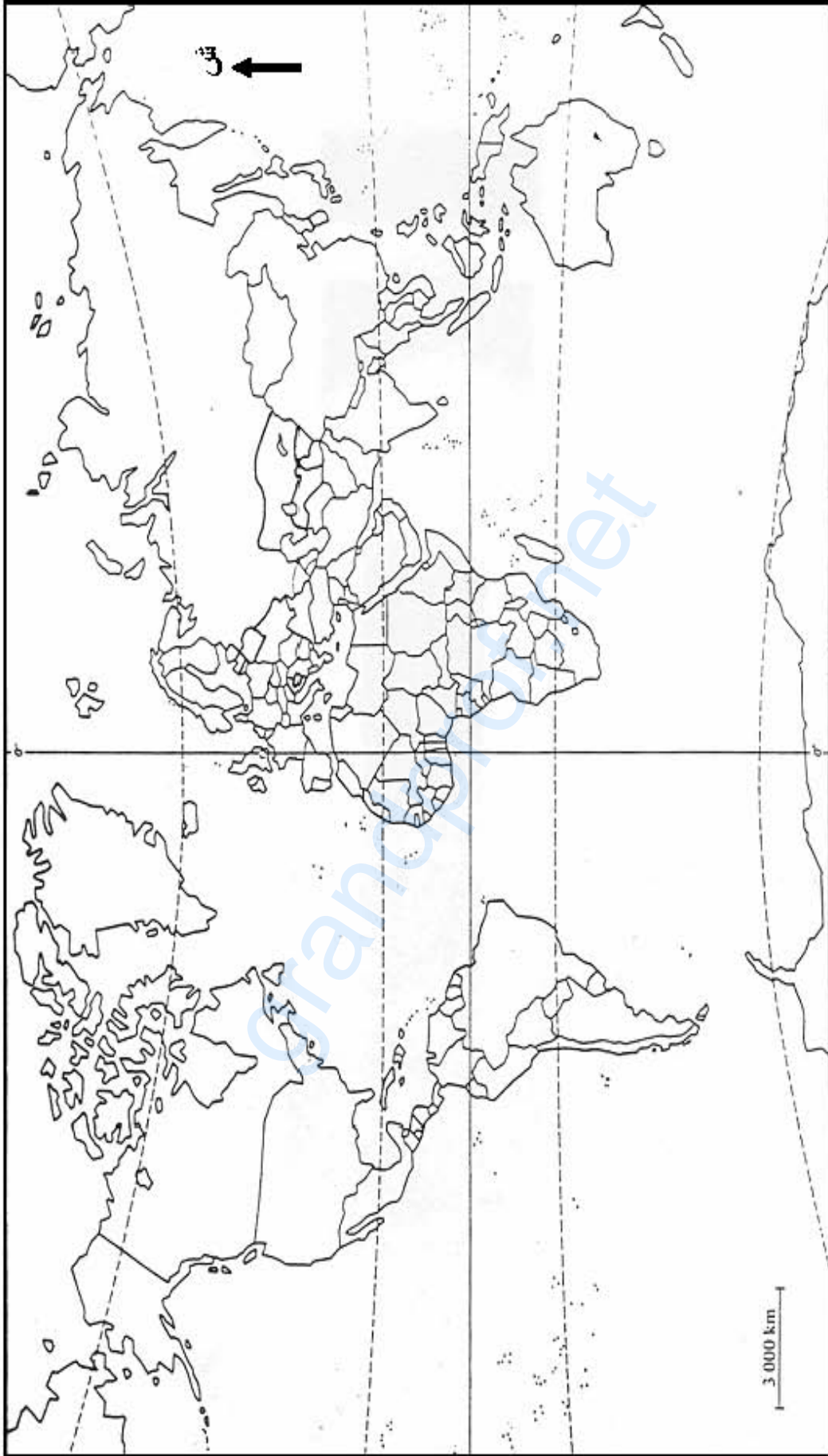
المطلوب:

انطلاقا من الفكرة، واعتمادا على ما درست. اكتب مقالا جغرافيا تبرز فيه:

أ- أهمية القمح كمادة إستراتيجية.

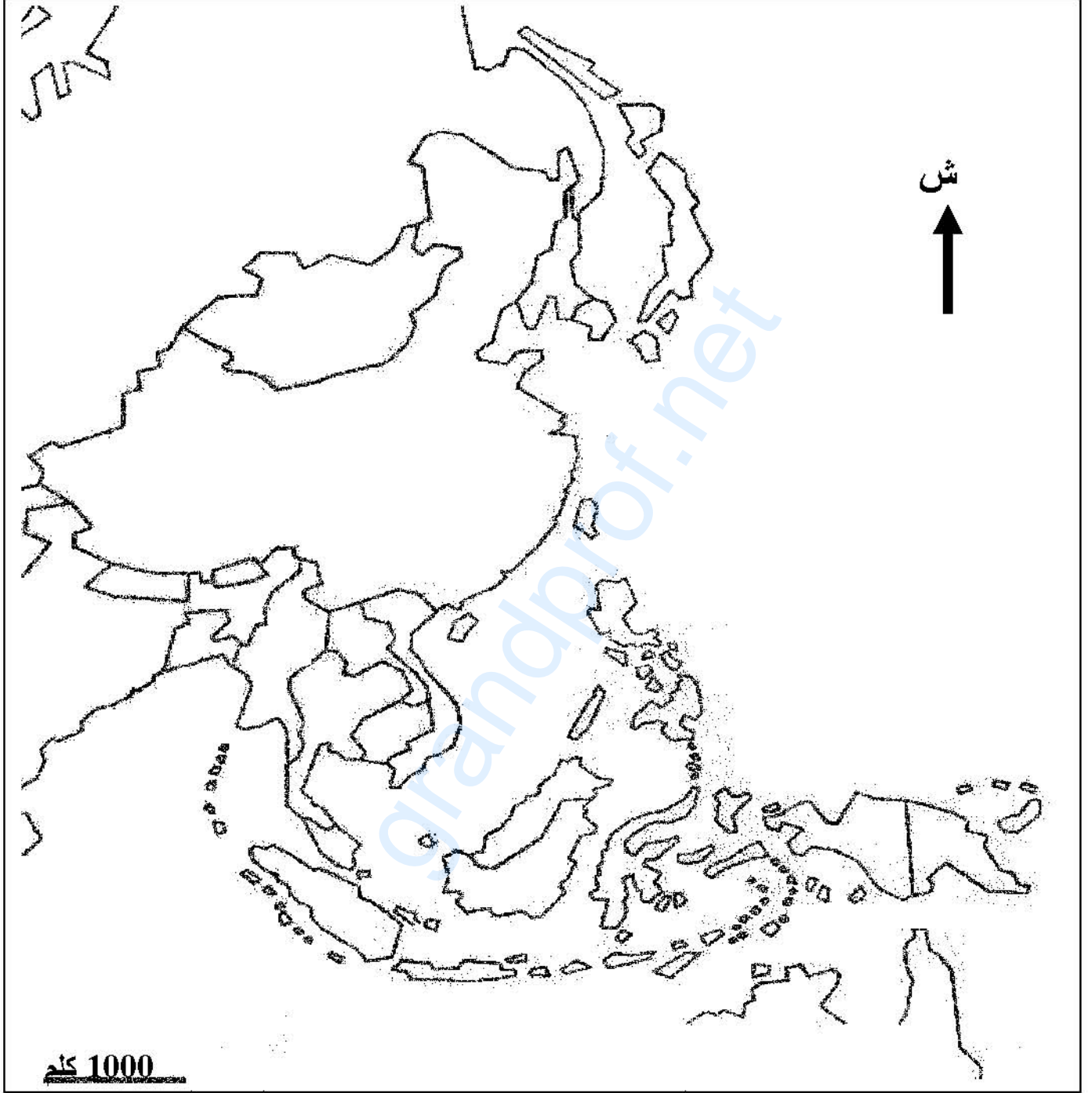
ب- العوامل المتحكمة في التجارة الدولية للقمح.

خريطة العالم



ينجز العمل المطلوب على الخريطة وتعداد مع أوراق الإجابة

شرق وجنوب شرق آسيا



ينجز العمل المطلوب على الخريطة وتعاد مع أوراق الإجابة

الإجارية الترموزجية و سلم التنقيط

امتحان شهادة البكالوريا دورة : 2013

الشعبة: لغات أجنبية

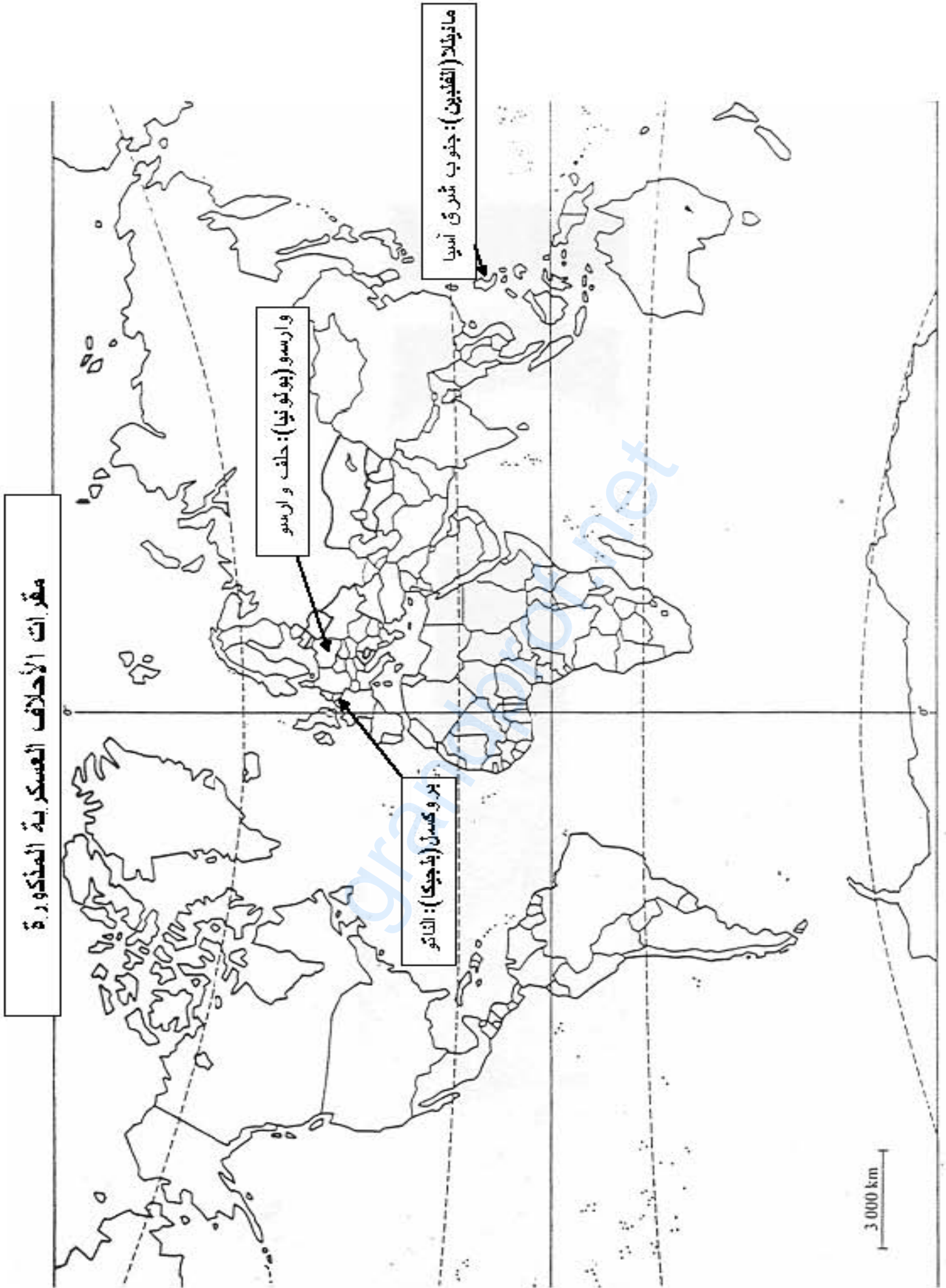
المادة: تاريخ و جغرافيا

العلامة		عناصر الإجابة (الموضوع الأول)	محاورة الموضوع
المجموع	مجزأة		
06	0.75	1- <u>شرح المصطلحات</u> : - <u>جبهة التحرير الوطني</u> : حزب سياسي جزائري ظهر في 23/10/1954 فجر الثورة التحريرية الكبرى الممثل الشرعي و الوحيد للشعب الجزائري ، قاد الشعب الجزائري إلى الاستقلال.	الجزء الأول :
	0.75	- <u>حركتنا الوطنية</u> : هي مختلف التيارات و الاتجاهات المتباينة في الأهداف و التصورات ، ظهرت بعد ح ع 1 ضد الاستعمار الفرنسي في الجزائر.	
	0.75	- <u>التعبئة الشعبية</u> : هي تهيئة و توعية و تحضير مختلف الشرائح الاجتماعية على جميع المستويات للإسهام في دعم الثورة و الالتفاف حولها.	
	0.75	2- <u>التعريف بالشخصيات</u> : - <u>جورج بوش الأب</u> : رئيس الوم.أ (1989-1993) وقع معاهدة مالطا و مؤتمر باريس (نهاية الحرب الباردة) و صاحب فكرة النظام الدولي الجديد.	
	0.75	- <u>بن يوسف بن خدة</u> : مناضل جزائري مثل الثورة الجزائرية في العديد من المحافل الدولية ، رئيسا للحكومة المؤقتة عام 1961.	
	0.75	- <u>فيدال كاسترو</u> : زعيم كوبي قاد الثورة ضد الديكتاتور باتيستا تقارب مع الاتحاد السوفيتي و تصدى للهيمنة الأمريكية عرفت فترة حكمه أزمة الصواريخ 1962 .	
	0.25	3- <u>التوقيع على الخريطة</u> : العنوان: مقرات الأحلاف العسكرية	
	0.5	الإنجاز: - حلف شمال الأطلسي	
	0.25	- حلف جنوب شرق آسيا	
	0.5	- حلف وارسو	
04	0.50	<u>مقدمة</u> : بعد معركة التحرير تمكنت الجزائر من استرجاع سيادتها لتبدأ معركة البناء (أو أي مقدمة وظيفية)	الجزء الثاني :
	0.25	أ- <u>ظروف قيام الدولة الجزائرية</u> :	
	0.25	- وقف إطلاق النار 19 مارس 1962 .	
	0.25	- إنشاء هيئة تنفيذية لتسيير الفترة الانتقالية .	
	0.25	- انعقاد مؤتمر طرابلس من 5/29 إلى 6/4 1962/ .	
	0.25	- تنظيم الاستفتاء حول الاستقلال 01 جويلية 1962.	
	0.25	- تكوين الجمعية التأسيسية برئاسة فرحات عباس سبتمبر 62	
	0.25	- مشاكل الحدود - اللاجئين - الفقر - اقتصاد محطم	
	0.25	ب- <u>الإختيارات الكبرى للدولة الجزائرية</u> :	
	0.25	* <u>الإختيارات السياسية</u> :	
0.25	- تشييد دولة عصرية على أسس ديمقراطية في إطار نظام الحزب الواحد		
0.25	- محاربة الاستعمار و الامبريالية ودعم حركات التحرر.		
0.25	- العمل على تجسيد الوحدة المغاربية، العربية و الإفريقية .		
0.25	* <u>الإختيارات الاقتصادية</u> :		
0.25	- تبني النظام الاشتراكي كوسيلة للتنمية.		
0.25	- محاربة الاحتكارات و الإقطاعية .		
0.25	- العمل على تحقيق التحرر الاقتصادي .		
0.50	<u>خاتمة</u> : نجاح الجزائر في معركة البناء نتيجة تجسيد الإختيارات الكبرى للثورة . (أو أي خاتمة وظيفية)		

العلامة		عناصر الإجابة (الموضوع الأول)	محاور الموضوع
المجموع	مجزأة		
06	0.75	1- شرح المصطلحات : - <u>الاتحاد الأوربي</u> : تكتل يجمع 27 دولة أوربية ظهر بهذه التسمية إثر التوقيع على معاهدة ماستريخت و هو تطور للمجموعة الاقتصادية الأوربية .	الجزء الأول:
	0.75	- <u>الثالوث الاقتصادي</u> : يقصد به أقطاب القوى الاقتصادية العالمية الكبرى الثلاثة (الو . م . أ - الاتحاد الأوربي - اليابان)	
	0.75	- <u>دول الجنوب</u> : مجموعة الدول المتخلفة الواقعة جنوب دائرة العرض 30° شمالا في قارة أمريكا و 35° شمالا بين قارتي إفريقيا و أوربا و في آسيا باستثناء أستراليا و نيوزيلندا.	
	0.75	- <u>التنمية</u> : مجموعة إجراءات تتخذ قصد الاستغلال الأمثل للإمكانات المتاحة مادية و بشرية بهدف تحقيق التطور .	
		2- <u>الجدول</u> : أ- <u>التعليق على معطيات الجدول</u> : - ضخامة قيم المبادلات التجارية لهذه الدول و مساهمتها المعتبرة في التجارة الدولية (1482.5 مليار دولار صادرات - 1293.7 مليار دولار واردات)	
	0.50	- تحقيق معظم هذه الدول فوائض في موازينها التجارية ما عدا اندونيسيا	
	0.50	- ارتفاع قيمة المبادلات التجارية الصينية دليل على القوة الاقتصادية لهذا البلد .	
	0.50	ب- <u>الخريطة</u> : العنوان : دول شرق و جنوب شرق آسيا الواردة في الجدول	
	0.25	الانجاز:	
	5× 0.25		
04	0.50	مقدمة : منطقة الراين القلب النابض للاقتصاد الأوربي فما عوامل قوتها الاقتصادية؟ و ما هي مظاهرها؟ (أو أي مقدمة وظيفية)	الجزء الثاني :
	0.25	أ- <u>عوامل قوة منطقة الراين</u> :	
	0.25	- الموقع الجغرافي المتميز	
	0.25	- مهد الثورة الصناعية	
	0.25	- وفرة الثروات المعدنية و الطاقوية	
	0.25	- وفرة رؤوس الأموال	
	0.25	- واجهة بحرية وفرت الكثير من الموانئ	
	0.25	- وفرة المرافق و المواصلات .	
		ب- <u>مظاهر القوة الاقتصادية للمنطقة</u> :	
	0.25	- أكبر إقليم صناعي في العالم	
	0.25	- المساهمة ب: 46% من صادرات الاتحاد الأوربي	
	0.25	- المساهمة ب: 18% من صادرات العالم .	
	0.25	- تمثل المنطقة أكبر تجمع للبنوك و البورصات في العالم .	
	0.25	- ضخامة الإنتاج الصناعي و تنوعه .	
0.25	- احتواء الإقليم على 41 ميناء أهمها ميناء روتردام الأول عالميا		
	خاتمة :		
0.50	التفاعل الإيجابي للإنسان الأوربي مع بيئته و حسن استغلاله للإمكانات المتاحة حقق الازدهار الاقتصادي للمنطقة . (أو أي خاتمة وظيفية)		

العلامة		عناصر الإجابة (الموضوع الثاني)	محاور الموضوع								
المجموع	مجزأة										
06	0.75	01- شرح المصطلحات: سياسة الحياد: عدم الانتماء أو الانضمام إلى أي من المعسكرين المتصارعين في إطار الحرب الباردة و هو نوعان حياد إيجابي و حياد سلبي . التعايش السلمي: سياسة تقوم على مبدأ قبول فكرة تعدد المذاهب الإيديولوجية و تجنب الحرب باللجوء إلى التفاهم و التعاون لحل الأزمات الدولية تبنتها كل من الولايات المتحدة الأمريكية و الاتحاد السوفيتي.	الجزء الأول:								
	0.75	الحرب الباردة: صراع إيديولوجي بين المعسكرين الغربي الرأسمالي بقيادة الوم.أ و الشرقي الشيوعي بقيادة ال.اس امتد بين 1945-1989، استعملت فيه كل الوسائل ما عدا المواجهة العسكرية المباشرة.									
	0.75	02- التعريف بالشخصيات: أحمد سوكرانو: أول رئيس لأندونيسيا،سأهم في حصول بلده على الاستقلال عن هولندا دعا لمؤتمر باندونغ أفريل 1955 ، أحد أقطاب حركة عدم الانحياز .									
	0.75	هواري بومدين: زعيم ورئيس الجزائرمن 19 جوان 1965 إلى 27 ديسمبر 1978 أحد رموز حركة عدم الانحياز ، دعا إلى إقامة نظام اقتصادي دولي جديد .									
	0.75	ديدوش مراد: عضو في صفوف حزب الشعب، المنظمة الخاصة و اللجنة الثورية للوحدة والعمل شارك في اجتماع "22" ، قائد الولاية الثانية (الشمال القسنطيني)، سقط شهيدا في 18 جانفي 1955.									
		03- جدول الأحداث:									
	0.50	<table border="1"> <thead> <tr> <th>التاريخ</th> <th>الحدث</th> </tr> </thead> <tbody> <tr> <td>22 ماي 1972</td> <td>اتفاقية الحد من الأسلحة الإستراتيجية (سالت 1)</td> </tr> <tr> <td>19 سبتمبر 1958</td> <td>تشكيل الحكومة الجزائرية المؤقتة برئاسة " فرحات عباس "</td> </tr> <tr> <td>08 سبتمبر 1954</td> <td>تأسيس حلف جنوب شرق آسيا</td> </tr> </tbody> </table>		التاريخ	الحدث	22 ماي 1972	اتفاقية الحد من الأسلحة الإستراتيجية (سالت 1)	19 سبتمبر 1958	تشكيل الحكومة الجزائرية المؤقتة برئاسة " فرحات عباس "	08 سبتمبر 1954	تأسيس حلف جنوب شرق آسيا
	التاريخ	الحدث									
	22 ماي 1972	اتفاقية الحد من الأسلحة الإستراتيجية (سالت 1)									
	19 سبتمبر 1958	تشكيل الحكومة الجزائرية المؤقتة برئاسة " فرحات عباس "									
08 سبتمبر 1954	تأسيس حلف جنوب شرق آسيا										
0.50	مقدمة : عقد مؤتمر الصومام بعد عامين من اندلاع الثورة لتقييم حصيلة المرحلة السابقة و وضع إستراتيجية جديدة للثورة. (أو أي مقدمة وظيفية) أ- أهم القرارات المنبثقة عن مؤتمر الصومام :	الجزء الثاني:									
0.25	- إصدار ميثاق الصومام.										
0.25	- تأسيس المجلس الوطني للثورة.										
0.25	- إنشاء لجنة التنسيق و التنفيذ ولجان فرعية تابعة لها.										
0.25	- تقسيم الجزائر إلى 06 ولايات عسكرية.										
0.25	- إقرار مبدأ القيادة الجماعية و الأولوية للداخل على الخارج و السياسي على العسكري.										
0.25	- البناء الهيكلي لجيش التحرير الوطني - مسؤوليات - تقسيم - رتب.										
0.50	ب- انعكاساتها على تنظيم الثورة :										
0.50	- شمولية الثورة لكافة التراب الوطني و تزويد الثورة بهيئات تنظيمية .										
0.50	- تكيف وحدات الجيش (تصغير الوحدات ، حرب العصابات،الفدائيين ...)										
0.50	- تدويل القضية الجزائرية و كسب التعاطف الدولي معها .										
0.50	خاتمة: ظهور الثورة بعد مؤتمر الصومام بوجه جديد محليا و دوليا . (أو أي خاتمة وظيفية)										

الشعبة: لغات أجنبية		المادة : تاريخ و جغرافيا	تابع الإجابة النموذجية	
العلامة	مجزأة	عناصر الإجابة (الموضوع الثاني)	محاور الموضوع	
06	0.75	01- شرح المصطلحات: المبادلات: هي تلك العمليات التي تحدث في التجارة سواء على المستوى الدولي أو المحلي و تتمثل في الصادرات و الواردات للبضائع المختلفة.	الجزء الأول:	
	0.75	الأسهم: هي قيم مالية خاصة بالشركات يتم تداولها في البورصة . يقوم الأفراد بشراء هذه القيم ، قمنح لهم صكوك تثبت ملكيتهم لحصص في الشركة صاحبة الأسهم، والأسهم خاضعة للربح و الخسارة .		
	0.75	رؤوس الأموال: هي الموارد المالية التي تستخدم للحصول على الإنتاج أو تحسينه و تتوفر من تراكم فائض عمل سابق .		
	0.5	02- التمثيل البياني: العنوان : البورصات الكبرى في العالم و أرصدها المالية لسنة 2004 المقياس : [سم = عمود // 1سم = 1000 مليار دولار الانجاز:		
	0.5	03- التوقيع على الخريطة: العنوان : مجموعة الثمانية الانجاز :		
	01			
	0.5			
	5×0.25			
	0.50	مقدمة : أهمية القمح كغذاء أساسي و كمادة إستراتيجية في العلاقات الدولية . (أو أي مقدمة وظيفية)		الجزء الثاني:
	0.50	أ- أهمية القمح كمادة إستراتيجية:		
0.50	- يمثل الغذاء الأساسي لأغلب سكان العالم .			
0.50	- مادة أولية للصناعات الغذائية .			
0.50	- مادة إستراتيجية و سلاح ضاغط في يد الدول المنتجة.			
0.50	ب- العوامل المتحكمة في التجارة الدولية للقمح:			
0.50	- النوعية (اللين و الصلب) .			
0.50	- قانون العرض و الطلب .			
0.50	- دور الشركات متعددة الجنسيات و المعروفة بعمالقة الحبوب (كارجيل - كوتننوتال قرين - بونج - اندري - لويس دريفيس) إنتاجا و تصديرا .			
0.50	خاتمة: خضوع الدول غير المنتجة للقمح لسيطرة الدول و الشركات المحتكرة له . (أو أي خاتمة وظيفية)			



دول شرق و جنوب شرق آسيا الواردة في الجدول

