



الجمهورية الجزائرية الديمقراطية الشعبية

الديوان الوطني للامتحانات والمسابقات
الدورة الاستثنائية: 2017



وزارة التربية الوطنية
امتحان بكالوريا التعليم الثانوي
الشعبة: لغات أجنبية

المدة: 03 سا و 30 د

اختبار في مادة: التاريخ والجغرافيا

على المترشح أن يختار أحد الموضوعين الآتيين:

الموضوع الأول

يحتوي الموضوع الأول على 03 صفحات (من الصفحة 1 من 6 إلى الصفحة 3 من 6)

التاريخ:

الجزء الأول: (06 نقاط)

(1) "... لقد أفرز الصراع بين المعسكرين قوى إقليمية وعالمية شكلت عوامل ضغط على الدول الكبرى، حيث شهدت دول أوروبا الغربية معارضة قوية من شعوبها بخصوص السباق نحو التسلح، وكان في تضامن الدول الضعيفة والمستقلة حديثا توجه رافض لسياسة الأحلاف والتكتلات، ففتح باب تبادل الزيارات بين الفريقين ... ونتج عن ذلك احترام كل فريق لمناطق نفوذ الآخر، وعدم التعدي عليها.... بيد أن هذا الانفراج بقي هشاً، وتحطم أمام أزمة برلين التي تسببت في إقامة "جدار برلين" سنة 1961، ثم أزمة كوبا 1962 والتي صاحبها هلع كبير وخوف من تصادم القوتين ..."

المرجع: الكتاب المدرسي. السنة الثالثة ثانوي تاريخ ص 24.

المطلوب: اشرح ما تحته خط في النص.

(2) أكمل جدول الاحداث والتواريخ التالي:

التاريخ	الحدث
17 أكتوبر 1961
.....	تأسيس حركة عدم الانحياز
	اتفاقية سالت 1

الجزء الثاني: (04 نقاط)

لقد أثمر كفاح الشعب الجزائري استقلالاً مستحقاً أكدته اتفاقية إيفيان، ودخلت الجزائر مرحلة البناء والتشييد وفقاً للاختيارات الكبرى المحددة في ميثاق الثورة.

المطلوب: انطلاقاً من العبارة واعتماداً على ما درست، اكتب مقالا تاريخيا تبين فيه:

(1) الانتصارات التي حققتها الثورة من خلال اتفاقيات إيفيان.

(2) الاختيارات السياسية للدولة الجزائرية المستقلة من خلال ميثاق طرابلس.



الجغرافيا:

الجزء الأول: (06 نقاط)

1) " تحتل الولايات المتحدة الأمريكية قلب العالم بفضل واجهاتها البحرية الثلاث، التي تدفعها إلى التعامل على حدّ سواء مع أوروبا والقوى الصاعدة بالمحيط الهادي، في حين تمكّنها سواحلها المطلّة على بحر الكارييب من الانفتاح على أمريكا اللاتينية، وليس من باب الصدفة أن تكون الأقاليم الساحلية هي الأقاليم الأكثر حيوية. فالميغالوبوليس متفتحة على المحيط الأطلسي، وكاليفورنيا تمثّل واجهة تقابل مزدوج مع دول جنوب شرق آسيا من جهة، وأمريكا اللاتينية من جهة أخرى، أما ولايات الجنوب الحديث، من فلوريدا إلى تكساس فهي نوافذ للولايات المتحدة الأمريكية على أمريكا اللاتينية...".

المصدر: ج. دورال، مصادر القوة الأمريكية. 2015.

المطلوب: اشرح ما تحته خطّ في النّص.

2) على خريطة الولايات المتحدة الأمريكية المرفقة، عيّن الواجهات البحرية الثلاثة الواردة في النّص.

الجزء الثاني: (04 نقاط)

إنّ تزايد النمو الديمغرافي في العالم المتخلف، وتزايد الحاجة إلى الخدمات الضرورية للسكان في ظل نمو اقتصادي بطيء، قد يرهن مستقبل التنمية فيه.

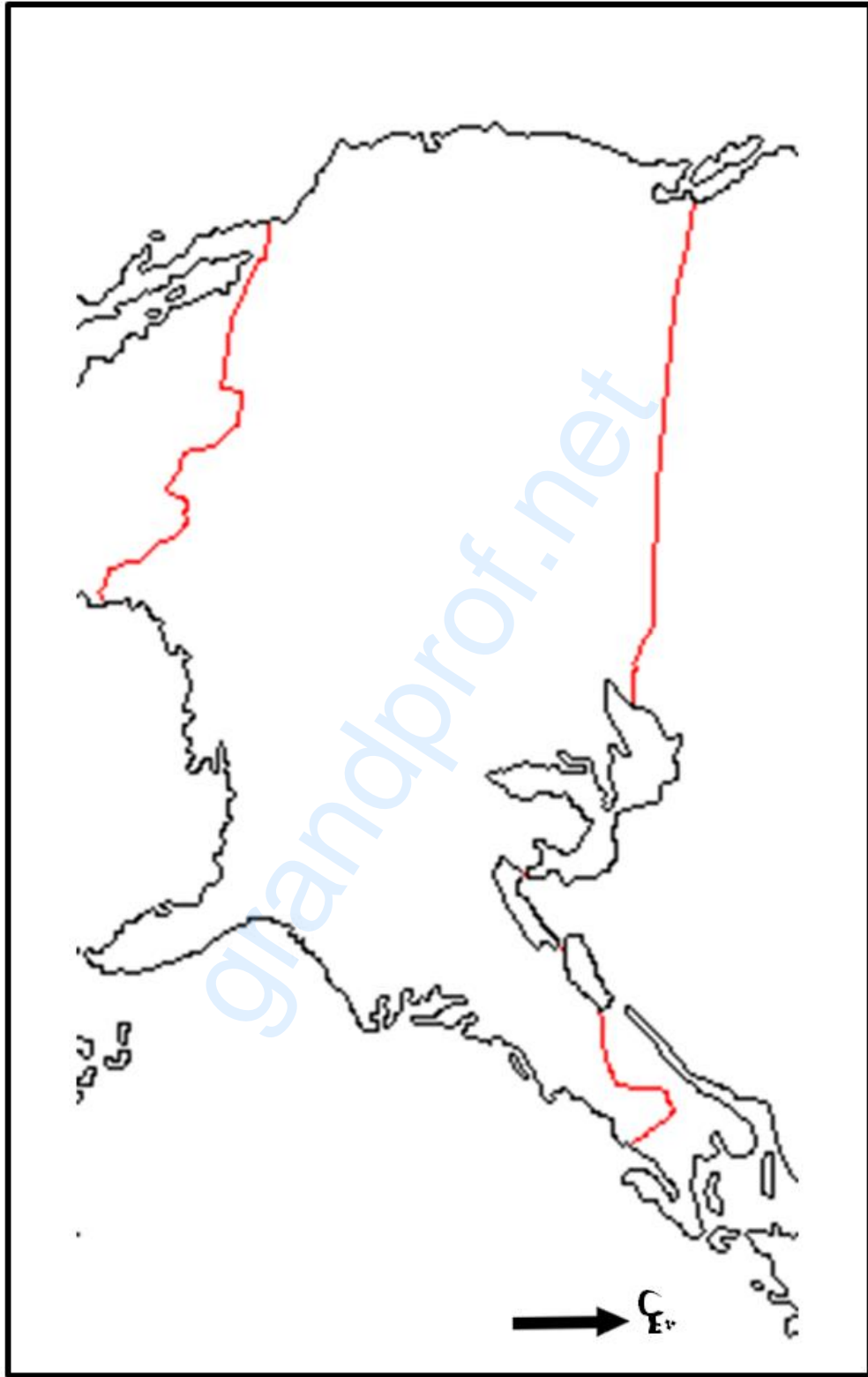
المطلوب: انطلاقا من العبارة واعتمادا على ما درست، اكتب مقالا جغرافيا تبين فيه:

1) الخصائص الاقتصادية والاجتماعية للعالم المتخلف.

2) انعكاسات النمو الديمغرافي السريع على التنمية في العالم الثالث.



ينجز العمل المطلوب على الخريطة وتعاد مع أوراق الإجابة



خريطة الولايات المتحدة الأمريكية



الموضوع الثاني

يحتوي الموضوع الثاني على 03 صفحات (من الصفحة 4 من 6 إلى الصفحة 6 من 6)

التاريخ:

الجزء الأول: (06 نقاط)

(1) " ... اعترف ديغول في النهاية بأنه ليس من الممكن أن يفرض حلّه بالقوة، ولهذا اضطر بعد شهرين للجلوس إلى طاولة المفاوضات تجاه جبهة التحرير الوطني ليوافق بعد سنة على وقف إطلاق النار تطبيقا لاتفاقيات إيفيان وهذا يعتبر نصرا مبينا يجسد استقلال الجزائر، ووحدة ترابها بما فيها الصحراء التي حاول ديغول فصلها عن بقية التراب الوطني...".

المرجع: شهادات ومواقف - بن يوسف بن خدة. - ص 321.

المطلوب: اشرح ما تحته خط في النص.

(2) وقّع على خريطة الجزائر المرفقة ما يلي:

- منطقة هجومات 20 أوت 1955.
- منطقة انعقاد مؤتمر الصومام.
- الولاية الثورية الرابعة.

الجزء الثاني: (04 نقاط)

إنّ زوال الخطر الشيوعي يعدّ حدثا استراتيجيا، ترتب عنه إعادة تنظيم العلاقات الدولية، التي لم تتضح ملامحها الجيوسياسية، إلا أنها كانت بمثابة مؤشرات لنظام دولي جديد كان بصدد التشكل، وبروز الزعامة الأمريكية دليل على هذا التغيير الذي سعت إليه الولايات المتحدة الأمريكية منذ عقود.

المطلوب: انطلاقا من الفقرة واعتمادا على ما درست، اكتب مقالا تاريخيا تبين فيه:

(1) استراتيجية الولايات المتحدة الأمريكية في تطبيق النظام الدولي الجديد.

(2) انعكاسات النظام الدولي الجديد على العالم الثالث.



الجغرافيا:

الجزء الأول: (06 نقاط)

(1) "... سواء تم جمع المال على مستوى البنوك أو البورصات... فإن رؤوس الأموال تعرف استثمارا متزايدا ومستمر من خلال نشاطات موجودة ومستحدثة دون أن يكون أي حاجز بالنسبة لتقلها، بل هناك ما يشجع ذلك من سياسة التبادل الحر التي تدعمها المجتمعات الرأسمالية مثل المنظمة العالمية للتجارة... لذا تشهد المعمورة سوقا عالمية مشتركة لاستهلاك المواد والخدمات التي تنتجها العناصر التي في حوزتها أرصدة مالية كبرى...".

المرجع: الكتاب المدرسي السنة الثالثة ثانوي جغرافيا ص28.

المطلوب: اشرح ما تحته خط في النص.

(2) إليك جدولا يمثل نسب صادرات و واردات الاتحاد الأوروبي لسنة 2009:

المواد	% الصادرات	% الواردات
مواد غذائية	5.7	6.2
مواد أولية	2.5	3.9
مواد طاقوية	5.3	24.2
مواد كيميائية	17.9	9.4
آلات ووسائل النقل	41.5	28.5
مواد أخرى	27.1	27.8

المصدر: Eurostat 2009.

المطلوب: مثل معطيات الجدول بأعمدة بيانية (في مجال واحد)

بمقياس رسم: 1 سم لكل 5 % .

1 سم لكل عمود.

الجزء الثاني: (04 نقاط)

تعتبر الجزائر بلدا بتروليا قريبا من أوروبا وطرفا هاما في عملية المبادلات التجارية العالمية.

المطلوب: انطلاقا من العبارة واعتمادا على ما درست، اكتب مقالا جغرافيا تبين فيه:

(1) طبيعة المبادلات التجارية للجزائر.

(2) تأثيرها على الاقتصاد الجزائري.



خريطة الجزائر



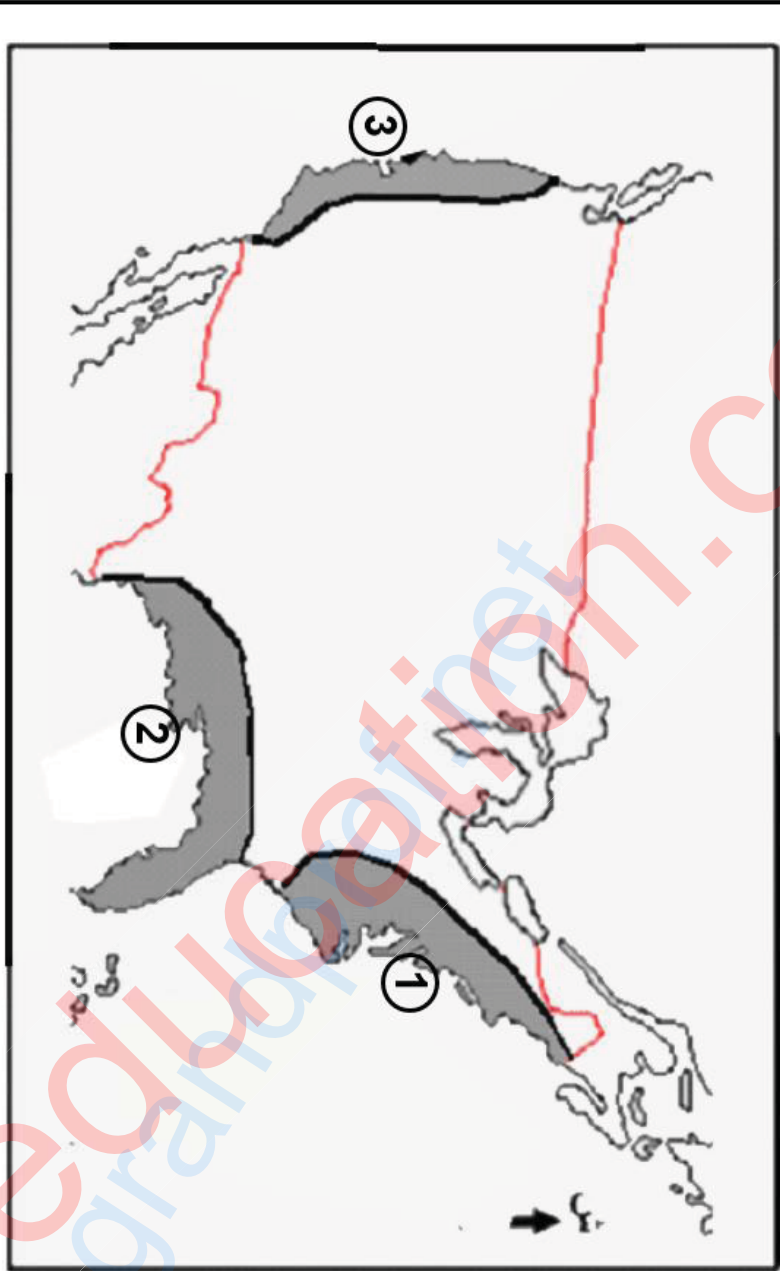
ينجز العمل المطلوب على الخريطة وتعاد مع أوراق الإجابة

العلامة		عناصر الإجابة								
مجموع	مجزأة									
06	01	الموضوع الأول								
		التاريخ:								
		الجزء الأول:								
		(1) شرح ما تحته خطفي النص:								
	01	- قوى إقليمية: ظهور دول ذات وزن سياسي وعسكري منافسة ومعارضة لسياسة القوى الكبرى في مناطق جغرافية (الصين في الشرق الأقصى ...).								
	01	- التكتلات: استراتيجية سياسية وعسكرية انتهجتها كل من الو.م والاتحاد السوفياتي تقوم على سعي كل منهما إلى التحالف مع دول موالية أو ذات مصلحة مشتركة بهدف الدفاع المشترك وردع الخصم.								
	01	- مناطق النفوذ: هي مناطق جغرافية أو بلدان استراتيجية وقعت تحت سيطرة إحدى القوتين أثناء الحرب الباردة.								
		(2) إكمال جدول الأحداث والتواريخ:								
		<table border="1"> <thead> <tr> <th>التاريخه</th> <th>الحدث</th> </tr> </thead> <tbody> <tr> <td>17 أكتوبر 1961</td> <td>مظاهرات المهاجرين الجزائريين في باريس</td> </tr> <tr> <td>1-6 سبتمبر 1961</td> <td>تأسيس حركة عدم الانحياز</td> </tr> <tr> <td>26 ماي 1972</td> <td>اتفاقية سالت الأولى</td> </tr> </tbody> </table>	التاريخه	الحدث	17 أكتوبر 1961	مظاهرات المهاجرين الجزائريين في باريس	1-6 سبتمبر 1961	تأسيس حركة عدم الانحياز	26 ماي 1972	اتفاقية سالت الأولى
التاريخه	الحدث									
17 أكتوبر 1961	مظاهرات المهاجرين الجزائريين في باريس									
1-6 سبتمبر 1961	تأسيس حركة عدم الانحياز									
26 ماي 1972	اتفاقية سالت الأولى									
		الجزء الثاني:								
	0.50	مقدمة: كفاح وإصرار جبهة التحرير الوطني على التخلص من السيطرة الاستعمارية والنفوذ الشعب حولها دفع فرنسا إلى الاعتراف الفعلي بحق الشعب الجزائري في تقرير مصيره.								
		(1) الانتصارات التي حققتها الثورة من خلال اتفاقية إيفيان:								
	6×0.25	- فشل المخططات الاستعمارية الرامية إلى الاحتفاظ بالجزائر فرنسية.								
		- إقرار السلطات الاستعمارية بحق تقرير المصير للشعب الجزائري.								
		- وقف إطلاق النار بشكل نهائي في كامل التراب الوطني.								
		- وحدة التراب الوطني.								
		- وحدة الشعب الجزائري (الأمة الجزائرية).								
		- تحقيق الاستقلال التام واعتراف فرنسا به.								
		(2) الاختبارات السياسية للدولة الجزائرية المستقلة من خلال ميثاق طرابلس:								
		- تشييد دولة عصرية على أسس ديمقراطية في إطار الحزب الواحد.								
		- تجسيد الحكم المؤسساتي.								
		- تأييد ودعم مبادئ الأمم المتحدة.								
		- دعم حركات التحرر ورفض كل أشكال الاستعمار.								
04	6×0.25									

الإجابة النموذجية وسلم التنقيط لموضوع امتحان البكالوريا / اختبار مادة: التاريخ و الجغرافيا / الشعبة: لغات أجنبية دورة استثنائية 2017

06	0.50	<p>- انتهاج سياسة خارجية مستقلة مع نبذ التدخل في الشؤون الداخلية للدول. - العمل على تجسيد الوحدة المغاربية والعربية والافريقية. خاتمة: اتفاقية ايفيان تتويج لكفاح طويل وبداية لمرحلة جديدة في البناء والتشييد.</p> <p>الجغرافيا: الجزء الأول: (1) شرح ما تحته خط في النص: الواجهات البحرية الثلاث: المناطق الساحلية المطلة على المحيطين الهادي، الأطلسي وخليج المكسيك: الواجهة الأطلسية الشرقية والواجهة الغربية على المحيط الهادي والواجهة الجنوبية على خليج المكسيك. القوى الصاعدة في المحيط الهادي: هي القوى الناشئة المحققة لقفزة اقتصادية نوعية (التينات...). الميفالوبوليس: منطقة تجمع المدن الكبرى في الو.م.أ. "المجرة الحضرية" تمتد من بوسطن إلى واشنطن على مسافة 750 كلم، تمثل القلب النابض للاقتصاد الأمريكي.</p> <p>(2) التعيين على خريطة الو.م.أ. الواجهات البحرية الثلاث الواردة في النص:</p> <p>- التعيين. - العنوان. - المفتاح.</p>
04	0.50 3x0.75 0.25 0.50 0.50 6x0.25 6x0.25 0.50	<p>الجزء الثاني: مقدمة: العالم المتخلف بين النمو الديمغرافي السريع والنمو الاقتصادي البطيء. (1) الخصائص الاقتصادية والاجتماعية للعالم المتخلف: أ) الاقتصادية: - ضعف القاعدة الصناعية (صناعة استخراجية). - غناه بالموارد الطبيعية. - اعتماده على المواد الأولية كمصدر أساسي لإيراداته. - عدم الاكتفاء الذاتي وتبعيته للخارج. ب) الاجتماعية: - النمو الديمغرافي السريع. - انتشار الثالوث الأسود (الفقر، الجهل، المرض). (2) انعكاسات النمو الديمغرافي السريع على العالم المتخلف: - ارتفاع عدد العاطلين عن العمل. - انخفاض المستوى المعيشي. - العجز عن تلبية الحاجيات الأساسية للشعوب. - ارتفاع النفقات الاجتماعية على حساب التنمية الاقتصادية. - اللجوء إلى المديونية لتغطية العجز وما يترتب عنها من مخاطر. - الأزمات الاجتماعية والسياسية.</p> <p>خاتمة: التحكم في الظاهرة الديمغرافية سبيل لتحقيق التنمية والتطور. ملاحظة : (تقبل الإجابات الصحيحة الأخرى).</p>

الواجهات البحرية للولايات المتحدة الأمريكية



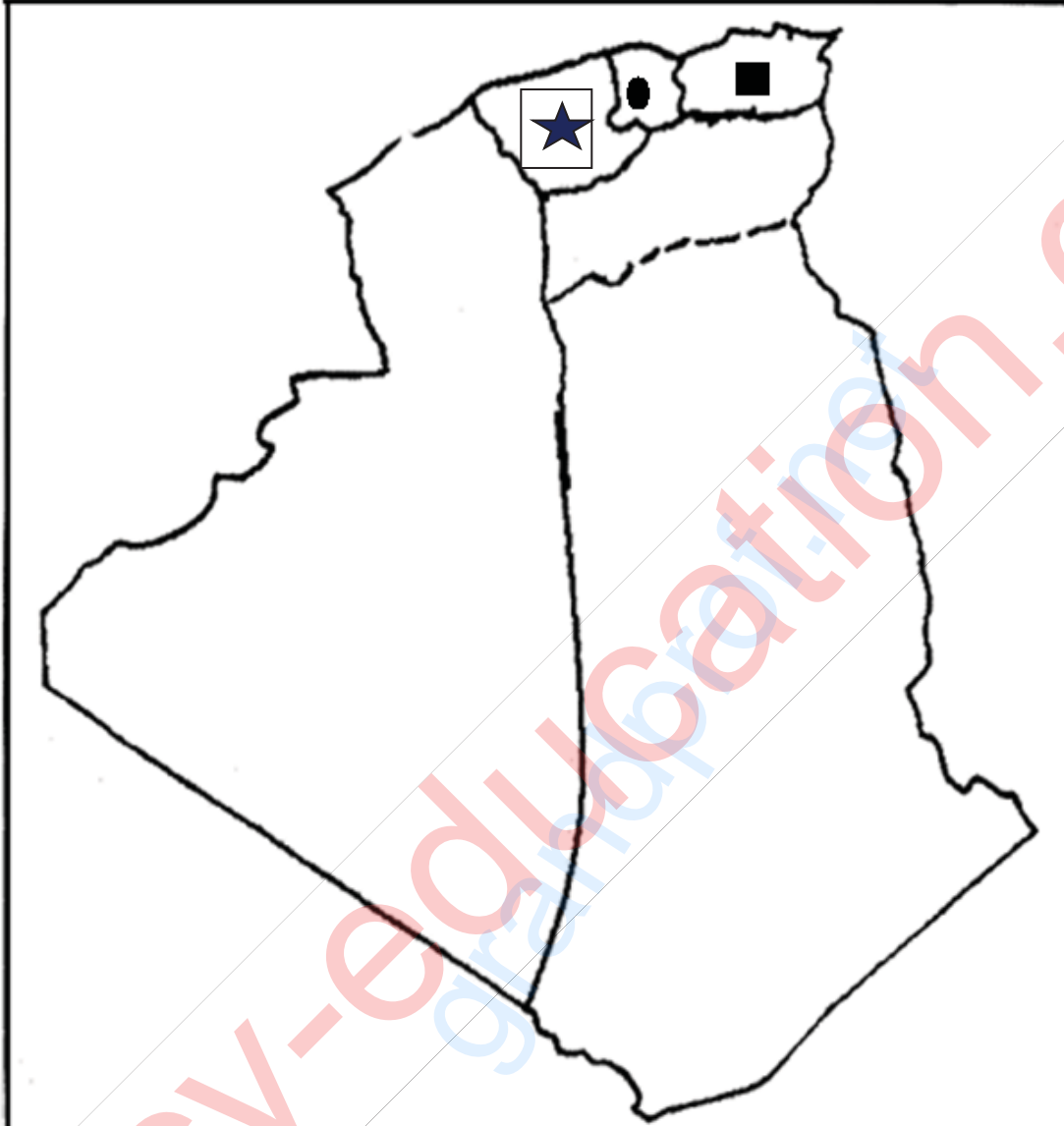
المفتاح

- 1 الواجهة الشرقية المطللة على المحيط الأطلسي
- 2 الواجهة الجنوبية المطللة على بحر الكاريبي
- 3 الواجهة الغربية المطللة على المحيط الهادي

الموضوع الثاني	
	التاريخ
	الجزء الاول:
	(1) شرح ما تحته خط في النص :
01	- جبهة التحرير الوطني: تنظيم سياسي للثورة الجزائرية تأسست في 23/10/1954 م والممثل الشرعي الوحيد للشعب الجزائري .
01	- وقف إطلاق النار: توقيف كل العمليات الحربية ونهاية المواجهة العسكرية بموجب اتفاقيات إيفيان شرع في تطبيقه في 19 مارس 1962م.
01	- اتفاقيات إيفيان: اتفاق بين الحكومة المؤقتة الجزائرية والحكومة الاستعمارية الفرنسية بعد مفاوضات شاقة وعديدة آخرها بمدينة إيفيان في فرنسا (7-18 مارس 1962) وتتص على وقف إطلاق النار وإجراء استفتاء لتقرير مصير الجزائر بعد فترة انتقالية... التوقيع على الخريطة : (خريطة الجزائر : الولايات الثورية).
01.50	- الإنجاز :
0.75	- العنوان :
0.75	- المفتاح :
	الجزء الثاني:
0.50	مقدمة: انتقال العالم من الثنائية إلى الأحادية القطبية.
	(1) استراتيجية الولايات المتحدة الأمريكية في تطبيق النظام الدولي الجديد:
	- استخدام وسائل الإعلام المختلفة لنشر الثقافة الغربية عموما. - التستر وراء المنظمات الدولية (مجلس الأمن، صندوق النقد الدولي. م/ العالمية للتجارة البنك العالمي ..) والمنظمات غير الحكومية (م/ حقوق الإنسان...) للتدخل في الشؤون الداخلية للدول والضغط عليها. - التدخلات العسكرية والتهديد باستخدام القوة ضد الأنظمة المناهضة لمصالحها. - دور الشركات متعددة الجنسيات في احتكار التكنولوجيا والسلع والأسواق العالمية. - دعم الأنظمة الموالية وتغذية الصراعات الطائفية والإقليمية في بلدان العالم الثالث. - التحالف مع القوى الأوروبية ضد البلدان الضعيفة لفرض السيطرة غير المباشرة عليها.
6×0.25	
	(2) انعكاسات النظام الدولي الجديد على بلدان العالم الثالث:
	- تبني المبادئ السياسية والاقتصادية الغربية (تغيير الأنظمة) - تكريس التبعية الاقتصادية والسياسية والثقافية... - استنزاف ثروات بلدان العلم الثالث. - اشتعال وانتشار الحروب الأهلية والإقليمية في بلدان العلم الثالث. - فقدانها السيادة بسبب التدخل في شؤونها الداخلية والتخلي عن مقومات شخصيتها (الغزو الثقافي). - تقادم الأزمات المالية والاقتصادية (المديونية...) في بلدان العالم الثالث مما يؤثر على السياسات التنموية.
6×0.25	
0.50	خاتمة : هيمنة الو م أ على العالم بسقوط المعسكر الشرقي .

<u>الجغرافيا</u>	
<u>الجزء الأول:</u>	
	(1) شرح ما تحته خط في النص :
01	- رؤوس الأموال: هي الموارد المالية المستخدمة في العملية الانتاجية أو الاستثمار .
01	- التبادل الحر: سياسة اقتصادية تعتمد تشجيع التبادل التجاري بين الدول المتقدمة من خلال المنظمات الاقتصادية والمالية الدولية: (المنظمة العالمية للتجارة...).
01	- المنظمة العالمية للتجارة: منظمة اقتصادية دولية تأسست سنة 1995 على انقاض الاتفاقية العامة للتعريف الجمركية تعمل على تحرير التجارة العالمية.
	(2) التمثيل البياني: (أعمدة بيانية) .
02	- الإنجاز :
0.50	- العنوان :
0.25	- المقياس :
0.25	- المفتاح :
	الجزء الثاني :
0.50	مقدمة: واقع المبادلات التجارية للجزائر وأثرها على الاقتصاد الوطني.
	(1) طبيعة المبادلات التجارية للجزائر:
	- ضعف المبادلات التجارية للجزائر (0.32 % من حجم التجارة العالمية).
	أ) الصادرات: (0.38 % من حجم الصادرات العالمية).
	- المحروقات بنسبة 98 % .
	- بعض المواد الأولية (فوسفات. حديد...).
6×0.25	- بعض المنتوجات الزراعية (التمر ..)
	ب) الواردات: (0.26 % من حجم الواردات العالمية).
	- مواد غذائية (حبوب. ألبان...).
	- مواد مصنعة وأدوات التجهيز: أدوية، أسلحة، وسائل النقل... تأثيرها على الاقتصاد الجزائري:
6×0.25	- ما يقارب ثلثي إيرادات خزينة الدولة خاصة من العملة الصعبة بإيرادات تصدير المحروقات.
	- ارتباط التنمية الاقتصادية بأسعار البترول: تزايد نشاطها عند ارتفاع أسعاره والعكس.
	- ارتفاع قيمة الواردات والاعتماد شبه الكلي في تسديدها على قيمة صادرات المحروقات.
	- التبعية الاقتصادية: - تصدير النفط واستيراد مشتقاته.
	- استيراد كميات كبيرة من المواد الغذائية نتيجة ضعف إنتاج الزراعي.
	- انخفاض قيمة العملة الوطنية وتأثر القدرة الشرائية بالواقع الاقتصادي.
0.50	خاتمة : خطورة اعتماد الاقتصاد الوطني على مورد واحد.
	ملاحظة: (تقبل الإجابات الحصيصة الأخرى)

خريطة الجزائر : توقيع مناطق هجومات 20 أوت 1955، انعقاد مؤتمر الصومام و الولاية الثورية الرابعة.



المفتاح

الولاية الثورية الرابعة (الجزائر)



هجومات 55/08/20 (شمال قسنطينة)



انعقاد مؤتمر الصومام (المنطقة 3: القبائل)



أعمدة بيانية تمثل نسب صادرات و واردات الاتحاد الأوربي لسنة 2009

