

## الجمهورية الجزائرية الديمقراطية الشعبية

الديوان الوطني للامتحانات والمسابقات

دورة: جوان 2012

وزارة التربية الوطنية

امتحان بكالوريا التعليم الثانوي

الشعبة: آداب وفلسفة

المدة: 4 ساعات ونصف

اختبار في مادة: التاريخ والجغرافيا

على المترشح أن يختار أحد الموضوعين التاليين

الموضوع الأولالتاريخالجزء الأول: (06 نقاط)

« إن اللجنة الثورية حلت نفسها بنفسها قبل بضعة أيام من انعقاد المؤتمر الثاني الذي نظمته المصاليون ... لأنها فقدت علّة وجودها لعدم تمكنها من تحقيق الوحدة والمصالحة بين جناحي الحركة المتنازعين... وأنها انتهت بميلاد لجنة الخمسة، لأن اللجنة الثورية كانت تضم في صفوفها بعض المركزيين، بينما لجنة الخمسة كانت مكونة فقط من قداماء المنظمة الخاصة، أو الذين يطلق عليهم العسكريون»

الكتاب المدرسي/السنة الثالثة ثانوي/التاريخ/ص167.

1. اشرح ما تحته خط في النص.

2. عرّف بالشخصيات التالية:

مصالي الحاج - محمد بلوزداد - شارل دغول - عبان رمضان.

3. أكمل الجدول التالي المتعلق بالجزائر:

التاريخ	الحدث
.....	ميلاد حركة الانتصار للحريات الديمقراطية
15 فيفري 1947	.....
.....	تأسيس اللجنة الثورية للوحدة والعمل
23 أكتوبر 1954	.....

4. على خريطة الجزائر المرفقة، أسند الولايات الثورية لقادتها حسب تقسيم نوفمبر 1954.

الجزء الثاني: (04 نقاط)

أصبحت الحرب الشاملة مستحيلة في زمن امتلاك القوى العظمى قدرات نووية لا تقهر. فالسلم العالمي يتطلب عيش الجميع في تفاهم، وحل الخلافات بواسطة التحكيم العادل والسلمي.

المطلوب: انطلاقا من الفقرة، واعتمادا على ما درست، اكتب مقالا تاريخيا تبرز فيه:

1. مظاهر توتر العلاقات بين القوى العظمى في كل من أوروبا و آسيا بين 1948-1961.

2. عوامل التحول في العلاقات بين القوتين.

## الجغرافيا

### الجزء الأول: (06 نقاط)

« قَدَّم البنك العالمي للبلدان النامية خلال الثمانينات الدعم المالي في صيغة قروض بعد مصادقة صندوق النقد الدولي... ودُعيت هذه البلدان إلى تطبيق التبادل الحر في الميدان التجاري، واعتُبر تحرير تنقل رؤوس الأموال وتخفيف التقنين من الشروط التي تضمن تحقيق النمو.»

موريس دوروسي، عولمة الاقتصاد 2005، ص 178

1. اشرح ما تحته خط في النص.

2. الجدول التالي يمثل تطور مؤشرات الدَّين الخارجي ببلدان الجنوب من 1980 إلى 2005.

السنوات				المؤشر
2005	2000	1990	1980	
2073	1773	1832	540	القيمة الإجمالية للدَّين الخارجي (بالمليار دولار)
370	286	150	90	القيمة الإجمالية لخدمة الدَّين (بالمليار دولار)

المصدر: كتاب الجغرافيا، حسن طياشي وآخرون، ص 77

أ- مثل معطيات الجدول بمنحنيين بيانيين معتمدا المقياس التالي: 1 سم ← 200 مليار دولار

1 سم ← 5 سنوات

ب- علق على الجدول.

3. على خريطة العالم المرفقة، وقّع ثلاث دول مصدرة للبترول وثلاث دول مستوردة له.

### الجزء الثاني: (04 نقاط)

تمتلك الولايات المتحدة الأمريكية مجالا جغرافيا شاسعا وذاخرا بالموارد الطبيعية، إلا أنها تواجه صعوبات في تناقص مخزونها من المعادن والمحروقات، فتضطر إلى استيراد كميات كبيرة منها لتغطية حاجيات التصنيع المتزايد.

**المطلوب:** انطلاقا من الفقرة، واعتمادا على ما درست، اكتب مقالا جغرافيا تبرز فيه:

1. الدعائم الطبيعية لقوة الاقتصاد الأمريكي.

2. المشاكل التي تواجه الاقتصاد الأمريكي.

## الموضوع الثاني

## التاريخ

## الجزء الأول: (06 نقاط)

« تجرأت شعوب المستعمرات على المطالبة بالـاستقلال و الحرية و القيام بـالثورات التحررية بعد تيقنها من إمكانية النصر، وكان لوقوف الإتحاد السوفيتي و الكتلة الشرقية إلى جانب الشعوب المستعمرة دورا بارزا في نيلها الحرية والاستقلال، لاسيما وأن هذا الدعم جاء في المجال العسكري و الاقتصادي والسياسي وفي هيئة الأمم المتحدة... حيث كانت الولايات المتحدة الأمريكية تدعي احترام حقوق الشعوب في تقرير مصيرها أو في حكمها الذاتي ».

حسان علي حلاق، الوجيز في تاريخ العالم المعاصر، ص 106

1. اشرح ما تحته خط في النص.

2. عرّف بالشخصيات الآتية:

هوشي منه - المهاتما غاندي - فيدال كاسترو - جواهر لال نهرو.

3. أكمل الجدول الآتي:

التاريخ	الحدث
.....	استقلال الهند
.....	مؤتمر باندونغ
.....	معركة ديان بيان فو
.....	تأسيس المنظمة الفرانكفونية

4. على خريطة العالم المرفقة، حدّد بلدان الحركات التحررية الآتية: الفيتنام - الهند - الجزائر.

## الجزء الثاني: (04 نقاط)

اعتمدت الجمهورية الفرنسية الخامسة إستراتيجية متعددة الجوانب، فشلت أمام قوة الثورة، وأرغمت على قبول مبدأ التفاوض.

المطلوب: انطلاقا من الفقرة، واعتمادا على ما درست، اكتب مقالا تاريخيا تبرز فيه:

1. الاستراتيجية العسكرية للجمهورية الخامسة تجاه الثورة.

2. دوافع فرنسا لقبول مبدأ التفاوض.

## الجغرافيا

## الجزء الأول: (06 نقاط)

« تبنت المجموعة الاقتصادية الأوروبية التي تشكو العجز الغذائي السياسة الفلاحية المشتركة منذ 1962، وتهدف هذه السياسة إلى الرفع في الإنتاجية وتأمين مستوى عيش لائق للفلاحين وضمان التزود بالمنتجات الفلاحية الغذائية بأسعار مناسبة للمستهلكين... وارتبط نجاح هذه السياسة بتركز سوق مشتركة حقيقية تعتمد وحدة السوق عبر إلغاء الحواجز الجمركية وتقريب المواصفات الصحية والفنية للمنتجات، ووحدة الأسعار عبر آليات تعديل، وأفضلية التعامل التجاري والتضامن المالي بين الدول الأعضاء.»

السياسة الفلاحية المشتركة، مصادر أوروبا، 2003

1. اشرح ما تحته خط في النص.

2. الجدول التالي يمثل نسب الاستثمار بين الاتحاد الأوروبي و بعض دول العالم (2001-2003)

الدول	الاستثمار الصادر	الاستثمار الوارد
الصين	0 %	12.1 %
اليابان	8.1 %	1.7 %
الولايات المتحدة الأمريكية	31.8 %	19.9 %

Investissements directs étrangers de l'union européenne en 2003. Euro state 2005

أ- مثل معطيات الجدول بأعمدة بيانية بمقياس: 1 سم ← 05 % ، 1 سم ← عمود  
ب- علق على الرسم.

3. على خريطة العالم وقّع الأقطاب الاقتصادية الواردة في الجدول.

## الجزء الثاني: (04 نقاط)

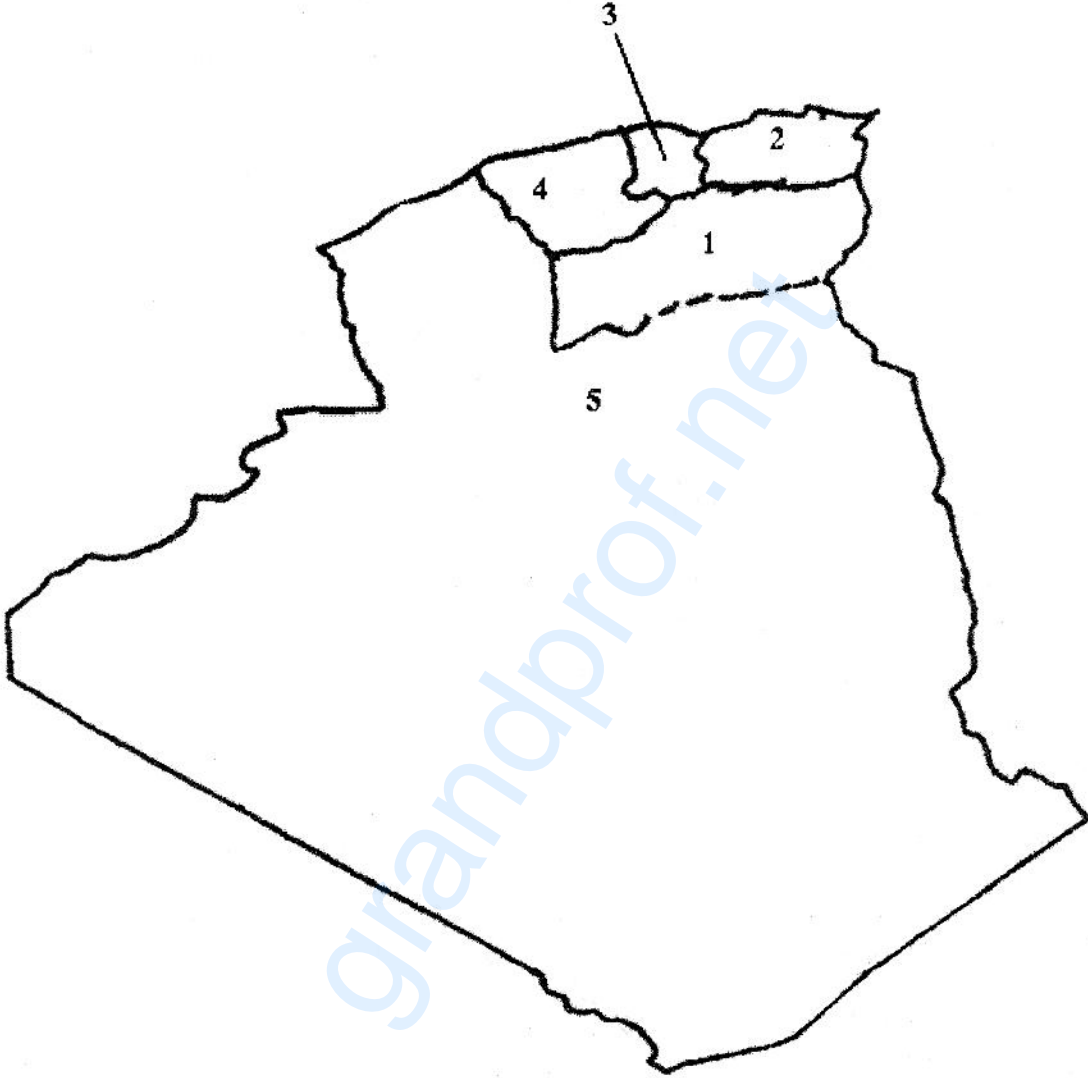
تعتبر الشراكة بين الجزائر والدول الأوروبية متوسطة إطارا للحوار والتعاون الثنائي وتبادل المنافع.

المطلوب: انطلاقا من الفقرة، واعتمادا على ما درست، اكتب مقالا جغرافيا تبرز فيه:

1. الخصائص الطبيعية والحضارية المشتركة بين الجزائر والدول الأوروبية.

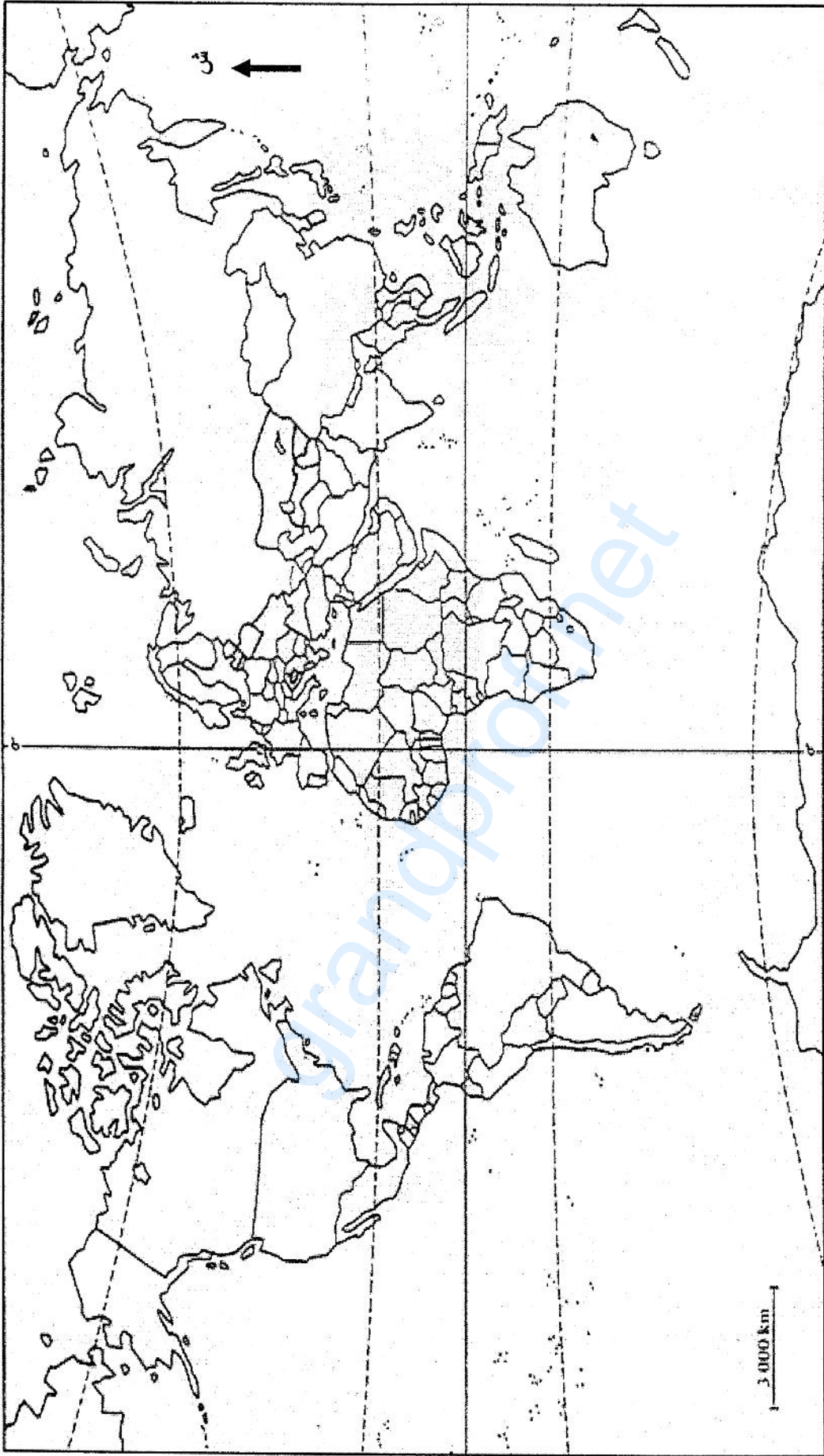
2. الآفاق المستقبلية للشراكة الجزائرية الأوروبية.

خريطة الجزائر



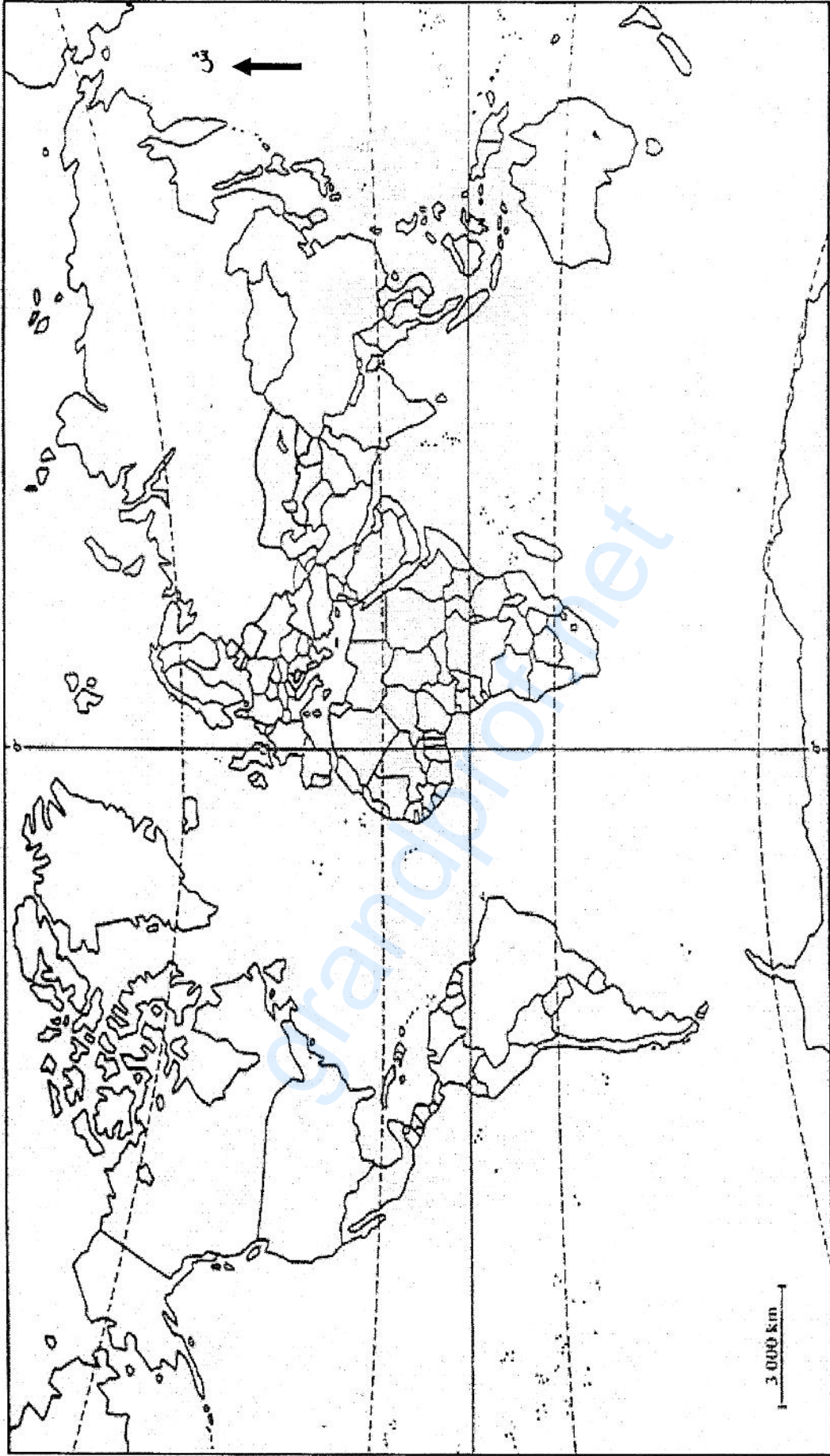
ينجز العمل على الخريطة وتعاد مع أوراق الإجابة

خريطة العالم



ينجز العمل المطلوب على الخريطة وتعاد مع أوراق الإجابة

خريطة العالم



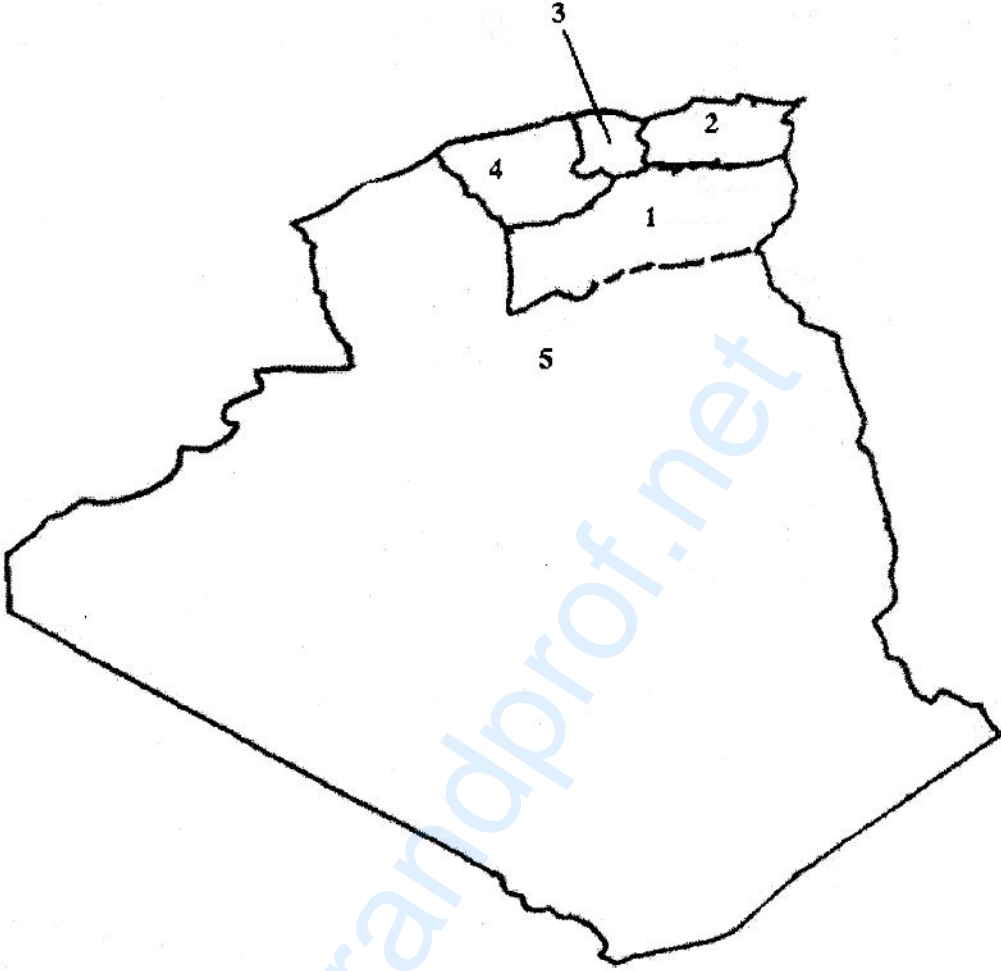
ينجز العمل المطلوب على الخريطة وتعاد مع أوراق الإجابة

العلامة		عناصر الإجابة ( الموضوع الأول )	محاور الموضوع										
المجموع	مجزأة												
06		<b>التاريخ</b> <b>الجزء الأول: (06ن)</b>											
		1- المصطلحات: - المصاليون: أتباع مصالي الحاج من حركة الانتصار للحريات الديمقراطية أصحاب مبدأ القيادة الفردية.	0.50										
		- اللجنة الثورية: تنظيم ثوري ظهر بتاريخ 23 مارس 1954 إثر أزمة حركة الانتصار للحريات الديمقراطية للتعبيل بتفجير الثورة.	0.50										
		- لجنة الخمسة: لجنة منبقة عن لجنة 22 كلفت بالاعداد والتحضير للثورة.	0.50										
		- المنظمة الخاصة: الجناح العسكري لحركة الانتصار مكلف بالتحضير للثورة عن طريق جمع الأسلحة والتدريب.	0.50										
		2- الشخصيات: - مصالي الحاج: أحمد مصالي (16 ماي 1898-03 جوان 1974) أمين عام نجم شمال إفريقيا ثم حزب الشعب الجزائري 1937 فحركة الانتصار للحريات الديمقراطية 2 نوفمبر 1946.	0.50										
		- محمد بلوزداد: (1924-1952) مناضل في حزب الشعب - أحد قيادي حركة الانتصار، أول رئيس للمنظمة الخاصة 47 ، توفي في 14 /01/ 1952.	0.50										
		- شارل دوغول: (1890-1970) رئيس حكومة فرنسا، 1 جوان 1958 إلى 8 جانفي 1959 ثم رئيسا للجمهورية الفرنسية الخامسة 1959-1969 جيء به وبصلاحيات واسعة بهدف القضاء على الثورة التحريرية.	0.25										
		- عيان رمضان: (1920-1957) مناضل بحركة الانتصار، أحد أعضاء 22، مساعد قائد الولاية الخامسة ومهندس مؤتمر الصومام.	0.50										
		3- تكملة الجدول:											
		<table border="1"> <thead> <tr> <th>التاريخ</th> <th>الحدث</th> </tr> </thead> <tbody> <tr> <td>02 نوفمبر 1946</td> <td>ميلاد حركة الانتصار للحريات الديمقراطية</td> </tr> <tr> <td>15 فيفري 1947</td> <td>المنظمة الخاصة</td> </tr> <tr> <td>23 مارس 1954</td> <td>تأسيس اللجنة الثورية للوحدة والعمل</td> </tr> <tr> <td>23 أكتوبر 1954</td> <td>الاجتماع الأخير لتحديد تاريخ تفجير الثورة</td> </tr> </tbody> </table>	التاريخ	الحدث	02 نوفمبر 1946	ميلاد حركة الانتصار للحريات الديمقراطية	15 فيفري 1947	المنظمة الخاصة	23 مارس 1954	تأسيس اللجنة الثورية للوحدة والعمل	23 أكتوبر 1954	الاجتماع الأخير لتحديد تاريخ تفجير الثورة	
التاريخ	الحدث												
02 نوفمبر 1946	ميلاد حركة الانتصار للحريات الديمقراطية												
15 فيفري 1947	المنظمة الخاصة												
23 مارس 1954	تأسيس اللجنة الثورية للوحدة والعمل												
23 أكتوبر 1954	الاجتماع الأخير لتحديد تاريخ تفجير الثورة												
	0.25												
	x 4												
	5x0.25												
		4- على خريطة الجزائر قادة الولايات الثورية الخمس حسب تقسيم نوفمبر 1954.											
04		<b>الجزء الثاني: (04ن)</b>											
		الصراع الأيديولوجي وتوتر العلاقات بين الشرق والغرب ( أوروبا وآسيا) .	0.5										
		1 - مظاهر التوتر في العلاقات بين القوى العظمى في أوروبا وآسيا بين 48 - 61:	0.5										
		أ- في أوروبا: * أزمة برلين I وII و1961	0.25										
		* أزمة بولونيا 1956											
		ب- في آسيا: * حرب الهند الصينية 54/46.	0.25										
		* أزمة كوريا 53/50.	0.5										
		2 - عوامل التحول في العلاقات بين القوتين. * نمو القوة التدميرية للقوتين	0.5										
		* مجيئ قيادة معتدلة.	0.25										
* التخوف من تحول الأزمات إلى مواجهة حقيقية.	0.5												
* ضغط الرأي العام العالمي (حركة عدم الانحياز)	0.25												
	0.5	الانتقال من أسلوب المجابهة إلى أسلوب الاحتواء جنب العالم حرب عالمية ثالثة مدمرة.	الخاتمة										



## الإجابة النموذجية مادة: التاريخ والجغرافيا الشعبية: آداب وفلسفة بكالوريا دورة: جوان 2012

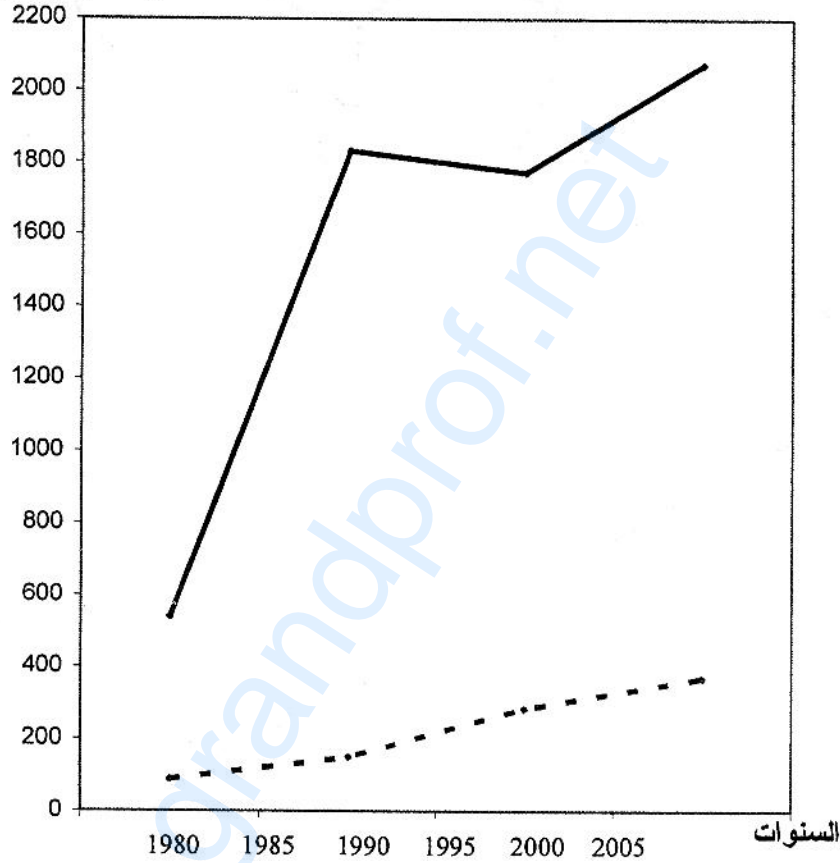
العلامة		عناصر الإجابة	محاو الموضوع
المجموع	مجزأة		
06		<b>الجزء الأول: (06ن)</b> 1- شرح المصطلحات: - القروض: هي أموال ممنوحة من طرف الهيئات والمؤسسات المالية، قصيرة متوسطة وطويلة المدى مقرونة بفوائد. - صندوق النقد الدولي: مؤسسة مالية دولية تأسس إثر اتفاقية بروثن وودز 1944 لتنظيم العلاقات المالية العالمية. - التبادل الحر: مبدأ من مبادئ التجارة العالمية، يهدف إلى تحرير المبادلات التجارية. - رؤوس الأموال: هي الموارد المختلفة التي يمكن استخدامها في العملية الإنتاجية لغرض تحسين إنتاجية العمل. 2- أ/ التمثيل البياني: * العنوان: * المقياس: * الانجاز: ب/ التعليق: تصاعد قيمة الديون لبلدان الجنوب بشكل مذهل حيث زاد بأربعة أضعافه. - تنامي خدمة الدين حيث قاربت سنة 2005 قيمة الدين لسنة 1980. 3- الخريطة: توقيع ثلاث دول مصدرة وثلاث مستوردة للبتترول.	
	0.5		
	0.5		
	0.5		
	0.5		
	0.25		
	0.25		
	2×0.50		
	0.50		
	0.50		
6×0.25			
04	0.5	<b>الجزء الثاني: (04ن)</b> تعد الو.م.أ أول قوة اقتصادية في العالم مما مكنها من قيادة العالم على جميع الأصعدة وذلك بفضل ما تتوفر عليه من دعائم طبيعية. 1- الدعائم الطبيعية لقوة الاقتصاد الأمريكي: * شساعة المساحة (9.3 م/ كم <sup>2</sup> ) * تنوع التضاريس والمناخ * وفرة الثروات الطبيعية (طاقة - معادن - خامات زراعية) * الإشراف على أهم المسطحات المائية و توفرها على شبكة مائية هائلة. * توفرها على موانئ طبيعية بالواجهة الأطلسية. * الموقع الفلكي (العروض الحارة والباردة) 2- المشاكل التي تواجه الاقتصاد الأمريكي: * تكدس الإنتاج الزراعي والصناعي وضخامته. * التبعية فيما يخص المواد الأولية لدول العالم المتخلف. * المنافسة الخارجية ونقلص أسواقها في العالم. * عجز الميزان التجاري وميزان المدفوعات. * الرسوم الجمركية المفروضة على السلع الأمريكية. * أزمة البطالة التي قدرت سنة 2004 ب: 4.5%. تبقى الإمكانيات الطبيعية للو.م.أ مصدر قوتها رغم ما يتعرض له اقتصادها من هزات اليوم.	المقدمة
	6×0.25		العرض
	6×0.25		
	0.5		الخاتمة

العلامة		عناصر الإجابة	معايير الموضوع
المجموع	مجزأة		
<p>خريطة الجزائر</p>  <p>1- مصطفى بن بولعيد 2- ديدوش مراد 3- كريم بلقاسم 4- رابح بيطاط 5- محمد العربي بن مهدي</p>			

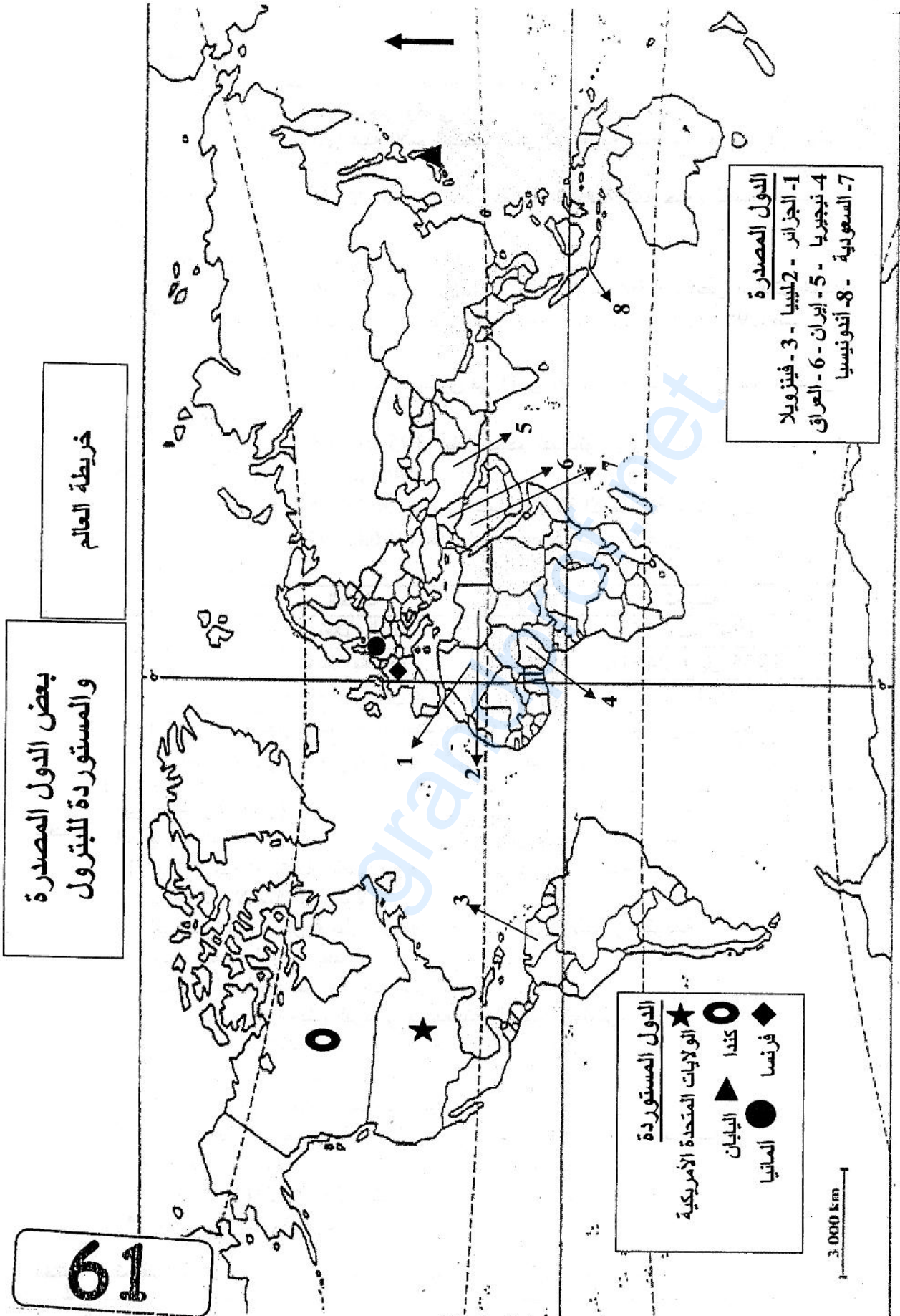
تطور مؤشرات الدين الخارجي لبلدان الجنوب من 1980 إلى 2005

200 مليار دولار  
5 سنوات

الوحدة (مليار دولار)



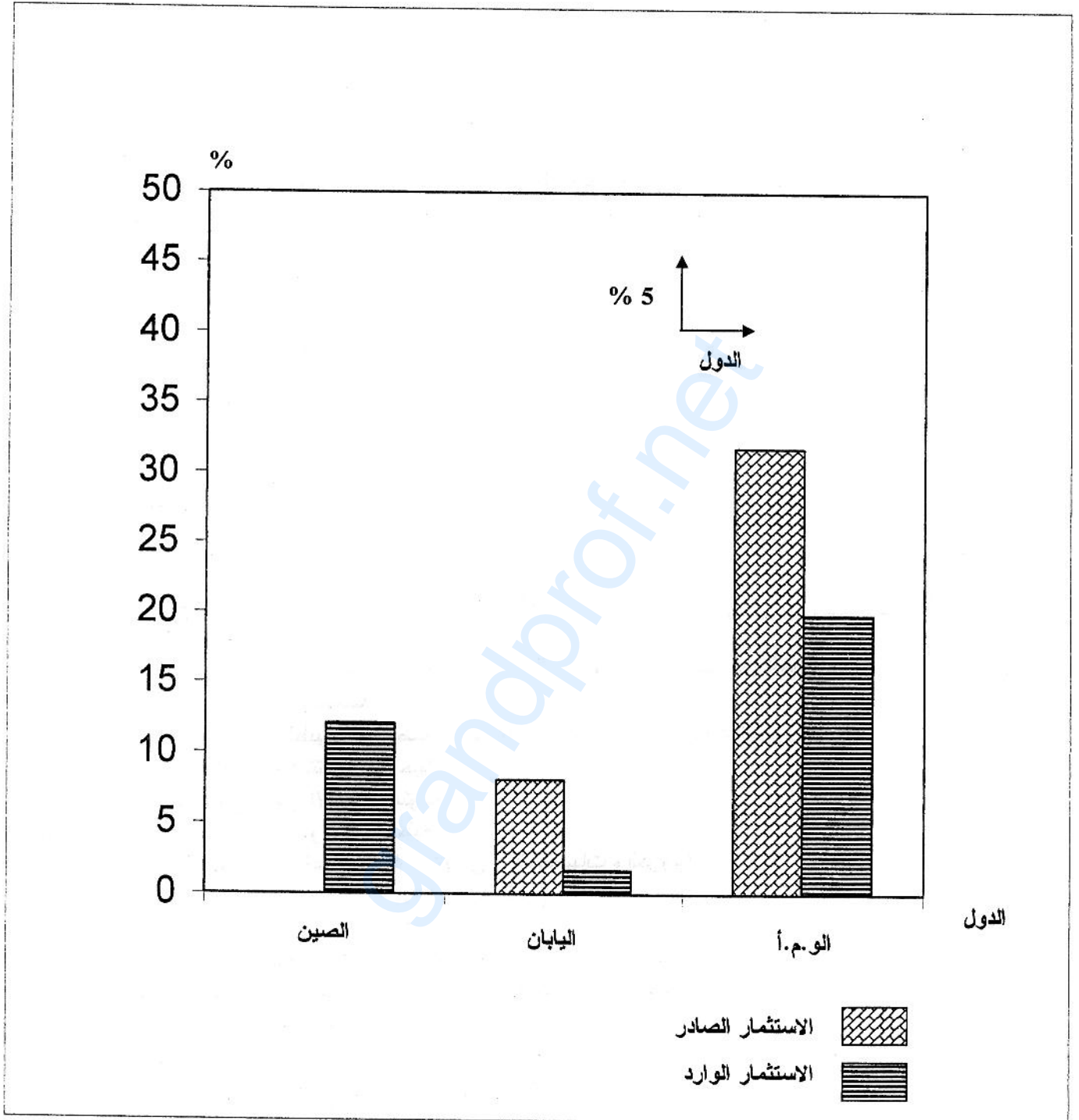
القيمة الإجمالية للدين الخارجي (بالمليار دولار)  
القيمة الإجمالية لخدمة الدين (بالمليار دولار)

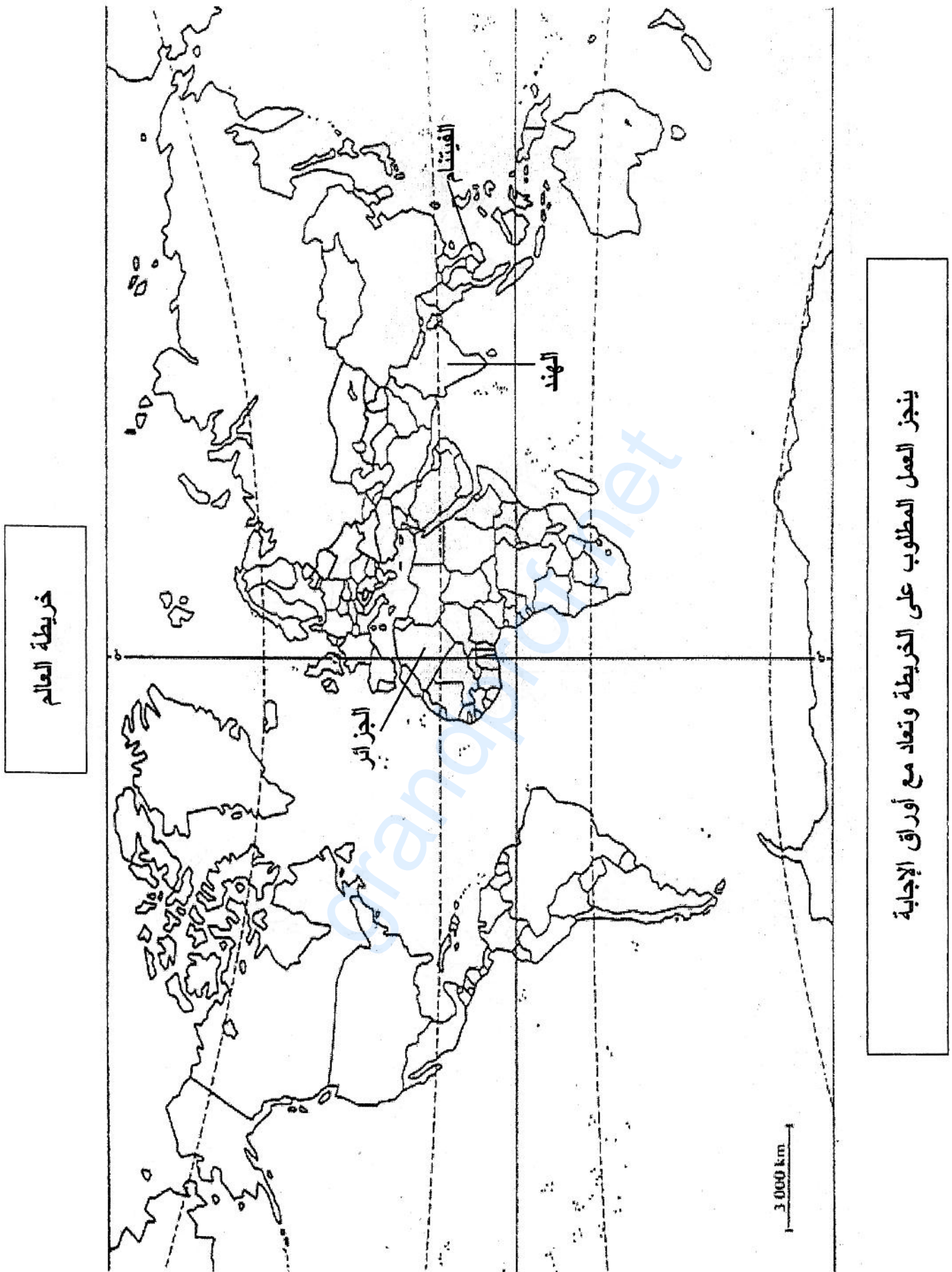


العلامة		عناصر الإجابة ( الموضوع الثاني )	محاو الموضوع											
المجموع	مجزأة													
06		<p><b>التاريخ:</b> <b>الجزء الأول: ( 06ن )</b></p> <p>1- المصطلحات:</p> <p>- الاستقلال: تحقيق الحرية واستعادة السيادة الوطنية الكاملة.</p> <p>- الثورات التحررية: رد فعل شعبي وطني هدفه التخلص من الاستعمار بمختلف أشكاله.</p> <p>- تقرير المصير: أحد مبادئ هيئة الأمم المتحدة يدعو إلى حرية الشعوب الضعيفة في اختيار مصيرها بنفسها.</p> <p>- الحكم الذاتي: تمتع الدولة بالاستقلال الداخلي مع بقاء السياسة الخارجية والحماية العسكرية في يد المستعمر.</p> <p>2- الشخصيات:</p> <p>- هوشي منه: 1894-1969 مؤسس الحزب الشيوعي الفيتنامي 1930. أعلن استقلال الفيتنام الشمالي سبتمبر 1945. خاض حرب التحرير ضد الوجود الفرنسي 1946-1954 ووضد الولايات المتحدة بداية من 1964.</p> <p>- المهاتما غاندي: أحد كبار القادة السياسيين في القرن 20 م ساهم في تحرير الهند، مهندس فلسفة اللاعنف.</p> <p>- فيدال كاسترو: رئيس كوبا منذ 1959، أطاح بحكم الديكتاتور باتيستا مقيما نظاما شيوعيا في الجزيرة. عرفت فترته أزمة كوبا 1962.</p> <p>- جواهر لال نهرو: (1889-1964)، من زعماء الحركة الاستقلالية للهند، أول رئيس وزراء الهند المستقلة (1947-1964) أحد مؤسسي حركة عدم الانحياز.</p> <p>3- تكلمة الجدول:</p>												
	0.50													
	0.50													
	0.50													
	0.5													
	0.5													
	0.25													
	0.25													
	4×0.25		<table border="1"> <thead> <tr> <th>التاريخ</th> <th>الحدث</th> </tr> </thead> <tbody> <tr> <td>15 اوت 1947</td> <td>استقلال الهند</td> </tr> <tr> <td>18-24 افريل 1955</td> <td>مؤتمر باندونغ</td> </tr> <tr> <td>7 ماي 1954</td> <td>معركة ديان بيان فو</td> </tr> <tr> <td>20 مارس 1970</td> <td>تأسيس المنظمة الفرانكفونية</td> </tr> </tbody> </table>	التاريخ	الحدث	15 اوت 1947	استقلال الهند	18-24 افريل 1955	مؤتمر باندونغ	7 ماي 1954	معركة ديان بيان فو	20 مارس 1970	تأسيس المنظمة الفرانكفونية	
	التاريخ	الحدث												
15 اوت 1947	استقلال الهند													
18-24 افريل 1955	مؤتمر باندونغ													
7 ماي 1954	معركة ديان بيان فو													
20 مارس 1970	تأسيس المنظمة الفرانكفونية													
3×0.5		4- خريطة الحركات التحررية التالية: الفيتنام - الهند - الجزائر.												
04		<p><b>الجزء الثاني: ( 04ن )</b></p> <p>الجمهورية الفرنسية الخامسة بين سياسة القضاء على الثورة والقبول بمبدأ التفاوض.</p> <p>1- إستراتيجية الاستعمار العسكرية في عهد الجمهورية الخامسة:</p> <p>* سد قنوات الاتصال بين الولايات .</p> <p>* القيام بعمليات عسكرية مثل: عملية التاج -المنظار -الأحجار الكريمة.</p> <p>* تجنيد العملاء لزرع البلبلة.</p> <p>* استعمال الأسلحة المحرمة دوليا مثل النابالم.</p> <p>* زيادة عدد وعدة الجيش الفرنسي واستعانتته بالحلف الاطلسي.</p> <p>* عزل الثورة و إنشاء المناطق المحرمة.</p> <p>2- دوافع فرنسا لقبول مبدأ التفاوض:</p> <p>* قوة وانتصارات الثورة عسكريا وسياسيا</p> <p>* تعذر الانتصار العسكري للجيش الفرنسي وارتفاع نفقات الخزينة الفرنسية.</p> <p>* ضغوط الرأي العام العالمي والداخلي على الحكومة الفرنسية.</p> <p>* مظاهرات 11/12/1960 والتفاف الشعب الجزائري حول الثورة.</p> <p>* الخسائر المادية والبشرية لفرنسا.</p>	المقدمة											
	0.5													
	6×0.25													
	0.50													
	0.25													
	0.25													
	0.25													
	0.25													
	0.5		تحطم استراتيجية الجمهورية الخامسة أمام إصرار الثورة على الانتصار.	الخاتمة										

العلامة		عناصر الإجابة	محاور الموضوع
المجموع	مجزأة		
06	0.5	<b>الجغرافيا</b> <b>الجزء الأول: (06 ن)</b> 1- شرح المصطلحات: - المجموعة الاقتصادية الأوروبية: تكتل أوروبي ظهر في 25 مارس 1957 وفق اتفاقية روما من طرف ست دول : هولندا ، بلجيكا ، لكسمبورغ ، فرنسا ، ألمانيا الغربية ، إيطاليا	
	0.5	- العجز الغذائي: عدم قدرة الدول على توفير حاجيات سكانها من إنتاجها المحلي ولجؤها إلى الاستيراد	
	0.5	- الإنتاجية: - مردود الهكتار الواحد من المنتجات الفلاحية، أو مردود العامل في المصانع	
	0.5	- الحواجز الجمركية: الرسوم والضرائب المفروضة على السلع والأشخاص أثناء حركة التنقل والاستيراد والتصدير.	
	0.25	2- أ/ التمثيل البياني:	
	0.25	العنوان:	
	2×0.5	المفتاح:	
		الانجاز:	
	0.25	ب/ التعليق:	
	0.25	* ضخامة الاستثمارات الأمريكية.	
0.25	* عدم وجود استثمارات صادرة من الصين		
0.25	* استقطاب الصين للاستثمارات.		
0.25	* ارتفاع الاستثمار الصادر لليابان.		
3×0.5	3- التوقيع على الخريطة الأقطاب الاقتصادية الكبرى.		
04	0.5	<b>الجزء الثاني: ( 04 ن)</b> موقع الجزائر وانتمائها لمنطقة البحر الأبيض المتوسط اكسبها الكثير من الخصائص المشتركة مع باقي دول المنطقة	المقدمة
	4×0.25	1- الخصائص الطبيعية والحضارية المشتركة بين الجزائر والاتحاد الأوروبي: أ/ الطبيعية : تتشابه من حيث: * الإشراف على البحر الأبيض المتوسط . * مناخ و تضاريس الدول المتوسطية. * بعض المنتجات الزراعية( أشجار الزيتون و الحمضيات والكروم). * المشاكل الطبيعية( الفيضانات- الهزات الزلزالية )	
	0.25	ب/ الحضارية:	
	0.25	* أثرت وتأثرت بالحضارات (الرومانية - العربية الإسلامية - الفينيقية- الإغريقية)	
	0.25	* التاريخ المشترك مستعمر ومستعمر ( حملات استعمارية من الشمال نحو الجنوب)	
	0.5	2- <b>الأفاق المستقبلية:</b>	
	0.25	* تجسيد الشراكة الأورو متوسطية على أسس عادلة .	
	0.25	* إرساء وإثراء التعاون الثقافي والعلمي بين الطرفين	
	0.5	* تشجيع الاستثمارات الأوروبية في الجزائر	
	0.25	* التعاون الاقتصادي وتحويل رؤوس الأموال	
0.5	الخصائص الطبيعية والحضارية المشتركة تؤهل المنطقة للعب الأدوار الريادية في العالم	الخاتمة	

نسب الاستثمار بين الاتحاد الأوروبي و بعض دول العالم (2001-2003)





خريطة العالم

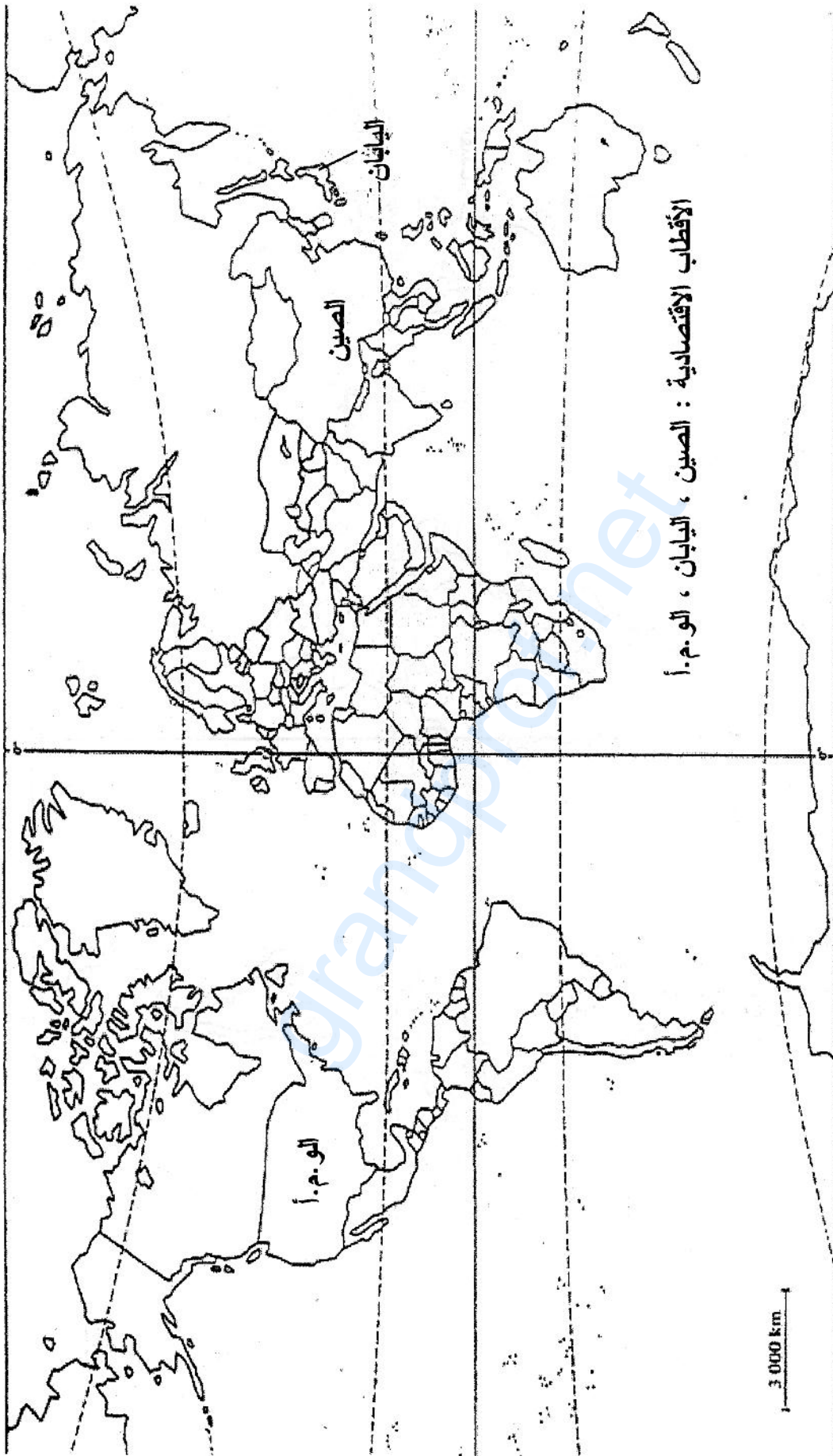
ينجز العمل المطلوب على الخريطة وتعاد مع أوراق الإجابة

65



الإجابة النموذجية مادة: التاريخ والجغرافيا الشعبية: آداب وفلسفة بكالوريا دورة: جوان 2012

خريطة العالم



الأقطاب الاقتصادية : الصين ، اليابان ، الو.م.أ.

ينجز العمل المطلوب على الخريطة وتعاد مع أوراق الإجابة