

الإجابة النموذجية لموضوع امتحان البكالوريا دورة: 2015

اختبار مادة: التاريخ و الجغرافيا الشعبة: علوم تجريبية ، رياضيات ، تقني رياضي المدة: 03 سا و 30 د.

العلامة		عناصر الإجابة	(الموضوع الأول)	
مجموع	مجزأة			
06	0.75	<p>التاريخ: الجزء الأول: (06 نقاط) 1- تعريف المصطلحات التي تحتها خط: - القوتين: الدولتان الكبيرتان (الو.م.أ. والاتحاد السوفييتي) اللتان كانت كل واحدة منهما تقود معسكرا يضم مجموعة من الدول في أوروبا والعالم. - صيغ التقارب: سياسة الوفاق بين المعسكرين التي ظهرت منذ سنة 1956 في إطار التعايش السلمي. - حرب نووية: الحرب التي تستخدم فيها الأسلحة الذرية والنووية التي تمتلكها الدول الكبرى. 2 - تعريف الشخصيات: - مصطفى بن بو لعيد: (1917 . 1956) مناضل جزائري بدأ نشاطه في حزب الشعب، من مؤسسي المنظمة الخاصة ، عضو لجنة 22 ، قائد الولاية الأولى، استشهد إثر انفجار مذياع مفخخ سنة 1956. - رونالد ريغن: (1911-2004) رئيس الو.م.أ بين 1981-1989م عرف بالتشدد في علاقاته مع الاتحاد السوفييتي صاحب مشروع حرب النجوم أو عسكرة الفضاء وهو أحد رموز الحرب الباردة والمهندسين لانتهيار المعسكر الشيوعي بالضغط والتهديد. - ليونيد برجنيف: (1906 . 1982) رجل دولة سوفييتي اشتهر بالمبدأ الذي عرف باسمه ، كان وراء العديد من التدخلات العسكرية مثل غزو أفغانستان 1979، أبرم معاهديتي سالت1 وسالت2. 3. جدول الأحداث:</p>		
		0.50	0.50	0.50
		0.50	0.50	0.50
		0.50	0.50	0.50
		0.50	0.50	0.50
		0.50	0.50	0.50
		0.50	0.50	0.50
		0.50	0.50	0.50
		0.50	0.50	0.50
		0.50	0.50	0.50

الإجابة النموذجية لموضوع امتحان البكالوريا دورة: 2015

اختبار مادة: التاريخ و الجغرافيا الشعبة: علوم تجريبية ، رياضيات ، تقني رياضي المدة: 03 سا و 30 د.

		الجزء الثاني: (04 نقاط)
	0.50	المقدمة: بعد الفزع والرعب الذي أصاب السلطة الاستعمارية والمستوطنين من خلال عمليات الفاتح نوفمبر 1954م، كثف الاستعمار عملياته على منطقة الأوراس فما هو رد فعل الثورة عن ذلك؟ العرض: 1 . ظروف هجومات الشمال القسنطيني:
	0.25	. استشهاد بعض القادة مثل ديدوش مراد 18/01/1955 واعتقال مصطفى بن بو لعيد و رايح بيطاط 1955.
	0.25	. سقوط حكومة مانديس فرانس في فبراير 1955 وتولي إدغار فور.
	0.25	. الحصار المفروض من طرف الاستعمار على منطقة الأوراس.
	0.25	. سعي الحاكم العام الفرنسي جاك سوستال لطرح مشروعه الإغرائي 1955.
04	0.25	. إعلان حالة الطوارئ في الجزائر 03 أفريل 1955.
	0.25	. استعداد هيئة الأمم المتحدة لعقد دورتها العاشرة في شهر سبتمبر 1955 و إسماع صوت الثورة الجزائرية. 2 . أهداف هذه الهجومات:
	0.25	. فك الحصار المضروب على منطقة الأوراس.
	0.25	. الحصول على السلاح و الرد على مجازر العدو.
	0.25	. تحدي الاستعمار وتنفيذ ادعاءاته حول الثورة بتنظيم الهجومات في وضوح النهار.
	0.25	. معرفة الموقف الحقيقي لجماهير الشعب من الثورة.
	0.25	. التضامن مع المغرب في الذكرى الثانية لنفي السلطان محمد الخامس.
	0.25	. إسماع صوت الثورة الجزائرية للعالم و تدويلها كقضية تصفية استعمار (انعقاد الدورة العاشرة للجمعية العامة 1955/09/30).
		الخاتمة:
	0.50	رغم شراسة الاستعمار الفرنسي و محاولته خنق الثورة إلا أنها تمكنت من تحقيق التلاحم الشعبي حولها، و إعطاء القضية الجزائرية بعدا إقليميا و دوليا بعد أحداث 20 أوت 1955.

الإجابة النموذجية لموضوع امتحان البكالوريا دورة: 2015

اختبار مادة: التاريخ و الجغرافيا الشعبة: علوم تجريبية ، رياضيات ، تقني رياضي المدة: 03 سا و 30 د.

		الجغرافيا: الجزء الأول: (06 نقاط)
		1 - تعريف المصطلحات التي تحتها خط:
0.75		- <u>البورصات</u> : أسواق مالية منظمة تخضع لقوانين السوق يتم فيها تداول العملات والسندات والأسهم وتحديد أسعار المواد الأولية المختلفة.
0.75		- <u>رؤوس الأموال</u> : (رساميل) هي الموارد المالية المختلفة التي يمكن استخدامها في مجالات التنمية و الاستثمار.
0.75		- <u>صندوق النقد الدولي</u> : مؤسسة مالية دولية تأسست في 1945 مقرها واشنطن تعمل على تسيير النظام النقدي الدولي منذ الحرب العالمية الثانية.
06	1.50	<u>التمثيل بالأعمدة البيانية</u> : - الإنجاز: (الدول العشر المنتجة للقمح)
0.25		- المقياس: 1 سم ← 10 م طن ، 1 سم ← دولة
0.50		- المفتاح العنوان:
		<u>التعيين على الخريطة</u> :
0.75		03 دول مصدرة مثل: الو.م.أ ، فرنسا ، كندا.
0.75		03 دول مستوردة مثل: الصين الشعبية ، الهند ، باكستان .
		<u>الجزء الثاني: (04 نقاط)</u>
0.50		المقدمة: كانت دول القارة الأوربية أكثر تأثرا بخسائر الحرب العالمية الثانية مما دفعها إلى التكتل والاندماج لاستعادة المكانة الضائعة ، فما هي الإمكانيات الاقتصادية لتحقيق ذلك؟ و ما هي العوائق التي مازال تواجهها؟ العرض:
0.50		1 . الإمكانيات الاقتصادية للاتحاد الأوربي:
0.50		.وفرة رؤوس الأموال و قوتها الاستثمارية.
0.50		.ضخامة الإنتاج الزراعي و الصناعي و تنوعه.
0.50		.التحكم في التكنولوجيا و البحث العلمي.
		.سوق تجارية مثالية للتكامل و الاندماج.
0.25		2 . العوائق التي ما تزال تعرقل طموحاته:
0.25		.الاقتتار إلى المواد الأولية (الطاقة و المعادن).
04	0.25	.عدم انضمام كل دول الاتحاد إلى منطقة اليورو و الأزمات المالية و تأثيراتها (اليونان).
0.25		.تفاوت درجة التطور بين دول الاتحاد (أوروبا الشرقية و الغربية).
		.عدم احترام مبدأ الأفضلية من بعض دول الاتحاد و اشتداد المنافسة الخارجية.
0.50		الخاتمة: رغم العراقيل التي تواجه الاتحاد الأوربي إلا أنه يحتل مركز ريادة اقتصادية على الصعيد العالمي.

الإجابة النموذجية لموضوع امتحان البكالوريا دورة: 2015

اختبار مادة: التاريخ و الجغرافيا الشعبة: علوم تجريبية ، رياضيات ، تقني رياضي المدة: 03 سا و 30 د.

العلامة		عناصر الإجابة	(الموضوع الثاني)
مجموع	مجزأة		
06			التاريخ: الجزء الأول: (06 نقاط) 1 - تعريف المصطلحات التي تحتها خط: حركة ثورية: حركة وطنية تحريرية تتخذ من الكفاح المسلح أسلوبا لها لتغيير الأوضاع القائمة تهدف إلى الاستقلال الوطني كهدف من أهداف الثورة الجزائرية. الانفراج الدولي: سياسة التقارب التي ظهرت في أفق العلاقات بين الشرق والغرب بعد ستالين وبداية حل الأزمات كما حدث في مؤتمر جنيف 1954 الخاص بالهند الصينية. سندها الدبلوماسية: الدعم السياسي الذي لقيته القضية الجزائرية اقليميا و دوليا (المحافل الدولية). 2 - تعريف الشخصيات: - هواري بومدين: (1932-1978) زعيم ثوري وسياسي جزائري شارك في الثورة التحريرية تولى قيادة أركان جيش التحرير الوطني سنة 1961م عين نائبا للرئيس بن بلة من 1963-1965 قاد حركة 19/06/1965م ورئيس مجلس الثورة ثم رئيس الجزائر 1965-1978م عرف بإنجازاته الداخلية الضخمة وبمواقفه التحررية الخارجية ترأس عدم الانحياز 1973-1976م طالب بإعادة النظر في أسعار المواد الأولية. - جواهرلال نهرو: (1889-1964) زعيم سياسي هندي رقيق غاندي وأول رئيس وزراء للهند بعد الاستقلال 1947-1964م وأحد أقطاب حركة عدم الانحياز الثلاثة. -جورج مارشال: جنرال أمريكي رئيس أركان الجيش الأمريكي أثناء الحرب العالمية الثانية ، وزير خارجية أمريكا من 1947-1949 صاحب المشروع الذي يحمل اسمه. 3. جدول الأحداث:
	0.75		
	0.75		
	0.75		
	0.75		
	0.75		
	0.75		
	0.75		
	0.50		
	0.50		
0.50			

الإجابة النموذجية لموضوع امتحان البكالوريا دورة: 2015

اختبار مادة: التاريخ و الجغرافيا الشعبة: علوم تجريبية ، رياضيات ، تقني رياضي المدة: 03 سا و 30 د.

		الجزء الثاني: (04 نقاط)
	0.50	المقدمة: تميزت فترة السبعينيات من القرن الماضي بتبادل الزيارات بين قادة المعسكرين لتجسيد سياسة الانفراج الدولي. العرض:
		1. مظاهر التقارب بين الشرق و الغرب:
	0.25	. التقارب الصيني الأمريكي بعد زيارة الرئيس الأمريكي ريتشارد نيكسون إلى بكين 1972 و حصول الصين الشعبية على مقعد دائم في مجلس الأمن.
	0.25	. تبادل الزيارات بين الرئيسين الأمريكي نيكسون والسوفييتي بريجنيف سنتي 1972 و 1973م.
	0.25	. توقيع اتفاقيات الحد من الأسلحة الإستراتيجية الهجومية في موسكو سالت 1 سنة 1972 و سالت 2 سنة 1979.
04	0.25	. التبادل التجاري والتعاون العلمي (تصدير القمح الأمريكي إلى الاتحاد السوفييتي وتصدير الغاز السوفييتي إلى غرب أوروبا).
	0.25	. توقيع وثيقة هلسنكي حول الأمن و التعاون في أوروبا 1975.
	0.25	. التعاون العلمي في مجال غزو الفضاء (أبولو الأمريكية و سيوز السوفياتية).
		2 موقف العالم الثالث من هذا التطور في العلاقات:
	0.50	. الترحيب بالتقارب بين المعسكرين.
	0.50	. الدعوة إلى حل المشاكل الدولية بالطرق السلمية و رفض التدخل في الشؤون الداخلية للدول.
	0.50	. المطالبة بتصفية الاستعمار و حق الشعوب في تقرير المصير و محاربة الميز العنصري و الصهيونية.
	0.50	الخاتمة: استنتاج حول انعكاسات سياسة التقارب بين الشرق و الغرب على العالم.
		الجغرافيا:
		الجزء الأول: (06 نقاط)
		1 - تعريف المصطلحات التي تحتها خط:
	0.75	الدول النامية: دول العالم الثالث التي خضعت للاستعمار المباشر و غير المباشر و استقلت حديثا تسعى لاستغلال إمكانياتها للخروج من دائرة التخلف.
	0.75	أمنها الغذائي: أي قدرتها على تأمين المواد الغذائية اللازمة لسكانها و بالقدر الكافي اعتمادا على إمكانياتها الذاتية دون اللجوء إلى الاستيراد.
	0.75	مواد أولية: مختلف الموارد الطبيعية الباطنية و السطحية مثل الطاقة و المعادن والغابات.

الإجابة النموذجية لموضوع امتحان البكالوريا دورة: 2015

اختبار مادة: التاريخ و الجغرافيا الشعبة: علوم تجريبية ، رياضيات ، تقني رياضي المدة: 03 سا و 30 د.

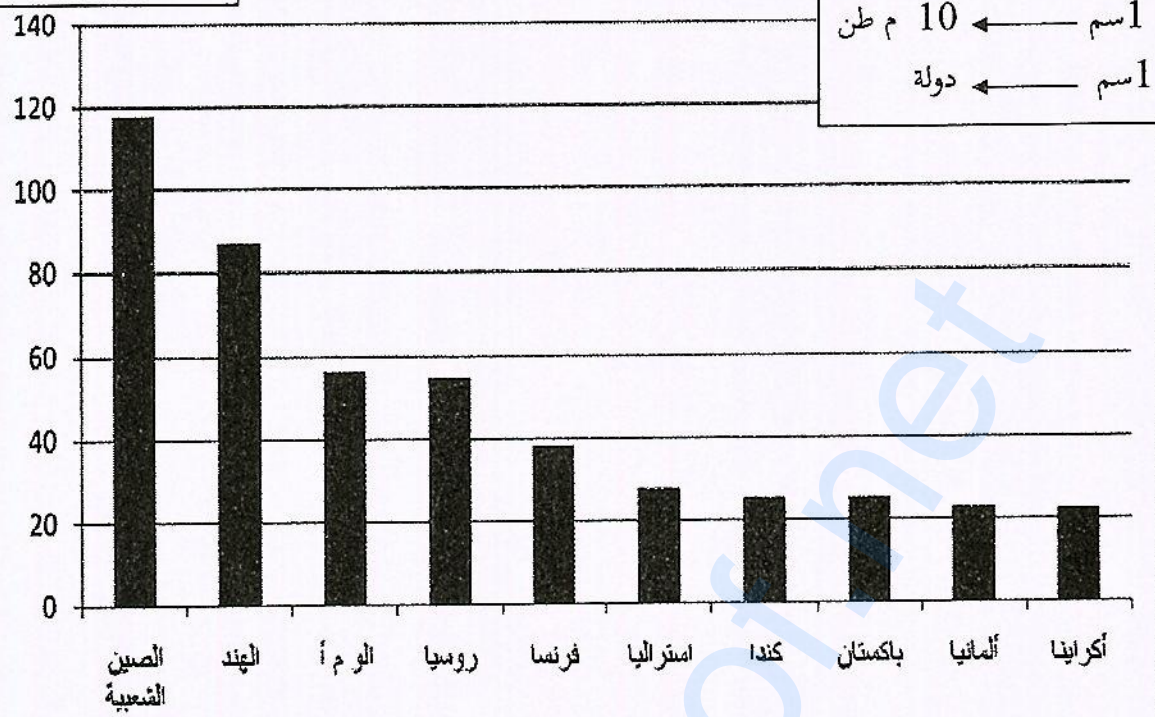
		التمثيل بمنحنى بياني: منحى بياني لتطور أسعار البترول 1990 . 2012.
	1.50	. الإنجاز
	0.50	. العنوان
	0.25	. المقياس
		التعيين على الخريطة:
	0.75	. 3 دول مصدرة للبترول: السعودية . فنزويلا . الجزائر .
06	0.75	. 3 دول مستوردة له: الو.م.أ . اليابان . فرنسا .
		الجزء الثاني: (04 نقاط)
	0.50	المقدمة: الو.م.أ. رابع قوة مساحية في العالم ، وثالث قوة بشرية بعد الصين والهند ، وهي أول قوة اقتصادية في العالم بدون منازع ، فما هي مظاهر هذه القوة الاقتصادية الأمريكية؟ و ما الصعوبات التي تواجهها؟ العرض:
		1 . مظاهر القوة الاقتصادية للولايات المتحدة الأمريكية:
	0.25	. قوة فلاحية كبرى في العالم (ثاني قوة فلاحية بعد الصين).
	0.25	. أكبر قوة صناعية في العالم (ضخامة الإنتاج الصناعي و تنوعه).
	0.25	. قوة تجارية كبرى في العالم ، تساهم ب 15% من التجارة العالمية.
	0.25	. قاعدة للتطور العلمي والبحث التكنولوجي ووفرة البنيات التحتية (مطارات، طرق، سكة حديدية).
	0.25	. هيمنة الدولار على المبادلات التجارية العالمية (50% من المبادلات تتم بالدولار).
	0.25	. تحكمها في المؤسسات المالية الكبرى (وول ستريت).
	0.25	2. الصعوبات الاقتصادية التي تواجه الولايات المتحدة الأمريكية:
	0.25	. الحاجة إلى المواد الأولية و في مقدمتها الطاقة المحركة رغم ضخامة و تنوع مواردها.
	0.25	. المنافسة العالمية خاصة من طرف اليابان و الاتحاد الأوربي و الصين الشعبية.
04	0.25	. عجز الميزان التجاري الأمريكي المزمع (500 مليار دولار سنويا).
	0.25	. تزايد الديون الخارجية حيث تعتبر الو.م.أ أكبر بلد مدين في العالم.
	0.25	. الأزمات الاقتصادية و المالية الدورية (أزمة 2008).
	0.25	. تزايد التلوث البيئي بسبب كثرة النفايات الصناعية.
	0.50	الخاتمة: يبقى الاقتصاد الأمريكي أقوى اقتصاد مهيم على العالم رغم تعدد مشاكله و أزماته.
		ملاحظة: تقبل مختلف الإجابات الصحيحة الأخرى في الموضوعين الأول والثاني مع احترام سلم التتقيط الوطني.

الإجابة النموذجية لموضوع امتحان البكالوريا دورة: 2015

اختبار مادة: التاريخ و الجغرافيا الشعبة: علوم تجريبية ، رياضيات ، تقني رياضي المدة: 03 سا و 30 د.

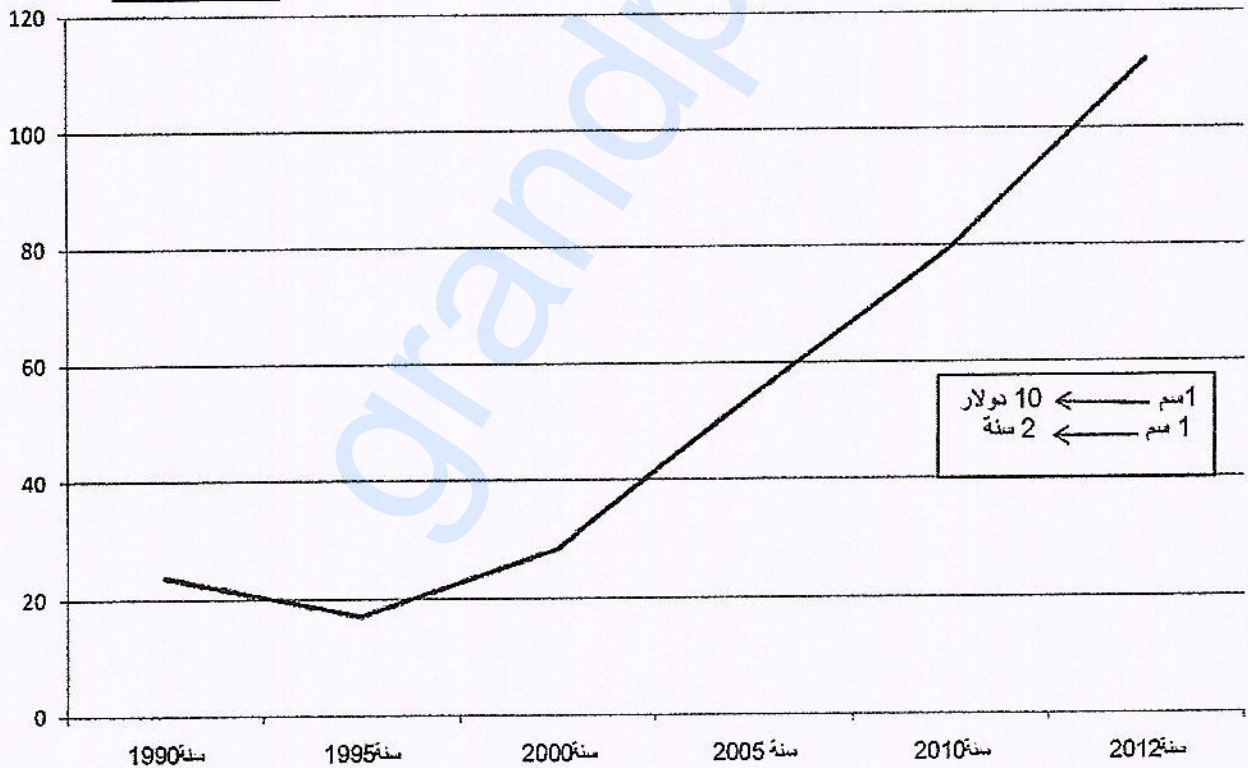
الدول العشر الكبرى المنتجة للقمح 2011

الوحدة: مليون طن



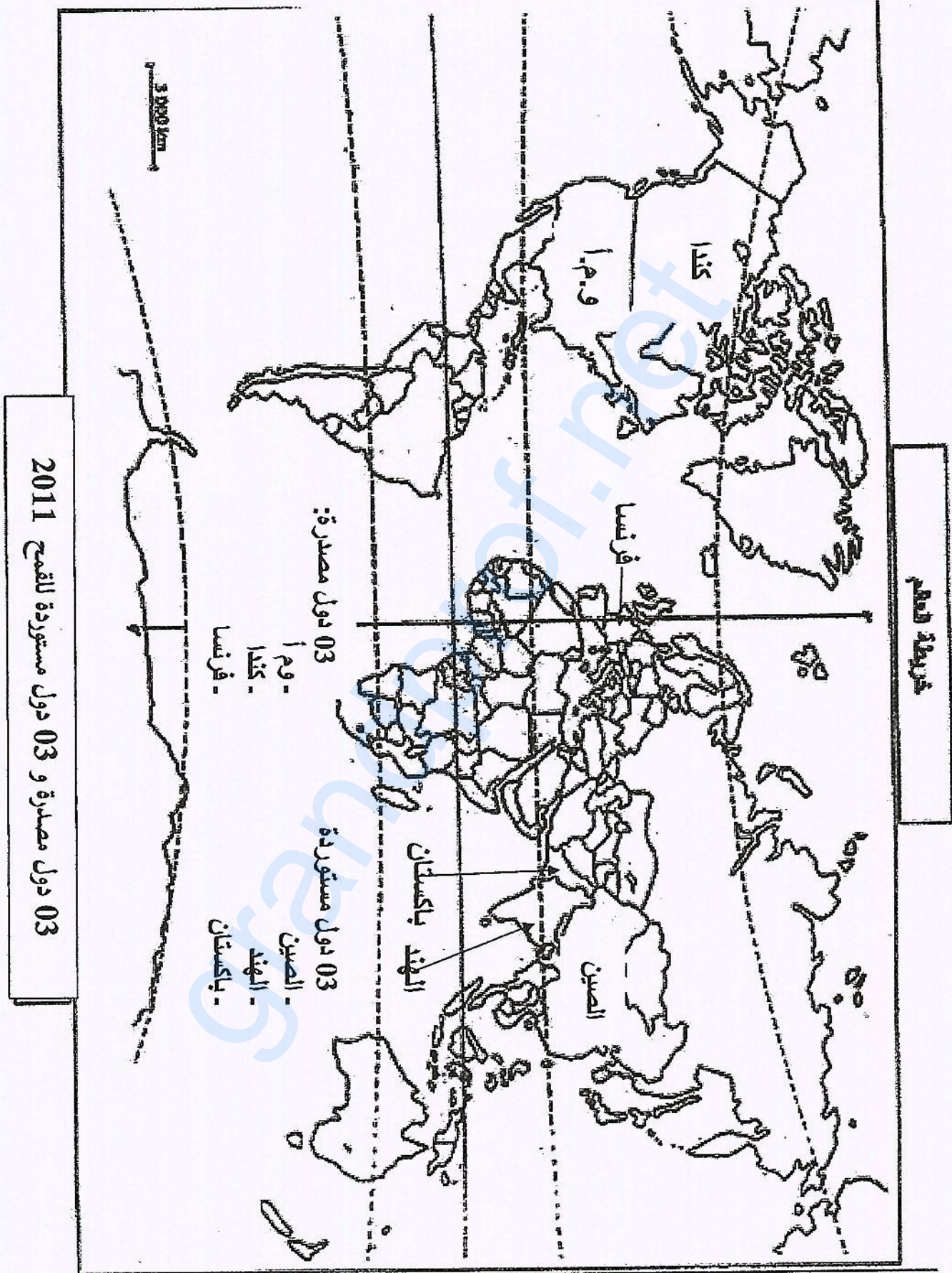
الوحدة : دولار

تطور أسعار البترول الخام 1990 - 2012



الإجابة النموذجية لموضوع امتحان البكالوريا دورة: 2015

اختبار مادة: التاريخ و الجغرافيا الشعبة: علوم تجريبية ، رياضيات ، تقني رياضي المدة: 03 سا و 30 د.



الإجابة النموذجية لموضوع امتحان البكالوريا دورة: 2015

اختبار مادة: التاريخ و الجغرافيا الشعبة: علوم تجريبية ، رياضيات ، تقني رياضي المدة: 03 سا و 30 د.

