

COLLEGE PRIVÉ BILINGUE DJA' ANKEU


BACCALAUREAT BLANC N°2

Département de :
D'HISTOIRE/GÉOGRAPHIE/ECM

CLASSE : TERMINALES CD

Épreuve de Géographie

Durée : 2h



Coef : 1

PREMIÈRE PARTIE: ÉVALUATION DES RESSOURCES (9pts)

1. Dans une production de 10 à 15 lignes, présente et analyse deux facteurs de la mondialisation. (5pts)

2. Travaux pratiques : (4pts)

Le tableau ci-dessous présente les sources de gaz carboniques liées à l'activité humaine pour la production des biens :

Sources	Énergie	Industrie	Transport	Autres
Émissions en %	43	19	25	13

J.M Lambin, *Histoire-Géographie 2^{nde}*, Paris, Hachette, 2005, P.85.

a) Construis un diagramme circulaire représentant ces différentes sources d'émission du gaz carbonique.

NB : Chaque source d'émission sera représentée par un figuré différent.

b) Comment le diagramme ainsi construit en insistant sur l'impact de l'action de l'homme sur l'environnement.

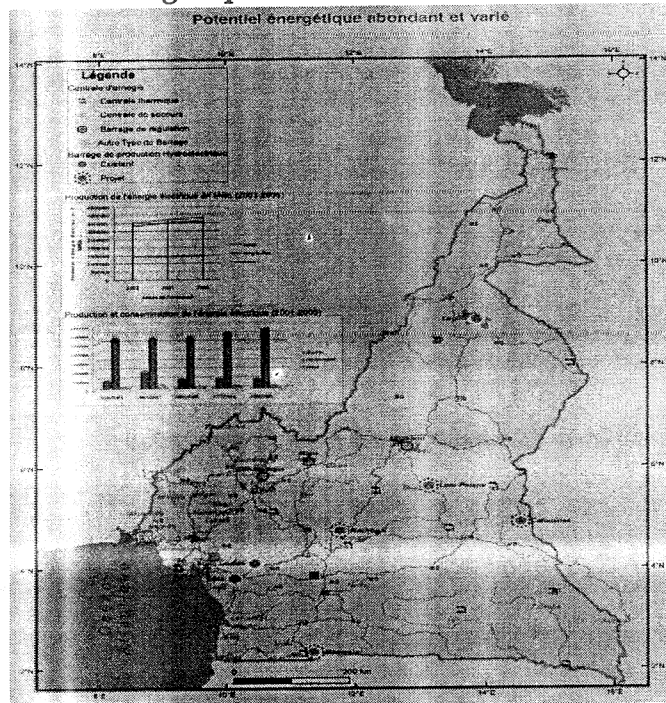
DEUXIÈME PARTIE: ÉVALUATION DE L'AGIR COMPÉTENT (9pts)

THEME : Promotion du développement intégré.

Les supports :

Documents :

Document 1 : Le potentiel énergétique du Cameroun



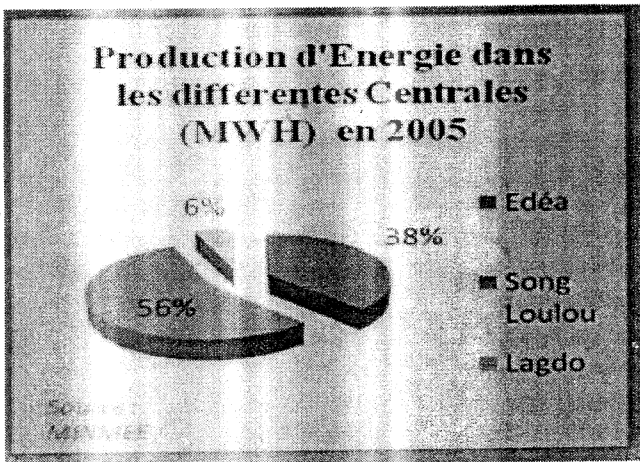
Document 2 : Production d'énergie des Centrales

Source : Wikipédia.fr

Document 3 : Les contraintes des industries Camerounaise

Dans leur fonctionnement, les industries Camerounaises font face à de nombreuses contraintes. La concurrence écrasante et déloyale des produits étrangers; ils sont parfois subventionnés ou qu'ils bénéficient d'un environnement de production plus avantageux, les produits étrangers se vendent à bas prix difficilement applicables par les industriels locaux. Alors, des entreprises telles que CICAM, SOSUCAM, CIMENCAM, UNALOR... font face à cette contrainte sur les marchés locaux. Leur sens de créativité est donc mis à rude épreuve. Au-delà de l'insuffisance des capitaux, l'insuffisance de la main d'œuvre qualifiée, les marchés très peu étendus et l'initiative privée très limitée à cause des tracasseries administratives, l'État pourrait participer dans le sens de la *guerre économique* afin de permettre à ses industriels de tirer leur épingle du jeu et propulser par la même occasion le *made in Cameroon*.

Source : Wikipédia.fr, actualisé 2021.



Source : Minepat, 2010.

Consigne : Les documents ci-dessus évoquent un problème qui affecte l'économie du Cameroun avec acuité. Rédige une production cohérente d'une page s'appuyant sur les tâches ci-après.

1. Présente le problème posé et ses principaux (02) facteurs. (3pts)
2. À partir des documents exploités présente deux arguments (02) qui exposent les contraintes locales de l'industrie Camerounaise. (3pts)
3. Propose deux (02) solutions pour favoriser une industrie Camerounaise plus compétitive. (3pts)

Perfectionnement 2pts