

Collège de la Retraite  
 Noms : .....  
 Prénoms : .....  
 Classe : 3<sup>ème</sup> .....N°.....

BAT  
 O'AP JK

ANNÉE SCOLAIRE 2019/2020

**BEPC BLANC : FEVRIER 2020 EPREUVE DE GEOGRAPHIE Durée : 2H**

Ne rien écrire ici

---

Ne rien écrire ici

INTITULÉ DE LA COMPÉTENCE VISÉE :

APPRÉCIATION AU NIVEAU DE LA COMPÉTENCE (à cocher absolument)

Non acquis	En cours d'acquisition	Acquis

NOTE DE L'ÉVALUATION  
 NOTE TOTALE

PARTIE 1 : ..... PARTIE 3 : .....  
 PARTIE 2 : ..... PARTIE 4 : .....  
VISA DU PARENT OU DU TUTEUR :  
 NOMS & PRÉNOMS : .....  
 DATE : ..... Tél : .....  
 Signature

**EPREUVE DE GEOGRAPHIE**

**I- VÉRIFICATION DES RESSOURCES 9 pts**

**A) Vérification des savoirs**

1- Définitions:

Déforestation : .....  
 .....  
 .....  
 ..... 1 pt

Transhumance : .....  
 .....  
 ..... 1pt

2- Cite 02 conditions de développement de l'agriculture. 1pt

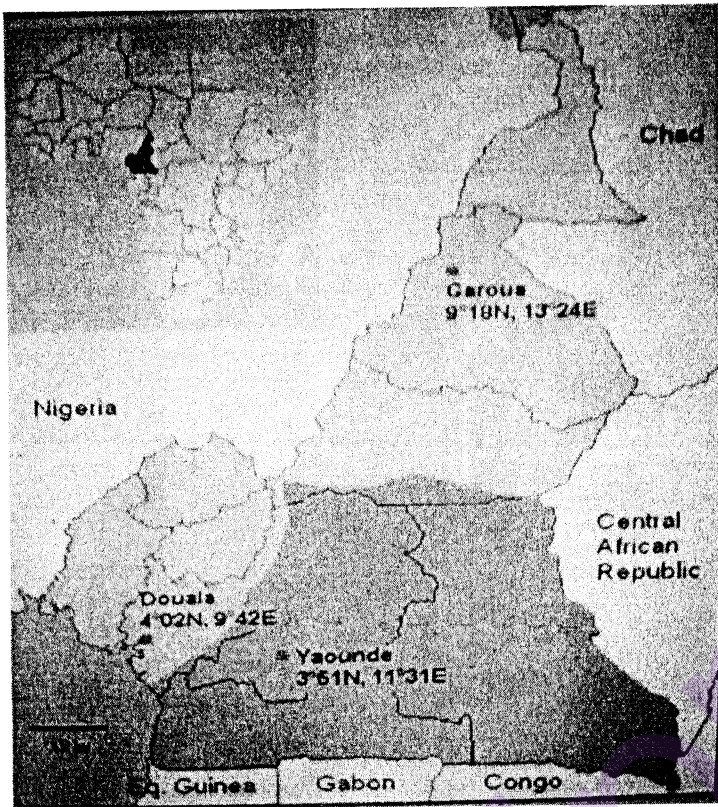
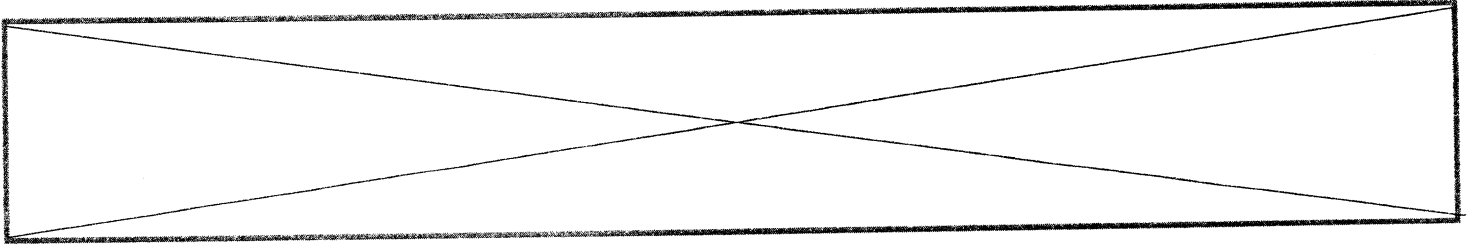
.....  
 .....

3- Donne 02 causes des conflits entre agriculteurs et éleveurs. 1pt

.....  
 .....

**B) Vérification des savoir-faire**

a- Localise par des hachures les différents climats du Cameroun. 2pts



b- Dans la liste suivante, souligne les cours d'eau qui coulent dans le plateau sud camerounais.  
0,5x3=1,5pt

Manyu- Kienké- Logone- Nkam- Dja- Mayo- Mvila- Wouri

c- Relie les types d'industries de la colonne A aux entreprises industrielles correspondantes de la colonne B. 1,5x3=1,5 pt

A	B
Industrie textile -	- ALUCAM
Industrie aéronautique-	- CHOCOCAM
Industrie agroalimentaire -	- CICAM
Industrie métallurgique-	

## II- LA VERIFICATION DES COMPETENCES

**Situation problème :** Les activités piscicoles de ton oncle causent la disparition de certaines espèces de poisson dans les cours d'eau de votre village. Il t'est demandé de résoudre ce problème

**Document1 :** problèmes de la pêche artisanale au Cameroun

Les contraintes liées au développement de la pêche artisanale maritime camerounaise sont nombreuses et diverses. (...) La pauvreté relative aux eaux marines est accentuée par l'exploitation intensive des stocks par la pêche industrielle. (...) Les populations camerounaises côtières traditionnellement tournée vers la mer ont toujours considéré la pêche comme une activité de subsistance. De manière générale leur niveau technologique semble relativement bas en l'absence de formation. Ceci explique d'une part l'absence des




vieux pêcheurs, et d'autres part la prédominance des étrangers aux différents niveaux du système pêche artisanale maritime.

Source : DIPA (1993) Revue sectorielle de la pêche artisanale maritime au Cameroun, Rapport technique N°48, FAO.

**Document 2 : un marché de poisson (photo)**



**Document 3 : Un étang piscicole (photo)**



**Consigne : Effectue les tâches ci-dessous**

1- Identifie le problème évoqué dans la situation ci-dessus. **3pts**

.....

.....

.....

2- A partir des documents proposés, donne 02 problèmes de la pêche au Cameroun. **3pts**

.....

.....

.....

3- Propose à ton oncle 02 solutions pour qu'il obtienne toujours du poisson sans porter atteinte à la survie des différentes espèces. **3pts**

.....

.....

.....

**PRESENTATION : 2 PTS**