

3^{ème}



[Signature]

EVALUATION N° 4 POUR LE COMPTE DU DEUXIEMME
TRIMESTRE :

EPREUVE DE GEOGRAPHIE :

PARTIE A : LA VERIFICATION DES RESSOURCES (09 pts)



A.1. La vérification des savoirs :

1- **Définitions** : (1pt x 2 = 2 pts)

- Artisanat
- Pyramide des âges

2- **Questions de cours** : (1pt x 2=2pts)

- a-Cite deux causes du conflit agriculteurs et éleveurs
- b-donne deux industries agroalimentaires et deux de leurs problèmes au Cameroun

A.2. La vérification des savoir-faire :

1- A partir de la carte N° 1 de l'hydrographie du Cameroun ci-jointe, associe à chaque numéro (1.2.3.4.) de la légende un bassin hydrographique correspondant (0,5 pt x 4 = 2 pts)

2- a) sur le fond de N° 2 ci-joint, localise en variant les hachures la plaine côtière et le plateau sud-camerounais. . (0.75x2=1.5pts)

b) Parmi les produits suivants : café ; manioc, coton, riz, arachide, igname, classe dans le tableau suivant les produits correspondant aux différents types de culture. (0.25x6=1.5pts)

Cultures vivrières	Cultures de rente

[Handwritten mark]

PARTIE B : LA VERIFICATION DE L'AGIR COMPETENT OU DES COMPETENCES (09pts)

Situation problème : Pendant la dernière fête de la jeunesse, votre mère voulait faire plaisir à la famille en organisant un festin. Malheureusement, au marché du quartier elle ne trouve ni poisson, ni viande. Sensibilise ton entourage pour accroître la production animale dans ton quartier.

Document 1 : Les obstacles du domaine agropastoral au Cameroun

.....Qu'il s'agisse de l'élevage ou de l'agriculture, les problèmes sont sensiblement les mêmes. Une main d'œuvre vieillissante, un milieu naturel pas toujours clément. Les personnes impliquées dans l'activité sont pour la plus part des paysans non formés (. . . .) L'accès des producteurs au financement reste très limité à cause de l'absence des structures spécialisées opérants dans ces domaines. La modernisation du secteur demeure le seul moyen pour accroître la productivité.

Martin kuete et al ; nouvelle géographie 3^e Yaoundé EDICEF juin 1991

Document 2 :

Photo 1 : Aménagement d'un étang piscicole.




Photo 2 : Visite d'un étang piscicole.



La production de la pisciculture africaine au sud du Sahara est estimée à 34 000 t en 1989 sur une production mondiale (poissons seuls) de 7 300 000 t. Cette production est essentiellement constituée de tilapias (15 000 t), de *Clarias*, (10 000 t) et de carpes communes (5 000 t). Il s'agit donc d'une activité encore embryonnaire et qui cherche sa voie sur le plan du développement depuis environ un demi-siècle.

L'aquaculture ne contribue encore que très marginalement à l'approvisionnement en protéines d'origine aquatique du continent africain où la production halieutique totale (maritime et continentale) était évaluée en 1989 à 5 000 000 t. La part du poisson dans l'approvisionnement en protéines y est néanmoins très élevée (23,1 %), légèrement moins qu'en Asie (entre 25,2 et 29,3 %), mais loin devant l'Amérique du Nord (6,3 %) ou l'Europe occidentale (9,4 %).

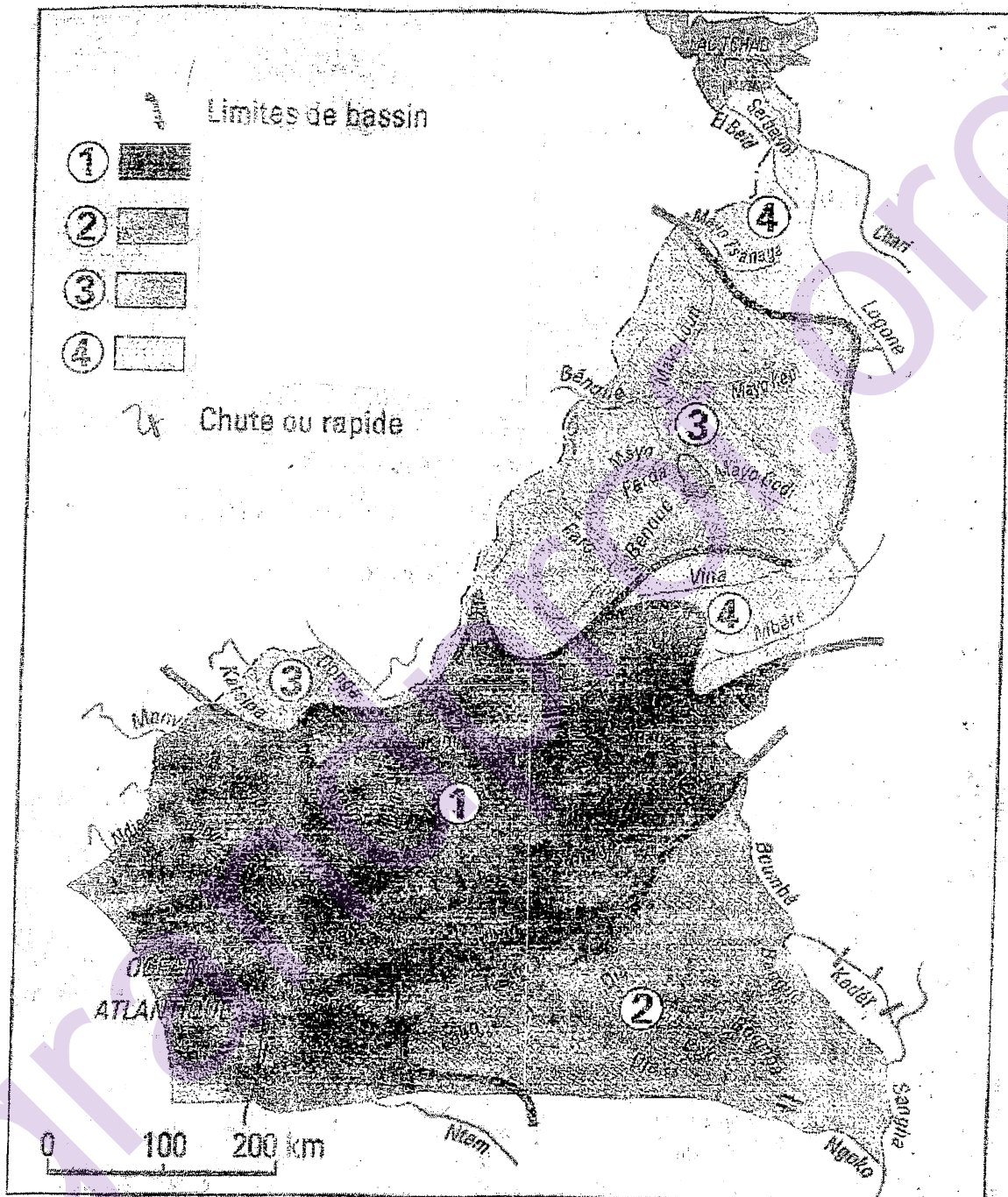
A partir des documents et de vos propres connaissances, effectuez les tâches suivantes :

1. Présente le problème posé dans la situation ci-dessus 3pts
2. Relève dans les documents ~~deux~~ causes de la pénurie des produits agropastoraux dans les marchés. 3pts
3. Propose ~~deux~~ solutions visant à faire accroître la production du poisson et la viande au Cameroun 3pts

Notation de la présentation de la copie : 2pts

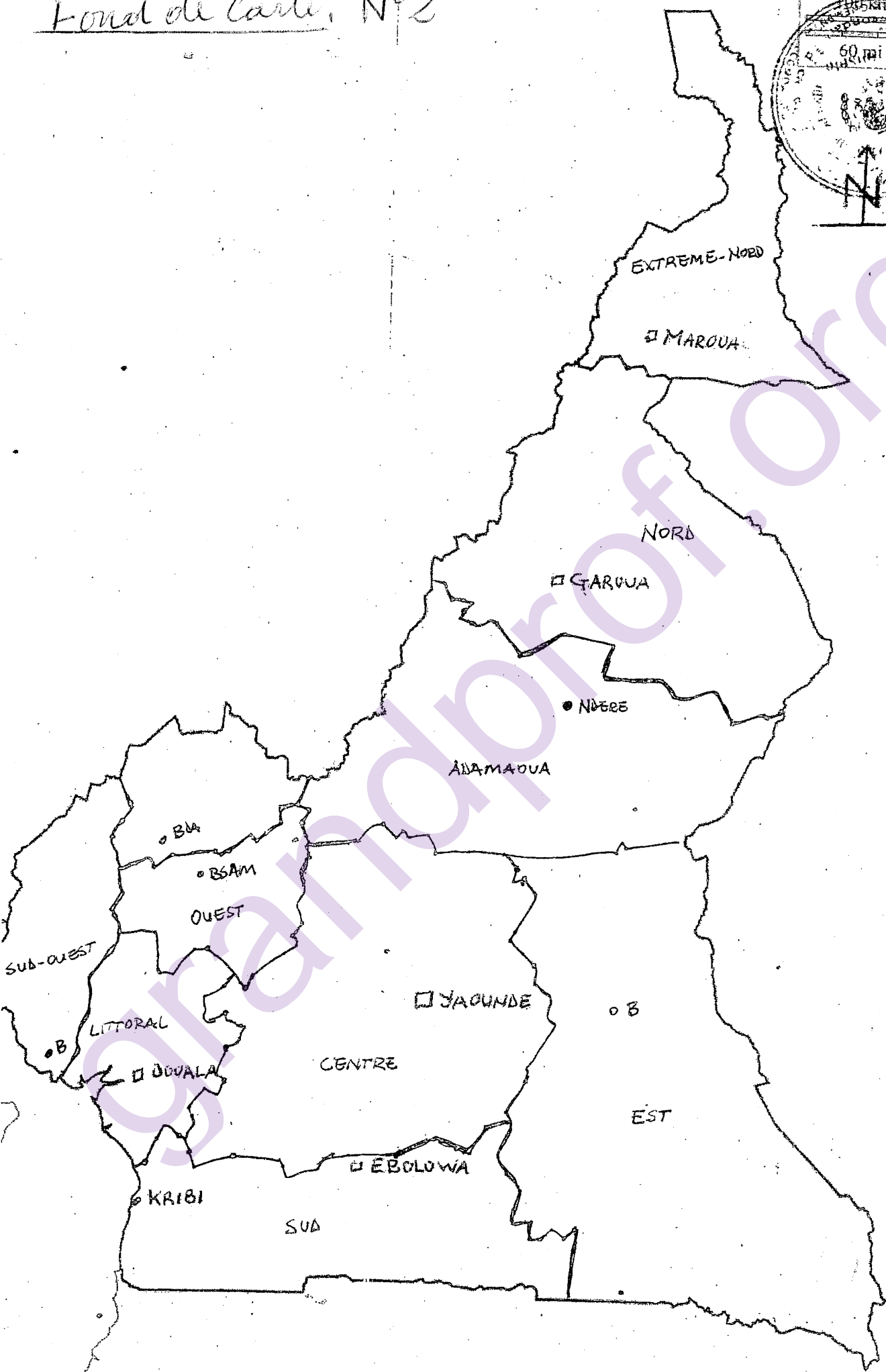
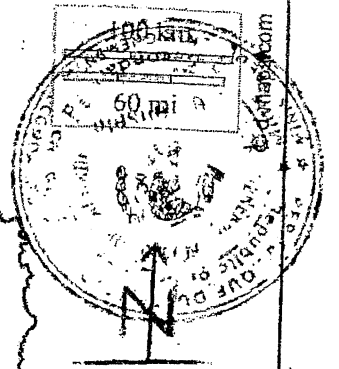
- Propreté de la copie (0.5 pt)
- Lisibilité (0.5 pt)
- Langue (0.5 pt)
- Ecriture (0.5 pt)

Carte: N° 1



L'hydrographie du Cameroun

Fond de carte: N°2



H/A
T